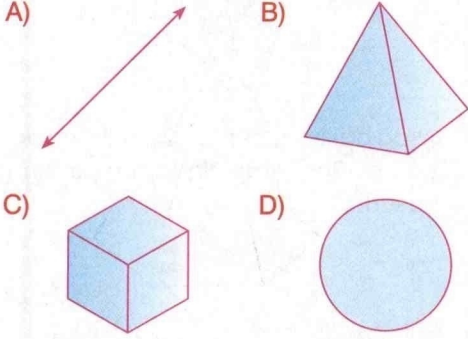


1.



Aşağıdakilerden hangisi bir boyutludur?



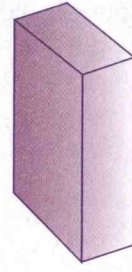
2. Sıralar, tahta ve öğrenciler için uzay aşağıdakilerden hangisidir?

- A) Sınıf                      B) Sokak  
C) Depo                      D) Apartman

3. Kare prizmanın karşılıklı yüzleri nasıl düzlemlere örnektir?

- A) Çakışan düzlemlere  
B) Keşişen düzlemlere  
C) Paralel düzlemlere  
D) Birbirine dik düzlemlere

4.



Yukarıdaki dikdörtgenler prizması kaç boyutludur?

- A) 1                              B) 2  
C) 3                              D) 4

5. Ormanlar, denizler, dağlar, ovalar bulutlar için uzay aşağıdakilerden hangisidir?

- A) Okyanus                      B) Meteoroloji  
C) Dünya                      D) Tabiat

6.  Birbirine eş bölge olan 6 yüzeyi vardır.  
 12 ayrıtı vardır.  
 Karşılıklı ayrıtları birbirine paraleldir.  
 Karşılıklı yüzeyleri birbirine paraleldir  
Yukarıdaki açıklamalar aşağıdaki geometrik cisimlerin hangisine aittir?

- A) Dikdörtgenler prizması  
B) Piramit  
C) Kare prizma  
D) Küp

7.

Zeynep

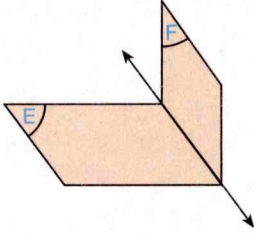


Sınıfımızın tavanı ve tabanı birbirine ..... dir.

Zeynep'in söylediği cümlede noktalı yere gelmesi gereken kelime aşağıdakilerden hangisidir?

- A) düzlem                      B) hacim  
C) dik                              D) paralel

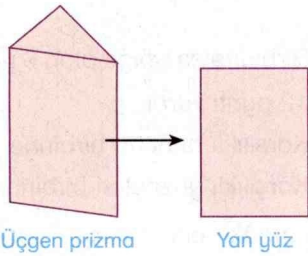
8.



Yukarıdaki şekilde gösterilen E ve F düzlemleri için aşağıdakilerden hangisi söylenebilir?

- A) İki düzlem birbirine paraleldir.  
B) Bir doğru boyunca kesişirler.  
C) İki düzlem üst üste çakışır.  
D) Ortak noktaları yoktur.

9.



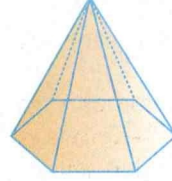
Yukarıdaki üçgen prizmanın bir yan yüzü kaç boyutludur?

- A) 1                                  B) 2  
C) 3                                  D) 4

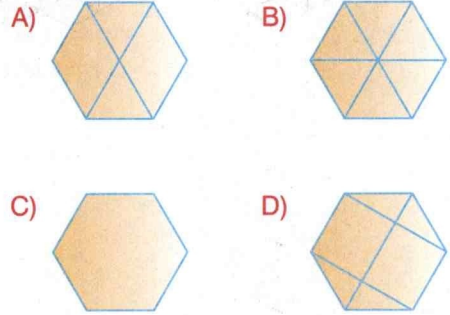
10. Aşağıdakilerden hangisi üçgen prizmanın özelliği değildir?

- A) Alt ve üst tabanları birbirine paraleldir.  
B) Yan yüzeyleri dikdörtgendir.  
C) Tüm yüzleri eşittir.  
D) Dokuz ayrıtı vardır.


11.



Aşağıdakilerden hangisi yukarıdaki düzgün altıgen piramitin tam tepeden görünüşüdür?



12. Aşağıda bir geometrik cismin yüzleri verilmiştir.



Buna göre, bu geometrik cisim aşağıdakilerden hangisidir?

- A) Küp  
B) Kare piramit  
C) Üçgen prizma  
D) Kare prizma