

### S:1

Prizmalar ile ilgili verilen bilgilerden hangisi yanlıştır?

- Prizmaların açılımında karşılıklı yüzleri yan yana gelmez.
  - Kare prizmada yan yüzeylerinin alanları birbirine eşittir.
  - Küpün tüm yüzeyleri birbirine eşittir.
  - Dikdörtgenler prizmasının 7 tane yüzü vardır?
- 

### S:2

En küçük geniş açı kaç derecedir?

- 90
  - 91
  - 89
  - 179
- 

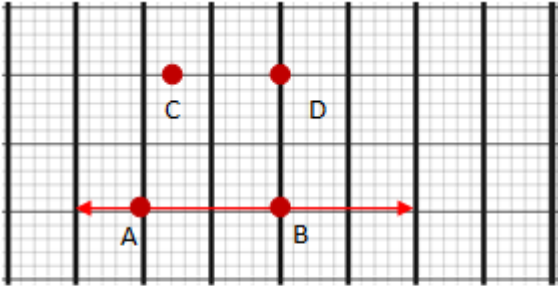
### S:3

- $145^\circ \rightarrow$  Dar Açı
- $35^\circ \rightarrow$  Geniş Açı
- $90^\circ \rightarrow$  Dik Açı
- $180^\circ \rightarrow$  Doğru Açı

Verilen ifadelerden kaç tanesi doğrudur?

- 4  
 3  
 2  
 1
- 

S:4



AB doğrusuna dik bir doğru çizmek için hangi noktalar birleştirilmelidir?

- A-C  
 A-D  
 B-C  
 B-D
- 

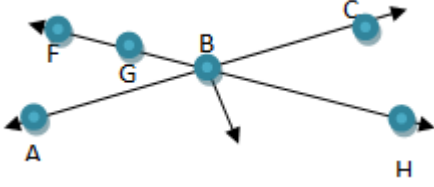
S:5

Aşağıdakilerden hangisi diklik sembolüdür?

A)  $\perp$     b)  $//$     c)  $[ ]$     d)  $| |$

- A  
 B  
 C  
 D
- 

S:6



Verilen şekilde en çok kaç tane doğrudan nokta vardır?

- 5  
 4  
 3  
 2

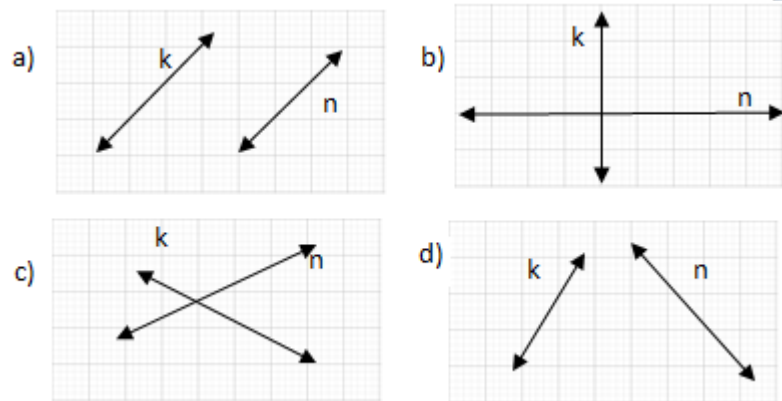
S:7

- İki doğru arasındaki mesafe değişmez.  
 Tek bir noktada kesişir.  
 Birbirlerini dik olarak keserler.  
 Ortak noktaları yoktur.  
 Aynı doğrultuda hareket ederler.

Yukarıdaki ifadelerden kaç tanesi paralel doğrulara aittir?

- 4  
 5  
 3  
 2

S:8



k ve n doğruları hangisinde birbirine diktir?

- A
  - B
  - C
  - D
- 

### S:9

Aşağıdakilerden hangisi doğru parçasını ifade eder?

- [CE
  - [EC
  - EC
  - [CE]
- 

### S:10

“Her iki yönde de sonsuza kadar uzaya bilen, aynı doğrultudaki noktaların birleşimine ..... denir.”

Yukarıdaki boşluğa aşağıdakilerden hangisi gelir?

- Doğru
- Doğru parçası
- Işın
- Nokta