


1)



Küp



Kare Prizma

Yukarıdaki **geometrik cisimlerle** ilgili aşağıdakilerden hangisi yanlış değildir?

- A) İkisinin de tüm yüzleri karesel bölgedir.
- B) Her ikisinin de altı kenarı vardır.
- C) Her ikisinin de sekiz köşesi vardır.

2)



Aşağıdaki **geometrik cisimlerden** hangisi, yukarıdaki nesnelere benzemez?

- A) koni
- B) silindir
- C) küre

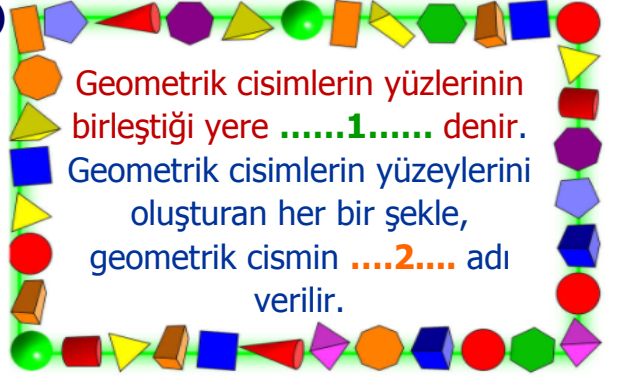
3)

Köşesi ve ayrıtı yoktur, 2 yüzü vardır.	●	●	
6 köşesi, 9 ayrıtı ve 5 yüzü vardır.	●	●	
Köşesi ve ayrıtı yoktur, 3 yüzü vardır.	●	●	

Yukarıdaki özelliklerle cisimler eşleştirilirse ortaya nasıl bir **görüntü** çıkar?

- A)
- B)
- C)

4)



Geometrik cisimlerin yüzlerinin birleştiği yere .....**1**..... denir.

Geometrik cisimlerin yüzeylerini oluşturan her bir şekle, geometrik cismin ....**2**.... adı verilir.

Yukarıdaki açıklamada **noktalı** alanlara sırasıyla hangi kelimeler gelebilir?

2                      1

- A) yüzü - ayrıt
- B) kenarı - köşe
- C) köşesi - yüzü

5)

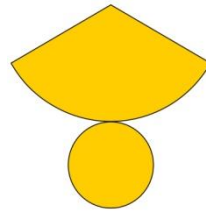


Elimdeki top hangi geometrik cisme benziyor?

Yukarıdaki sorunun cevabı aşağıdakilerden **hangisidir**?

- A) silindir
- B) küre
- C) küp

6)



Yanda açılımı verilen **geometrik cisim** aşağıdakilerden hangisidir?

- A) üçgen prizma
- B) silindir
- C) koni


7)



Yukarıdaki **öğrencilerden** hangisinin gösterdiği geometrik cismin yüzleri iki ayrı geometrik şekilden oluşmaz?

- A) Hale B) Celil C) Ümit

8)



Yukarıdaki **geometrik cisimle** alakalı gösterimlerden hangisi hatalı değildir?

- A) B) C)

9)



Yukarıdaki **geometrik şekillerle** ilgili aşağıdakilerden hangisi doğrudur?

- A) Üçünün toplam **22** ayrıtı vardır.  
B) Üçünün toplam **15** köşesi vardır.  
C) Üçünün toplam **13** yüzü vardır.

10)

Kare prizmanın tüm yüzleri kareye benzer.	
Dikdörtgen prizma ile küpün ayrıt ve köşe sayıları aynıdır.	
Küre ve koninin yüz sayıları birbirine eşittir.	
Dikdörtgen prizmanın iki yüzü kare 4 yüzü dikdörtgendir.	

Yukarıda bilgilerden doğru olana **D**, yanlış olana **Y** yazarsak nasıl bir **görüntü** oluşur?

- A) 

Y
Y
D
Y

 B) 

D
D
Y
D

 C) 

Y
D
Y
Y

11)



Yukarıda geometrik cisimler ile nesnelere eşleştirilmiştir. Buna göre eşleştirmelerden kaç tanesinde **hata** yapılmıştır?

- A) 2 B) 3 C) 4