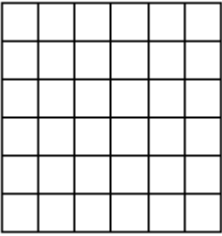


S:1



Yukarıda verilen ve bir kenar uzunluğu 6 cm olan eş karelerden oluşan karenin çevre uzunluğu kaç cm'dir?

- 120
- 134
- 144
- 156

S:2

Bir dikdörtgenin köşegeninin uzunluğu 17 cm'dir. Bu dikdörtgenin kısa kenarının uzunluğu köşegeninin uzunluğundan 9 cm kısadır.

Dikdörtgenin kenarlarının uzunlukları toplamı 46 cm olduğuna göre, uzun kenarın uzunluğu kaç cm dir?

- 10
- 13
- 15
- 16

S:3

KLM üçgeninde $s(m) = 78^\circ$ dir. Buna göre, L ve M açısının ölçüleri sırası ile aşağıdakilerden hangisi gibi olabilir?


- 39°, 71°
 - 51°, 44°
 - 60°, 42°
 - 80°, 26°
-

S:4

Aşağıdakilerden hangisi yanlıştır?

- Karenin bütün kenarlarının uzunlukları birbirine eşittir.
 - Karenin köşegen uzunlukları birbirinden farklıdır.
 - Dikdörtgenin iç açılarının ölçüsü birbirine eşit ve 90° dir.
 - Dikdörtgenin karşılıklı kenar çiftlerini oluşturan doğru parçalarının uzunlukları birbirine eşittir.
-

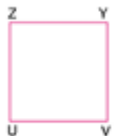
S:5



Yukarıdaki KLMN karesinde $|KL| = 13$ cm'dir. Buna göre aşağıdakilerden hangisi yanlıştır?

- $|KL| = |KM|$
 - $|MN| + |KL| = 26$ cm
 - $|LM| = 13$ cm
 - $|NK| = |MN|$
-

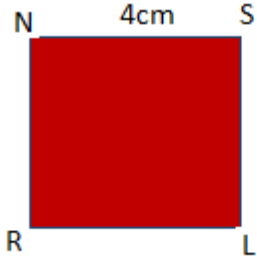
S:6



Yukarıdaki kare , aşağıdakilerden hangisi gibi isimlendirilemez?

- VYZU
 YVUZ
 YUZV
 UVYZ
-

S:7



Verilen NSRL karesi ile ilgili verilen bilgilerden hangisi yanlıştır?

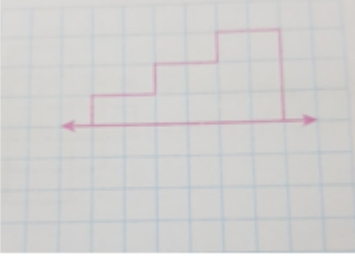
- A. $|SL| = 4 \text{ cm}$
B. $|NR| = |NS|$
C. $|NR| + |RL| = 9$
D. $|NL| + |SL| = 4$
- A
 B
 C
 D
-

S:8

Üçgen, kare ve dikdörtgen ile ilgili verilen bilgilerden hangisi yanlıştır?

- Kenar sayılarına göre isim alırlar.
 Köşeleri büyük harf ile isimlendirilir.
 Üçgen, kare ve dikdörtgenin, kenar ve köşe sayıları eşittir.
 Köşelerdeki harflerin tamamı ile isimlendirilirler.
-

S:9




Verilen Őeklin simetrisi hangi ynde olur?

- Doęu
- Batı
- Kuzey
- Gney

S:10

AŐaęıdaki geometrik Őekillerden hangisi simetrik deęildir?



- A
- B
- C
- D