

1) Aşağıdaki nesnelere hangisi küreye benzer?

A)



B)



C)



2) Aşağıdaki nesnelere hangisi küpe benzer?

A)



B)



C)



3) Aşağıdaki nesnelere hangisi koniye benzer?

A)



B)



C)



4) Yandaki pasta hangi geometrik cisme benzemektedir?




A) Küre

B) Koni


C) Silindir

5) Aşağıdaki geometrik şekillerden hangisinin köşesi yoktur?

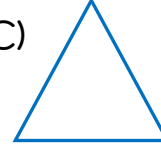
A)



B)



C)




6) Aşağıdakilerden hangisi silindire benzemektedir?

A)



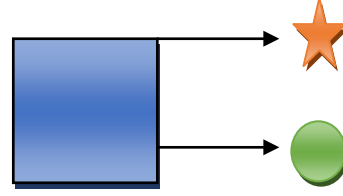
B)



C)




7) Yandaki geometrik şekilde sembollerle gösterilen yerlere hangi seçenektekiler yazılmalıdır?



A)  → kenar

B)  → köşe

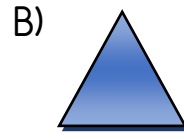
C)  → köşe

 → köşe

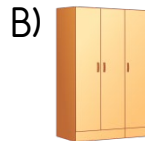

 → kenar

 → yüz

8) Aşağıdaki geometrik şekillerden hangisinin köşe sayısı diğerlerinden azdır?





9) Aşağıdaki geometrik cisimlerden hangisinin köşesi yoktur?




10) Yandaki geometrik cisimlerden kaç numaralı olanın köşesi vardır?



↓


↓


↓


A) 3

B) 2

C) 1

11) Geometrik şekillerden hangisinin kenar sayısı diğerlerinden fazladır?

A) Üçgen

B) Daire

C) Kare

12) Yandaki geometrik cisimlerin arasında aşağıdakilerden hangisi yoktur?



A) Küp

B) Küre

C) Silindir