

- 1)  Yanda verilen şekil için hangisi söylenemez?

- A) Yüzeyinde iki tane üçgen vardır.
B) Altı tane köşesi vardır.
C) Sadece bir yüzü vardır.

- 2) Yanda verilen görselde aşağıdakilerden hangisi yoktur?




- A)  B)  C) 

- 3) Yanda verilen geometrik şekil için aşağıdakilerden hangisi söylenebilir?



- A) Şekilde iki tane daire bulunmaktadır.
B) Daireler birbirine eş değildir.
C) 2 tane köşesi bulunmaktadır.

- 4)  Yanda verilen görsel için aşağıdakilerden hangisi söylenemez?

- A) Sadece bir yüzü vardır.
B) Görüntüsü her yerden aynıdır.
C) Köşesi bulunmaktadır.

- 5) 2 kare ve 4 dikdörtgenden oluşan geometrik şekil aşağıdakilerden hangisidir?



A)



B)



C)

- 6) Aşağıdaki ifadelerden hangisi yanlıştır?

- A) Kürenin bir yüzü vardır.
B) Karenin 4 kenarı 4 köşesi vardır.
C) Üçgenin köşesi yoktur.

- 7) Aşağıdaki görsellerden hangisi silindire benzemektedir?



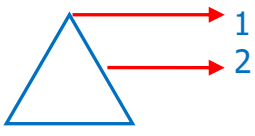
A)



B)






C)

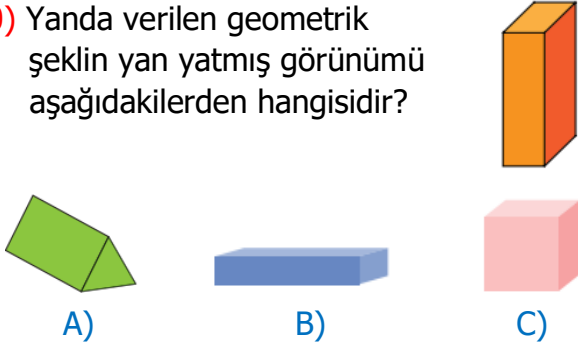
- 8)  Yandaki geometrik şekilde ok işareti ile gösterilen yerlerin isimleri hangi seçenekte doğru verilmiştir?

- A) 1- köşe-2 kenar
B) 1-kenar-2 köşe
C) 1-köşe-2 köşe


9) Aşağıdaki eşleştirmelerden hangisi yanlıştır?

- A)  A blue arrow points from a cylinder to a glass.
- B)  A blue arrow points from a triangular prism to a yellow tent.
- C)  A blue arrow points from a rectangular prism to a Rubik's cube.

10) Yanda verilen geometrik şeklin yan yatmış görünümü aşağıdakilerden hangisidir?



11)



Yanda verilen görsele göre hangisi yanlıştır?

- A) Görsele dikdörtgen bulunmamaktadır.
B) Görsele daire bulunmaktadır.
C) Görsele kare bulunmaktadır.

12)



Yukarıdaki görseller sırasıyla hangi geometrik şekle benzemektedir?

- A) Üçgen prizma-Silindir-Küp
B) Kare prizma-Küp-Küre
C) Dikdörtgen prizma- Silindir-Küre

13) Hangi geometrik şeklin köşe sayısı daha azdır?

- A) Dikdörtgen
B) Üçgen
C) Kare

14) Aşağıdakilerden hangisi dikdörtgenler prizmasının yüzeylerinden birisi olamaz?



15) Aşağıdaki cisimlerden hangisinin köşesi yoktur?

