







1) Aşağıdakilerden hangisi bir örüntü değildir?

- A) 
- B) 
- C) 

2) Aşağıdakilerden hangisi bir örüntüdür?

- A) 
- B) 
- C) 

3) 

Yukarıdaki örüntünün kuralı aşağıdakilerden hangisidir?

- A) 1 üçgen, 2 kare, 3 çember
- B) 2 üçgen, 2 kare, 1 çember
- C) 4 üçgen, 4 kare, 2 çember

4) 

Yukarıdaki örüntüde boş bırakılan yere hangi şekil gelmelidir?

- A) 
- B) 
- C) 

5) 

Yukarıdaki örüntüde boş bırakılan yerlere yazılması gereken geometrik şekillerin köşe sayıları toplamı kaçtır?

- A) 4      B) 7      C) 8




6) "İki arı, bir uğur böceği, üç kelebek"

Yukarıda kuralı verilen örüntü aşağıdakilerden hangisidir?

- A) 
- B) 
- C) 

7) 

Yukarıdaki örüntü nasıl devam etmelidir?

- A) 
- B) 
- C) 

8) Aşağıdaki örüntülerden hangisinin kuralı diğerlerinden farklıdır?



9)

Yukarıdaki örüntüde boş bırakılan yerlere yazılması gereken sayıların toplamı kaçtır?

A) 19      B) 20      C) 21

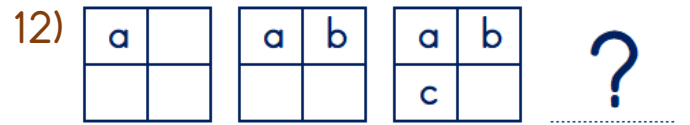


Aşağıdaki örüntülerden hangisinin kuralı yukarıdaki örüntünün kuralına benzemektedir?

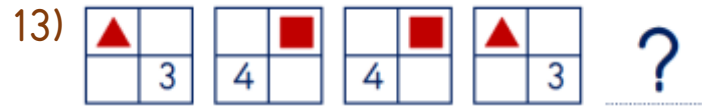
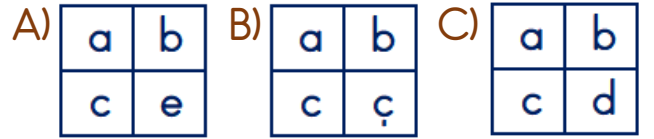


Yukarıdaki örüntüde boş bırakılan yerlere gelmesi gereken hayvanların ayak sayıları toplamı kaçtır?

A) 6      B) 8      C) 10



Yukarıdaki örüntüde soru işareti (?) ile belirtilen yere hangisi gelmelidir?



Yukarıdaki örüntüde soru işareti (?) ile belirtilen yere hangisi gelmelidir?

