


1)

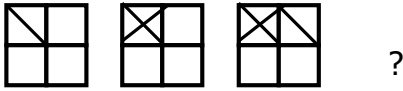


1. Adım 2. Adım 3. Adım

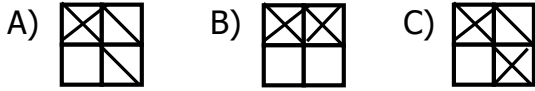
Yukarıdaki örüntüde 5. adımdaki üçgen sayısı 3. adımdaki üçgen sayısından kaç tane fazladır ?

A) 5 B) 4 C) 6

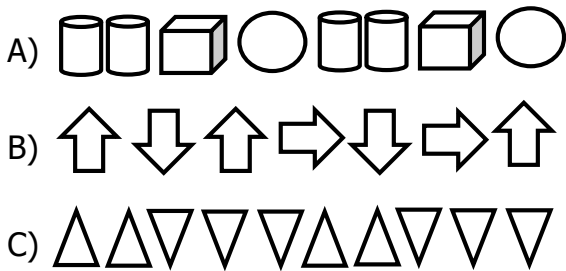
2)



Yukarıdaki örüntüde aşağıdaki şekillerden hangisi gelmelidir ?



3) Aşağıdakilerden hangisi bir örüntü **oluştur-**
maz ?



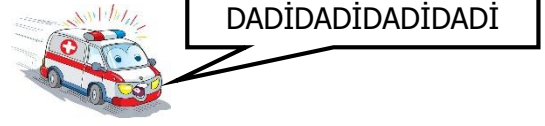
4)



Yukarıdaki örüntüde soru işareti yerine hangi şekil gelmelidir ?

A) B) C)

5)



Aşağıdaki örüntülerden hangisi ambulansın siren sesindeki örüntüyle aynı kurala sahiptir ?

A) + = + - + = + - + = + -
B) ☆ ○ ○ ○ ☆ ○ ○ ○
C) ÷ ☑ ☑ ✎ ✎ ÷ ☑ ☑ ✎ ✎

6)



Yukarıdaki örüntüde kuralı bozan şekil aşağıdakilerden hangisidir ?

A) ☺ B) ☀ C) ♥

7)



Yukarıdaki örüntüde soru işareti yerine aşağıdakilerden hangisi gelmelidir ?

A) B) C)

8)



Yukarıdaki örüntünün kuralıyla aynı kurala sahip örüntü hangisidir ?

A) **A A B C C A A B C C**
B) C)