

1)



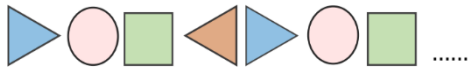
Yukarıdaki geometrik örüntüde kullanılmayan şekil hangisidir?

- A) üçgen B) daire C) kare

2) Aşağıdakilerden hangisi bir geometrik örüntüdür?

- A) B) C)

3)



Yukarıdaki örüntüde verilmeyen şekil hangisidir?

- A) B) C)

4)



Yukarıdaki örüntünün kuralı hangisidir?

- A) B) C)

5)

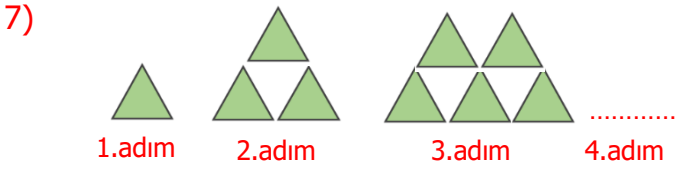
E B E B E T

Yukarıdaki örüntüde kuralı bozan harf hangisidir?

- A) **E** B) **T** C) **B**

6) Kuralı 2 daire 1 yıldız olan örüntü aşağıdakilerden hangisidir?

- A) B) C)



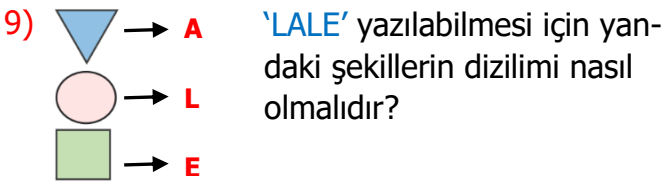
Yukarıdaki örüntünün 4.adımında kaç tane üçgen bulunmalıdır?

- A) 9 B) 10 C) 7



Aşağıdaki örüntülerden hangisinin kuralı yukarıdaki örüntü kuralı ile aynıdır?

- A) **E L L E** B) **A A B B**
C) **1 0 1 0**

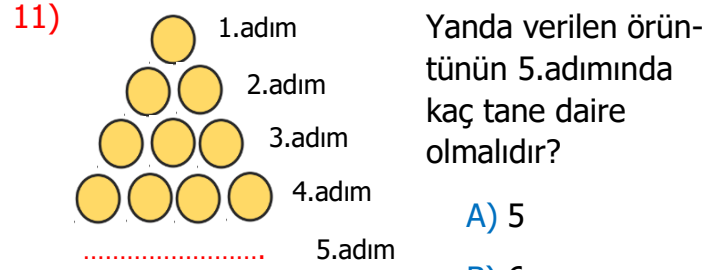


- A) B)
C)



Yukarıdaki örüntü hangisi ile devam etmelidir?

- A) B) C)



Yanda verilen örüntünün 5.adımında kaç tane daire olmalıdır?

- A) 5
B) 6
C) 7



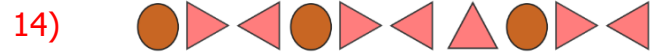
Yukarıdaki sıralamaya göre sıradaki renk hangisi olmalıdır?

- A) sarı B) mavi C) kırmızı



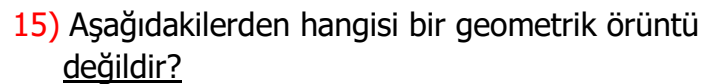
Yukarıdaki örüntüde boş bırakılan yerlere sırasıyla hangi harfler yazılmalıdır?

- A) K-L B) L-K C) M-M



Yukarıda verilen örüntüde hangi şekil kuralı bozmaktadır?

- A) B) C)



- A)
B)
C)