



- 1) Gemi ile hap batıya giderek Dünya'nın ..... şekline benzediğini Macellan kanıtlamış oldu.


Yukarıdaki ifadelerde boş bırakılan yere hangisi yazılmalıdır?

- A) tepsi B) küre C) koni

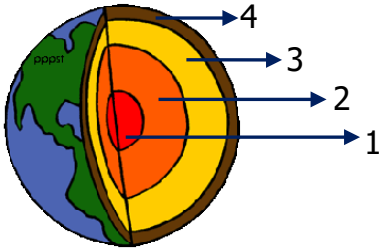
- 2) Dünya'nın katmanlarıyla ilgili hangi öğrencinin ifadesi yanlıştır?

A)  Suların kapladığı alan, karaların kapladığı alandan fazladır.

B)  Kara katmanı taş, toprak ve kaya gibi maddelerden oluşur.

C)  Hava katmanını Dünya yüzeyinde görebiliriz.

- 3)



Dünya modelinde numaralandırılmış katmanlar hangisinde verilmiştir?

	İç çekirdek	Dış çekirdek	Manto çekirdek	Yer kabuğu
A)	4	3	2	1
B)	1	2	3	4
C)	3	2	1	4

- 4) "Dünya'nın denizde yüzen bir tepsiye benzediğini düşünüyoruz."  
Yukarıda Dünya'nın yapısı ile ilgili düşüncüyü hangi uygarlık öne sürmüştür?

- A) Mısırlılar  
B) Yunanlılar  
C) Babiller

- 5) "Gökyüzünde giden bir uçak düz bir çizgide gidiyormuş gibi görünür."  
Bunun sebebi aşağıdaki hangi ifade ile açıklanır?

- A) Gökyüzü'nün düz olmasından  
B) Dünya'nın şeklinin yuvarlak olmasından  
C) Uçakların çok yüksekte uçmasından

- 6)  Toprak ve suda hava bulunmaz.  
 Hava katmanına atmosferde denir.  
 Dünya üzerinde mavi renkteki kısımlar su katmanını göstermektedir.

Yukarıdaki ifadelerin doğru olanlarına "D", yanlış olanlarına "Y" yazılırsa kutuların görünümünü hangi seçenekteki gibi olur?

- A)  Y  D  D  
B)  D  Y  D  
C)  D  D  D

- 7) Yaklaşmakta olan bir teknenin önce yelkeninin daha sonra tamamının görülmesinin sebebi aşağıdakilerden hangisidir?



- A) Dünya'nın tepsi şeklinde düz olması  
B) Dünya'nın şeklinin yuvarlak olması  
C) Gemilerin bacalarının büyük olması

- 8) Aşağıdaki ifadelerden hangisi Dünya'nın şekli ile ilgili geçmişte öne sürülen görüşlerden biri değildir?

- A) Dünya'nın bir öküzün boynuzları arasında olduğunu düşünmüşler.  
B) Dünya'nın kaplumbağa sırtındaki dört fil tarafından taşındığını düşünmüşler.  
C) Dünya'nın şeklinin küre şeklinde olduğunu düşünmüşler.

9) Denizler, okyanuslar, göller ve akarsulardan oluşur.

Dünya'nın etrafını ince bir battaniye gibi saran katmandır.

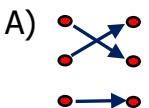
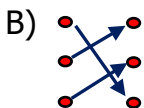
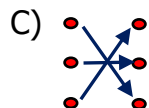
Yeşil, sarı ve kahverengi görünen kısımlardan oluşur.

Hava Katmanı


Kara Katmanı

Su Katmanı

Yukarıdaki ifadelere göre doğru eşleştirme hangi seçenekte verilmiştir?

- A)  B)  C) 

- 10)



Görseldeki varlıkların bulunduğu katmanlar hangi seçenekte doğru verilmiştir?

- |         | 1 | 2    | 3    |
|---------|---|------|------|
| A) Kara |   | Su   | Su   |
| B) Hava |   | Kara | Hava |
| C) Su   |   | Hava | Kara |

- 11) I.Uzaydan bakıldığında dünya mavi görünür.

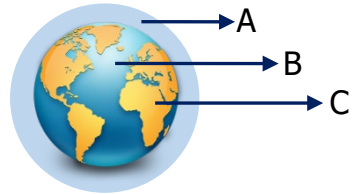
II.Dünya yüzeyinde karalar daha fazla alan kaplar.

III.Dünya canlılara ev sahipliği yapan bir gezegendir

Yukarıdaki ifadelerden hangileri doğrudur?

- A) Yalnız I  
B) I ve II  
C) I ve III

- 12)



Harflerle gösterilen katmanlar sırasıyla hangi seçenekte doğru olarak verilmiştir?

- |         | A | B    | C    |
|---------|---|------|------|
| A) Kara |   | Hava | Su   |
| B) Hava |   | Su   | Kara |
| C) Su   |   | Kara | Hava |