

1)



Yukarıdaki görseli anlatan cümle aşağıdakilerden hangisidir?

- A) Hafta sonu ailece pikniğe gittik.
- B) Ödevlerimi erkenden bitirdim.
- C) Ailece yemek yiyoruz.

2)






Yukarıdaki görsel Nasrettin Hoca'nın hangi fıkrası için uygundur?

- A) Parayı Veren Düdüğü Çalar
- B) Kazan Doğurdu
- C) Kedi Nerede?

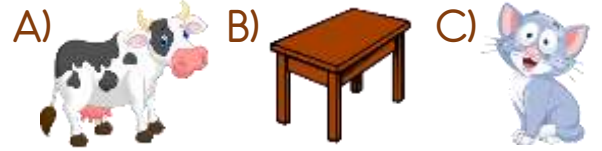
3) Aşağıdakilerden hangisi yandaki görselde yoktur?



- A) Ördek
- B) Güneş
- C) Göl

- 4)  Dört tane ayağı vardır.
 Canlı bir varlıktır.
 Evin içinde de bulunabilir.

Yukarıda özellikleri verilen varlık aşağıdakilerden hangisidir?



- 5) "Taş ve toprak gibi şeyleri taşımaya yarayan, tek tekerlekli ve iki kolu, el ile sürülen küçük araba."

Yukarıda tanımı yapılan varlık aşağıdakilerden hangisidir?



6)



Görseldeki olayın yaşandığı yer neresi olabilir?

- A) Hastane
- B) Park
- C) Cami

7)



Yukarıdaki görsel ile ilgili verilen ifadelerden hangisi yanlıştır?

- A) Görselde üç çocuk var.
- B) Çocuklar körebe oynuyorlar.
- C) Bahçede oynuyorlar.

8) Kaynakları tasarruflu kullanmıyoruz. Bu konuda yapabileceğimizden bir tanesi de gereksiz yere açık olan lambaları kapatmaktır.

Yukarıdaki paragraf için en uygun görsel hangisidir?



9)



Yukarıdaki görselde aşağıdaki varlıklardan hangisi yoktur?

- A) Kalem tıraş
- B) Yazı tahtası
- C) Beslenme çantası

10) Aşağıdaki mesleklerden hangisi sağlık ile ilgilidir?



11) Görseldeki çocuğun yaptığı hata aşağıdakilerden hangisidir?



- A) Elini yıkarken gülmek
- B) Suyu gereğinden fazla açmak
- C) Elini iyi yıkamamak