

4.Ünite: Güvenli Hayat

1. "..... insanların bir yerden başka bir yere gitmesidir."

Yukarıdaki cümle en uygun nasıl başlamalıdır?

- A) İletişim B) Ulaşım C) Taşıtlar

2. Aşağıdaki ulaşım türleri ve taşıtları eşleştirmesinde hangi seçenek yanlış eşleştirilmiştir?

A) kara yolu → tramvay

B) deniz yolu → vapur

C) demir yolu → tren

3. Araçla yolculuk yaparken aşağıdakilerden hangisini yapmak tehlikeli olabilir?

A) Araçta tüm yolcuların emniyet kemerini takması

B) Yolcuların, sürücünün dikkatini dağıtacak hareketler yapmaması

C) On yaşındaki bir çocuğun emniyet kemerini takarak ön koltuğa oturması

4. Toplu taşıma araçlarında aşağıdakilerden hangisini yapmamalıyız?

A) Taşıt pencerelerinden elimizi, kolumuzu uzatmamalıyız.

B) Araçta içinde yüksek sesle konuşmalıyız.

C) Yaşlılara yer vermeliyiz.

5. Aşağıdaki ifadelerden hangisi doğrudur?

A) Okul servis aracını beklerken kaldırımın yola yakın bölümünde durmalıyız.

B) Servis aracı içinde gürültü yapmalıyız.

C) Yolculuk bitene kadar yerimizden kalkmamalıyız.

6. Aşağıdaki çocuklardan hangisinin trafikle ilgili davranışı doğru değildir?



Trafikte yardıma ihtiyaç duyan kişilere yardım ederim.



Trafikte insanlara yardım ederken adımızı ve adresimizi söylerim.



Trafikte çevremizdeki tanıdığımız kişilerden yardım alırım.

7. Aşağıdaki taşıtları, taşıt türlerine göre gruplayacak olsak hangisi grup dışı kalır?



B)



C)



4. Ünite: Güvenli Hayat

8. Evimizde ve okulumuzda kullandığımız teknolojik araç ve gereçler

Yukarıdaki cümleyi en uygun nasıl tamamlayabiliriz?

- A) yaşantımızı kolaylaştırır.
- B) yaşantımızı zorlaştırır.
- C) aile bağlarını güçlendirir.

9. ■ 155 Trafik kazalarında yandaki hangi
★ 112 numaralar aranmalıdır?
● 122

- A) ■ ★
- B) ■ ★ ●
- C) ■

10. Teknolojik araç gereçlerin güvenli kullanımıyla ilgili aşağıdaki bilgilerden hangisi yanlıştır?




- A) Elektrikli ev aletlerini kullanırken kablolarıyla oynamamalıyız.
- B) Bilgisayar kullanırken dik oturmalıyız.
- C) Cep telefonu ile uzun süre konuşabiliriz.

11. Aşağıdakilerden hangisi güvenli oyun alanı değildir?

- A) 
- B) 
- C) 

12. İtfaiye ○ ○ 156
Jandarma ○ ○ 122
AFAD ○ ○ 110

Yukarıdaki acil yardım kurumlarıyla telefonları eşleştirildiğinde hangi seçenekteki görünüm ortaya çıkar?

- A) 
- B) 
- C) 

13. 1. Kask, dirseklik ve dizlik takmalıyız.
2. Bisiklet, paten gibi oyun araçlarını kullanırken hız yapmalıyız.
3. Kaykay, bisiklet gibi oyun araçlarını, araç trafiğine kapalı alanlarda kullanmalıyız.

Yukarıdaki hangi bilgiler, parklarda oyun araçlarını kullanırken dikkat etmemiz gereken kurallardandır?

- A) 1, 2, 3
- B) 1, 3
- C) 1

14. Aşağıdakilerden hangisi toplu taşıma araçlarına doğru inme-binme kuralıdır?

- A) Taşıtlara sıraya girmeden aceleyle binmeliyiz.
- B) Taşıtlardan inmek için taşıtın durmasını beklemeden inmeliyiz.
- C) Araçların ön kapısından binmeli, arka kapısından inmeliyiz.