

## 9. Sınıf Coğrafya Harita Bilgisi Testi Çöz 6

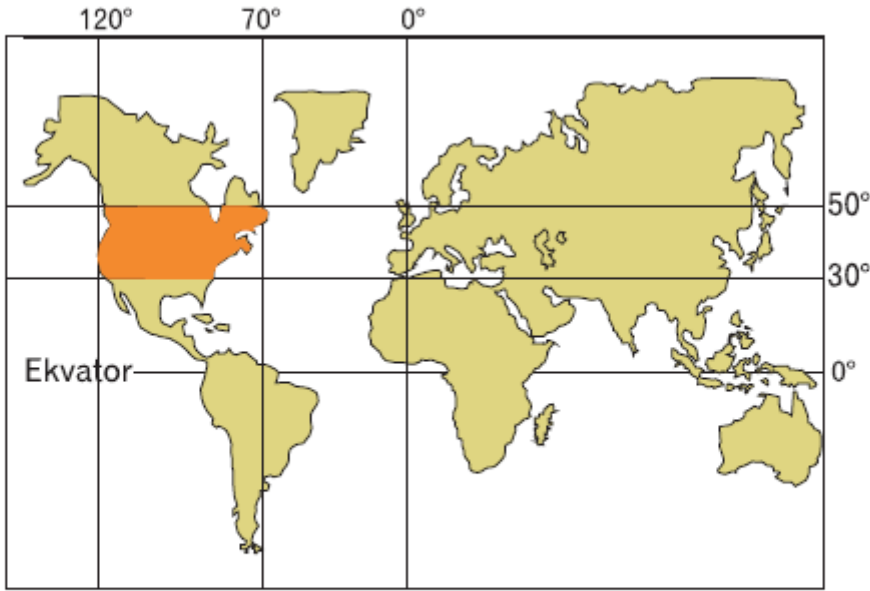
1. Türkiye'de aynı boylam üzerinde yer alan iki kentten kuzeyde bulunan kentte yazın Güneş daha erken doğup, daha geç batmaktadır.

**Bu durum aşağıdakilerden hangisinin göstergesidir?**

- A) Gündüz süresinin daha uzun olması
- B) Daha doğuda bulunması
- C) Başlangıç Meridyeni'ne uzaklıklarının aynı olması
- D) Dünya'nın batıdan doğuya doğru dönmesi
- E) Dünya'nın Güneş'ten uzaklaşması

Cevap : A

2.



**Yukarıdaki haritada taranmış alanla ilgili sadece haritada verilenlere bakılarak, aşağıdakilerden hangisine ulaşamaz?**

- A) Kuzey Yarımküre'de Orta Kuşak'ta yer almaktadır.
- B) Tarih değiştirme çizgisi ile en batısı arasında 4 saat zaman farkı vardır.
- C) Zengin yer altı ve yer üstü kaynaklarına sahip olduğundan ekonomisi gelişmiştir.
- D) Güneş ışınlarını yatay bir düzlemde yıl boyu 90° den daha küçük açılarla alır.
- E) Kuzeyden esen rüzgarlar sıcaklığı düşürürken güneyden esen rüzgarlar sıcaklığı yükseltir.

Cevap : C

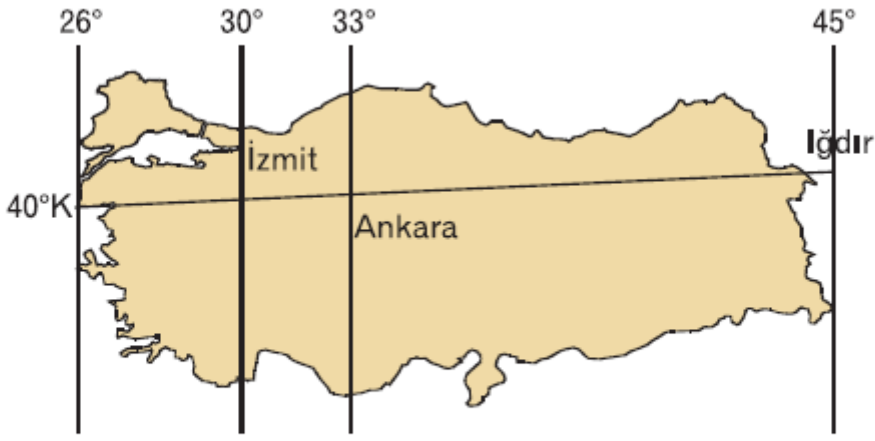
3. Dünya üzerindeki herhangi bir noktanın doğusunda yerel saat ileriyken, batısında geridir.

**Sözünü destekleyen cümle aşağıdakilerden hangisidir?**

- A) Dünya'nın kendi eksenini etrafında dönüş yönü, batıdan doğuya doğrudur.
- B) Dünya'nın eksen eğikliği nedeniyle yıl içinde bir takım değişiklikler yaşanır.
- C) Yeryüzünde deniz suyu sıcaklıkları, genel olarak Ekvator'dan kutuplara gidildikçe azalır.
- D) Troposferde sıcaklıklar, yükseldikçe her 200 m'de 1°C azalır.
- E) Dünya'nın Güneş etrafındaki dönüş yönü saat ibresinin aksine doğrudur.

Cevap : A

4.

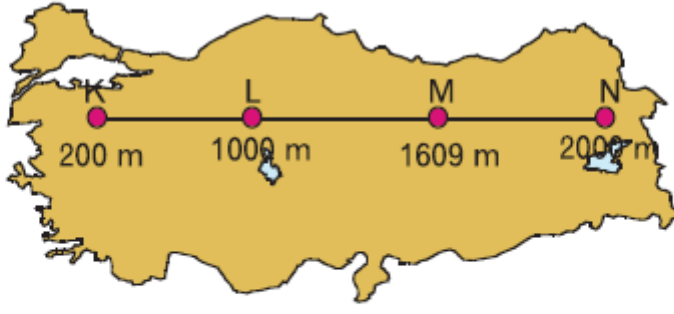


**Yukarıda haritada verilenlere bakılarak aşağıdakilerden hangisine ulaşamaz?**

- A) Ankara ve Iğdır Ekvator'a yaklaşık aynı uzaklıktadır.
- B) İzmit'le Ankara arasında 12 dakikalık yerel saat farkı vardır.
- C) Iğdır'ın yerel saati ile ulusal saat yıl boyu aynıdır.
- D) Güneş, Iğdır'da doğduktan 1 saat sonra İzmit'te doğar.
- E) Iğdır'da Güneş battıktan 48 dakika sonra Ankara'da batar.

Cevap : C

5.



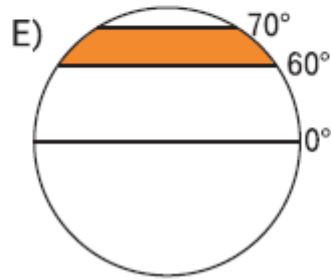
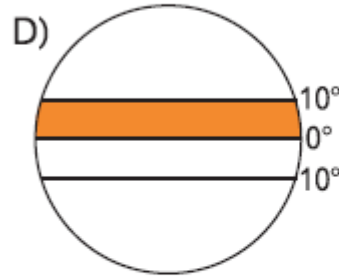
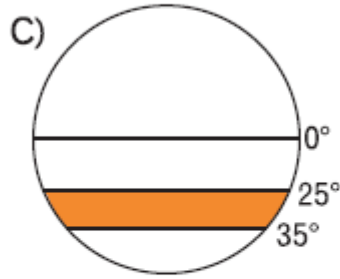
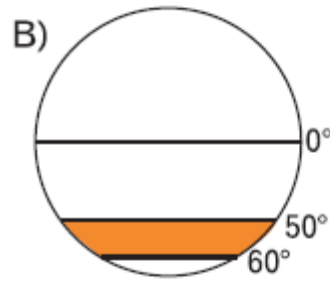
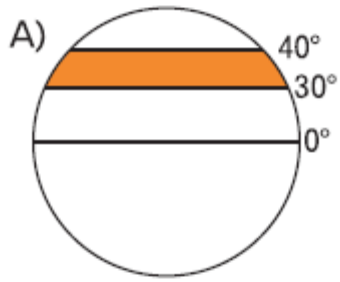
**Yukarıdaki haritada gösterilen K, L, M ve N merkezleriyle ilgili aşağıdaki yargılardan hangisine ulaşamaz?**

- A) Aynı anda ölçülen sıcaklıkların en yüksek olduğu merkez K'dır.
- B) Öğle vakti güneş ışınları farklı açıyla gelmektedir.
- C) N merkezinde karasallık en şiddetlidir.
- D) M ve L merkezleri arasında genelde  $3^{\circ}\text{C}$  sıcaklık farkı yaşanır.
- E) L merkezinde sıcaklık genellikle M ve N merkezine göre daha yüksektir.

Cevap : B

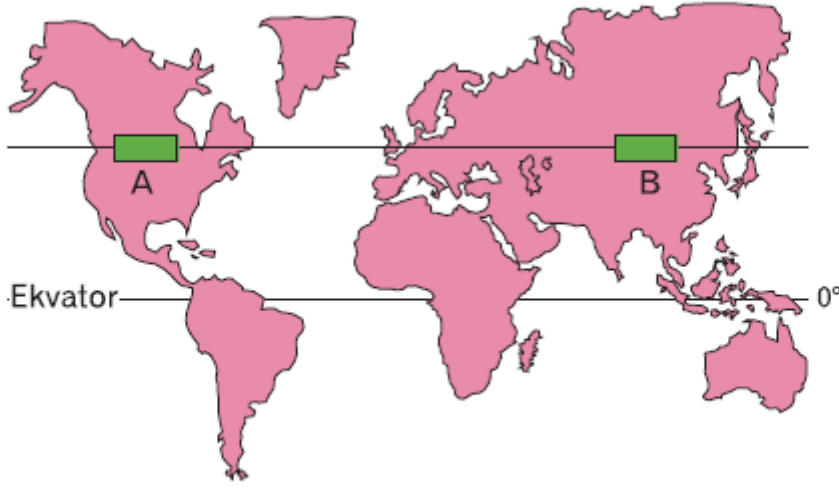
6. – İnsanların ısınma sorunu genelde olmaz.  
– Yüksek nemlilik nedeniyle sulama amaçlı baraj yapılmaz.  
– Konutlar genellikle bambu veya ahşap malzemeden yapılır.  
– Bitki örtüsü yağmur ormanları olup yıl boyu yeşil kalırlar.

**Buna göre, aşağıdaki şekillerin taranmış alanlarından hangisinde yukarıdaki özelliklerin tamamı görülebilir?**



Cevap : B

7.

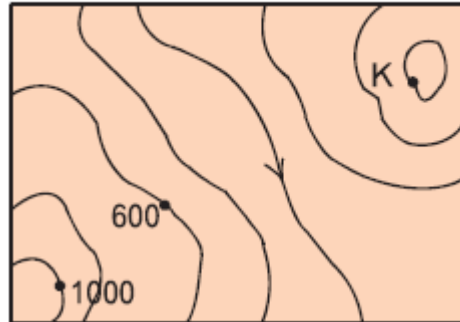


**Yukarıdaki haritada işaretli A ve B bölgelerinde benzer iklim ve bitki örtüsünün görülmesi aşağıdakilerden hangisiyle açıklanamaz?**

- A) Güneş ışınlarının geliş açısı ve yükseltilerinin benzerliğiyle
- B) Enlem ve benzer karasallık özellikleriyle
- C) Coğrafi konumlarındaki benzerliğiyle
- D) Kuzey Yarımküre'de yer almalarıyla
- E) Denizlere ve Ekvator'a olan uzaklıklarının benzerliğiyle

Cevap : B

**8. Yandaki izohips haritasında gösterilen K merkezinin yükseltisi aşağıdakilerden hangisinde doğru olarak verilmiştir?**



- A) 200 m
- B) 400 m
- C) 600 m
- D) 800 m
- E) 1000 m

Cevap : B

9. Yer şekillerini gösterme yöntemlerinden biri de, eş yükselti eğrileri (izohips) yöntemidir. İzohipsler, deniz seviyesinden eşit yükseklikteki noktaların birleştirilmesiyle elde edilen iç içe kapalı eğrilerdir.

**Aşağıda verilenlerden hangisi izohipslerin özellikleri arasında yer almaz?**

- A) Boğazlar → • ← işaretleriyle gösterilirler.
- B) Kıyı çizgisi en geniş eğridir.
- C) Eğimin arttığı noktalarda birbirlerine yakın çizilirler.
- D) Birbirlerini kesmezler.
- E) Dağ doruklarında nokta halini alırlar.

Cevap : A

[Online Test Çöz](#)

[Pdf İndir](#)