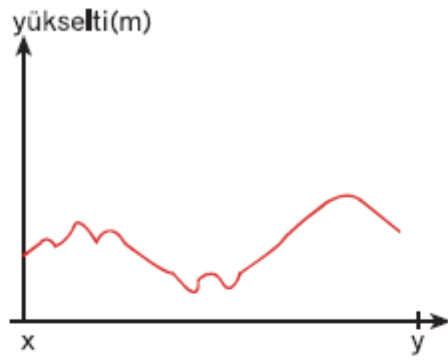
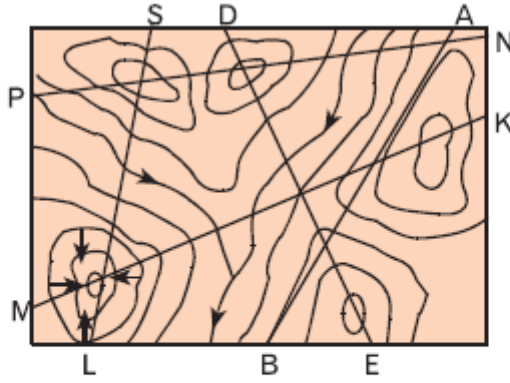


## 9. Sınıf Coğrafya Harita Bilgisi Testi Çöz 7

1.

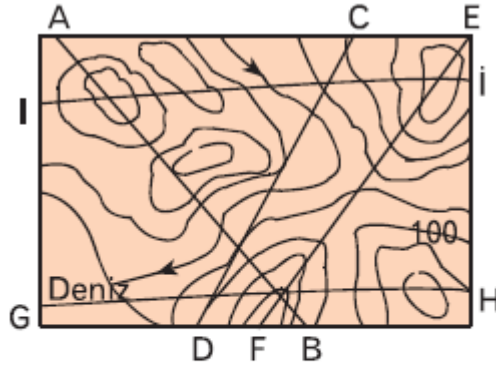


**Yukarıdaki x-y doğrultusundaki yer şekli profili izohips haritasında numaralandırılmış doğrultulardan hangisine aittir?**

- A) P-N    B) M-K    C) S-L    D) D-E    E) A-B

Cevap : B

2. Eşyükseiti eğrileriyle gösterilmiş yandaki haritada verilen doğrultuların hangisinden çizilen profilde yükselti farkı en azdır?



- A) A-B    B) C-D    C) E-F    D) G-H    E) I-I

Cevap : B

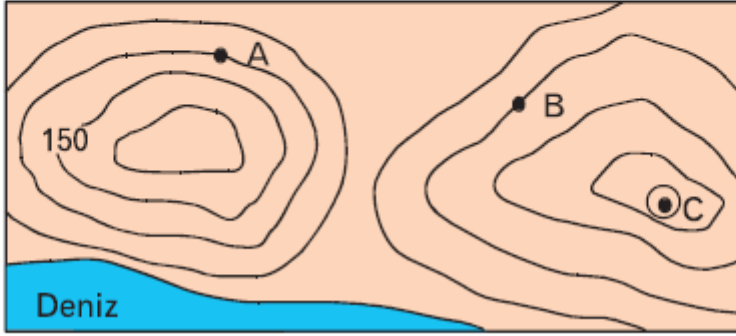
3. Bir haritada A-B arası uzaklık 4 cm, haritanın ölçeği ise 1/300.000 dir.

**A-B arası yükselti farkı 240 m olduğuna göre eğim (‰) binde kaçtır?**

- A) 5    B) 10    C) 15    D) 20    E) 25

Cevap : B

4. Aynı yükseltideki noktaları birleştiren eğrilere, eş yükselti eğrisi veya izohips denir. Birbirini çevrelemeyen komşu izohipslerin yükseltileri eşit iken büyük eğri yükseltisi daha fazla olan eğriyi çevreler.

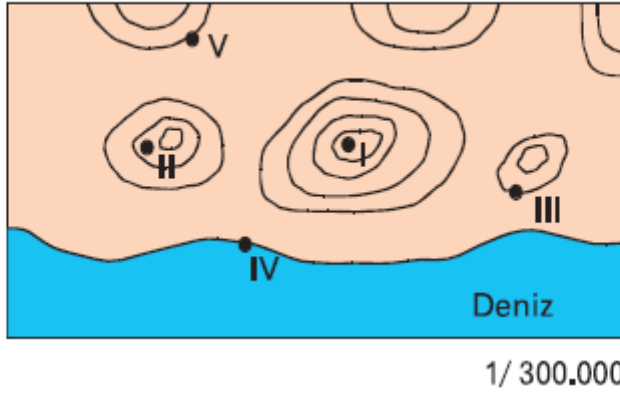


**Buna göre, haritadaki A, B ve C noktalarının yükseltileri aşağıdakilerden hangisinde gösterilmiştir?**

<u>A</u>	<u>B</u>	<u>C</u>
A) 50	50	100
B) 100	100	250
C) 100	250	500
D) 150	150	300
E) 200	200	400

Cevap : B

5.

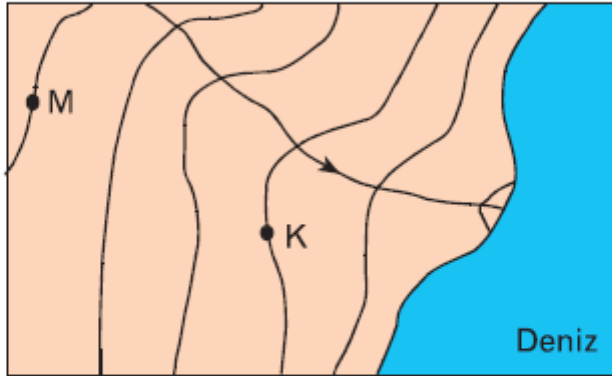


**Yukarıdaki izohips haritasında işaretlenmiş noktaların hangisinden bakan bir gözlemci daha geniş alanlar görecektir?**

- A) I      B) II      C) III      D) IV      E) V

Cevap : A

**6. Aşağıdaki izohips haritasında yükselti aralıkları 50 metredir.**

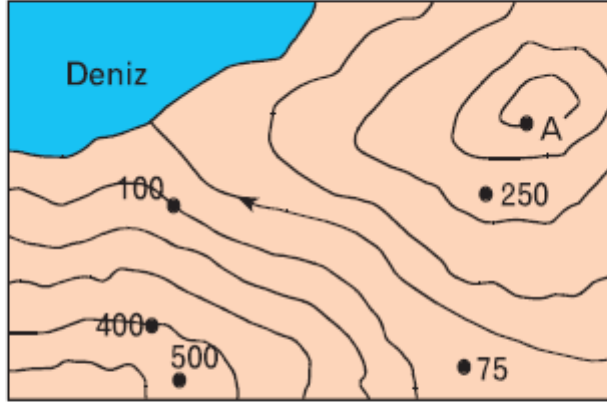


**Buna göre, M ve K noktalarının yükseltilerinin toplamı kaçtır?**

- A) 150      B) 200      C) 250      D) 300      E) 350

Cevap : A

7. Aşağıdaki haritada A noktasının yükseltisi 400 metredir.

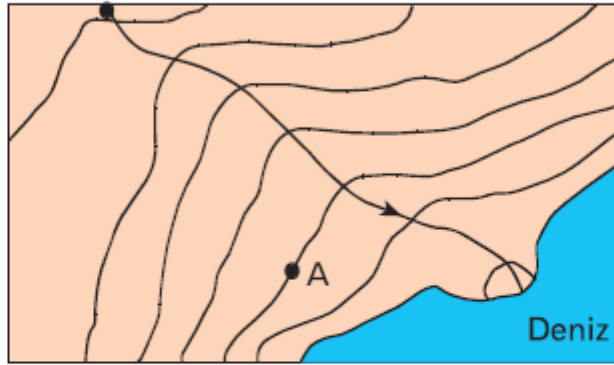


**Buna göre, haritada hangi yükselti değeri yanlış verilmiştir?**

- A) 75      B) 100      C) 350      D) 400      E) 500

Cevap : A

8. Aşağıdaki haritada verilen A noktasının yükseltisi 500 metredir.

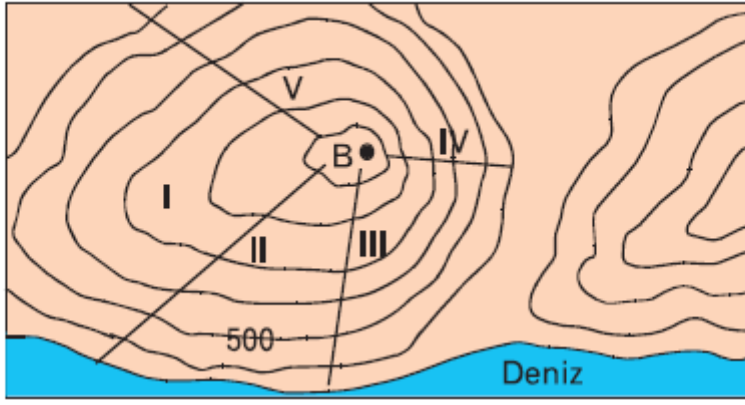


**Buna göre, haritada görülen akarsuyun bulunduğu yükselti kademeleri arasındaki fark yaklaşık kaç metredir?**

- A) 1000      B) 1500      C) 2000      D) 2500      E) 3000

Cevap : B

9.

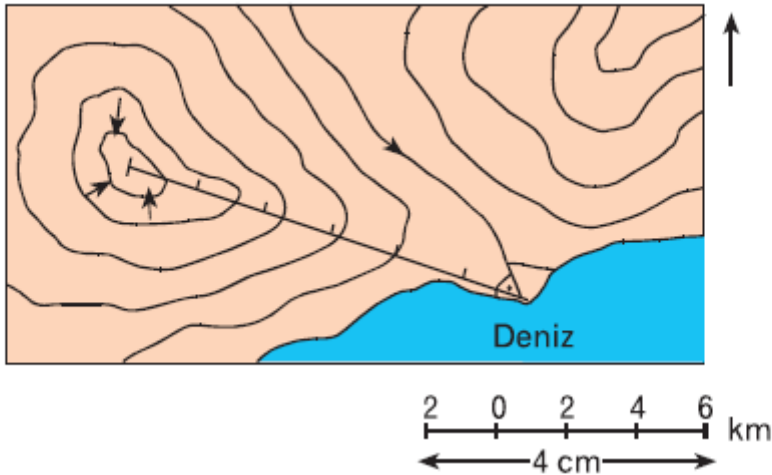


**Bir dağcı yukarıdaki B zirvesine, işaretli hangi yerden tırmanırsa daha zorlu bir çıkış yapmış olur?**

- A) I      B) II      C) III      D) IV      E) V

Cevap : B

10.

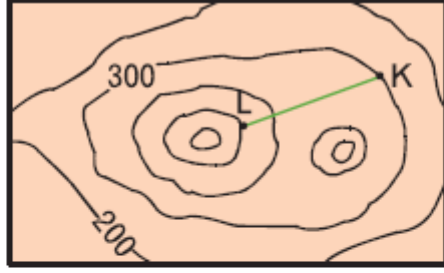


**Yukarıdaki izohips haritasında gösterilen kapalı çukur ile delta ovasının arasındaki kuş uçuşu mesafe yaklaşık olarak aşağıdakilerden hangisinde gösterilmiştir?**

- A) 6 km    B) 12 km    C) 18 km    D) 24 km    E) 30 km

Cevap : B

11.



**Haritada verilen K–L arası yatay uzaklık 2500 m olduğuna göre, K–L arası eğim yüzde kaçtır?**

- A) 4      B) 8      C) 12      D) 16      E) 20

Cevap : B

[Online Test Çöz](#)

[Pdf İndir](#)