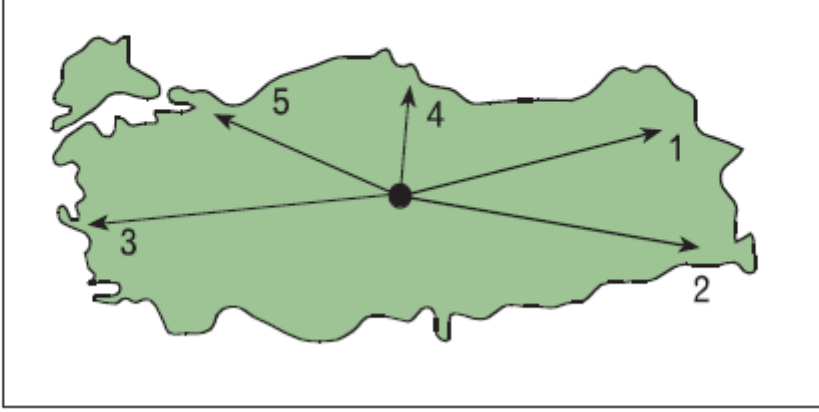


9. Sınıf Coğrafya Harita Bilgisi Testi Çöz 8

1. Fiziki haritalarda renklendirme yükselti basamaklarına göre yapılır.

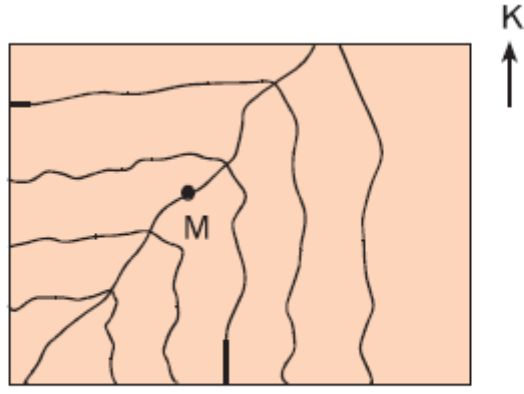


Buna göre, yukarıdaki haritada işaretli yerden hareket eden araştırmacılardan hangileri ulaştıkları yerlerde kahverengi tonlarının harita yapımlarında daha fazla kullanıldığını söyleyebilir?

- A) Yalnız 1 B) Yalnız 2 C) 1 ve 2
D) 2 ve 3 E) 3 ve 4

Cevap : C

2.

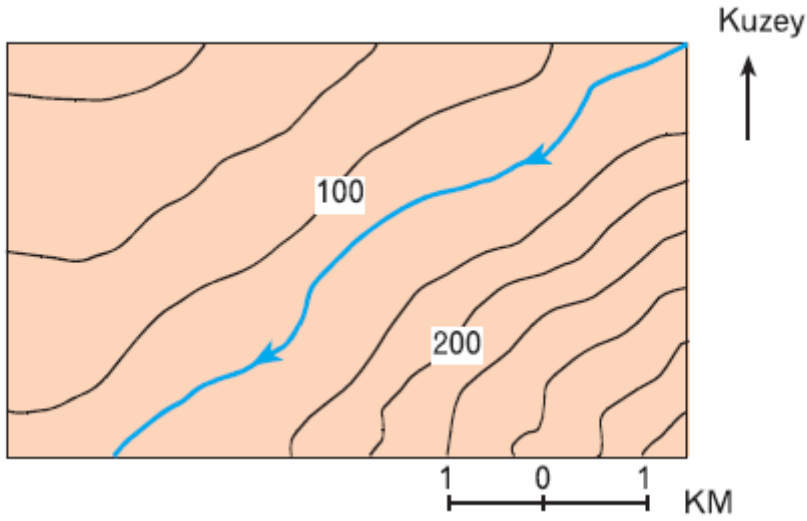


Yukarıdaki izohips haritasındaki M akarsuyunun akış yönü ile ilgili aşağıdakilerden hangisi söylenebilir?

- A) Kuzeyden güneye doğru akmaktadır.
- B) Güneybatıdan kuzeydoğuya doğru akmaktadır.
- C) Kuzeydoğudan güneybatıya doğru akmaktadır.
- D) Güneyden kuzeye doğru akmaktadır.
- E) Doğudan batıya doğru akmaktadır.

Cevap : C

3.

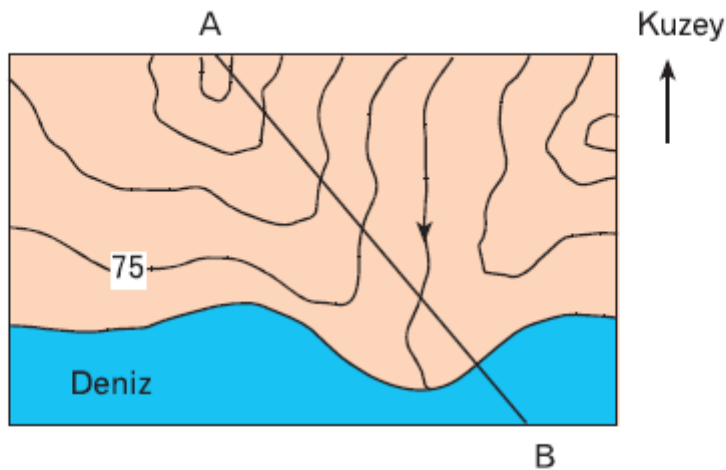


Yukarıdaki izohips haritasına bakılarak aşağıdaki yargılardan hangisine ulaşamaz?

- A) Akarsuyun akış yönüne
- B) İzohipslerin aralık değerine
- C) Akarsuyun saniyede taşıdığı su miktarına
- D) Yamaçlardaki eğim farklılıklarına
- E) Yükseltinin güneydoğuda arttığına

Cevap : C

4.

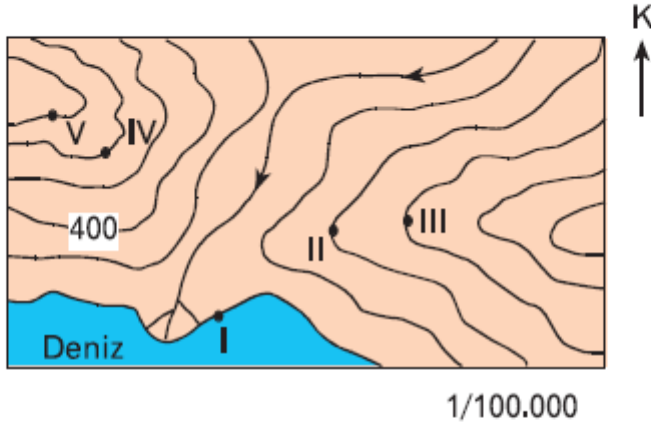


Yukarıdaki izohips haritasında verilen AB hattı boyunca hangi yükseltiye kesinlikle rastlanmaz?

- A) 60
- B) 90
- C) 225
- D) 300
- E) 375

Cevap : C

5. Yükselti arttıkça genellikle her 200 m'de sıcaklık 1°C azalır.



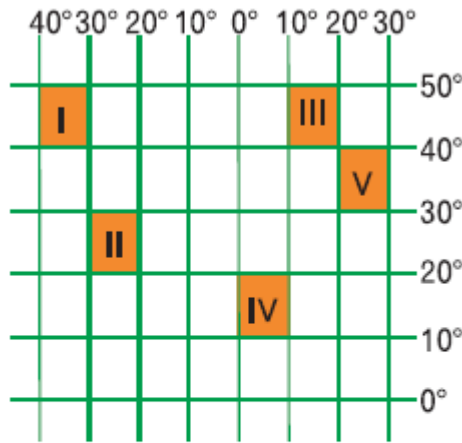
Buna göre, yukarıdaki izohips haritasında numaralandırılmış hangi yerler arasında sıcaklık farkının 5°C olduğu söylenebilir?

- A) I - V B) II - IV C) II - V
D) III - IV E) IV - V

Cevap : A

6. Türkiye $26^{\circ} - 45^{\circ}$ Doğu meridyenleri ile $36^{\circ} - 42^{\circ}$ Kuzey paralelleri arasında yer alır.

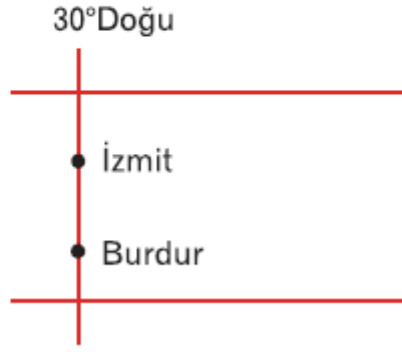
Buna göre; Türkiye'nin yanda gösterilen taralı alanlardan hangisinde toprakları vardır?



- A) I B) II C) III D) IV E) V

Cevap : A

7. Aşağıda İzmit ve Burdur'un üzerinde bulunduğu meridyen gösterilmiştir.

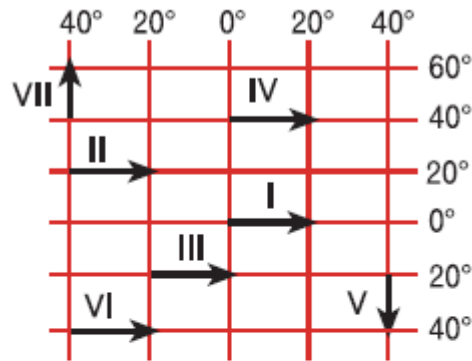


Buna göre, aşağıdakilerden hangisi İzmit ve Burdur'un ortak özelliklerinden biri değildir?

- A) Başlangıç Meridyeni ile aralarındaki zaman farkı
- B) Yerel saatleri
- C) Tarih değiştirme çizgisine olan uzaklıkları
- D) Öğle vakitleri
- E) 23 Eylül'de Güneş'in doğuş saatleri

Cevap : C

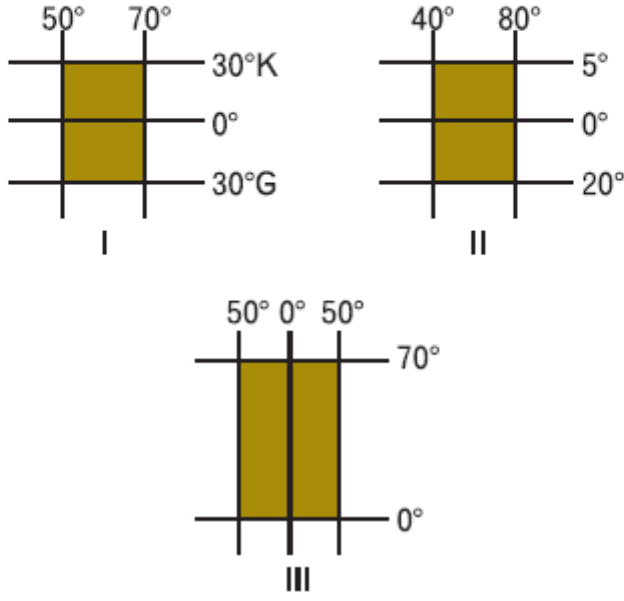
8. Yanda koordinatları verilen alanlarda numaralandırılmış doğrultuların hangi ikisi arasındaki kuş uçuşu uzaklık birbirine eşit değildir?



- A) I ve V
- B) II ve III
- C) IV ve VI
- D) IV ve VII
- E) V ve VII

Cevap : C

9. Aşağıda coğrafi koordinatları verilmiş üç bölge gösterilmektedir.



Bu bölgelerin, saat dilim sayısı en çok olandan, en aza doğru sıralanışı aşağıdakilerden hangisinde verilmiştir?

- A) III, II, I B) II, I, III C) I, II, III
D) III, I, II E) I, III, II

Cevap : C

10.



I



II

Yukarıda Türkiye'ye ait boyutları farklı iki harita verilmiştir.

Bu haritalar ile ilgili olarak aşağıda verilen bilgilerden hangisi doğrudur?

- A) Gösterdikleri gerçek alan farklıdır.
- B) II. haritada hata oranı daha fazladır.
- C) I. haritada ayrıntı daha fazladır.
- D) Aynı yükseklikten bakılarak çizilmişlerdir.
- E) İstanbul - Ankara arası harita uzunluğu II. haritada daha fazladır.

Cevap : C

[Online Test Çöz](#)

[Pdf İndir](#)