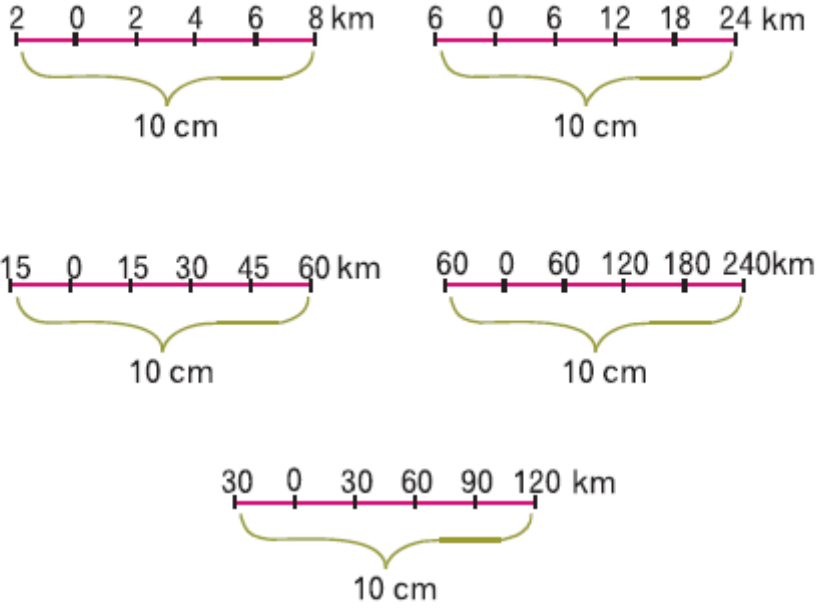


## 9. Sınıf Coğrafya Harita Bilgisi Testi Çöz 4

1.



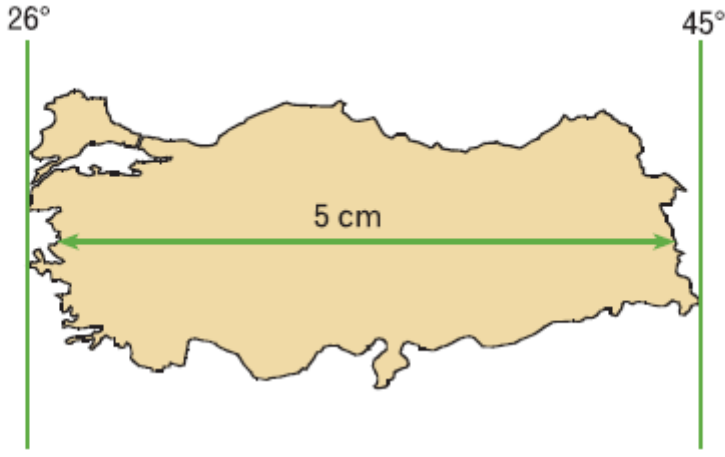
Yukarıda beş farklı çizik ölçek verilmiştir.

**Buna göre, aşağıda verilen kesir ölçeklerden hangisinin yukarıda karşılığı yoktur?**

- A) 1/100.000      B) 1/150.000      C) 1/300.000  
D) 1/750.000      E) 1/3.000.000

Cevap : B

2.



Ö: 1/31.200.000

**Yukarıdaki verilere göre, Türkiye'nin doğusu ile batısı arasındaki mesafe gerçekte kaç km'dir?**

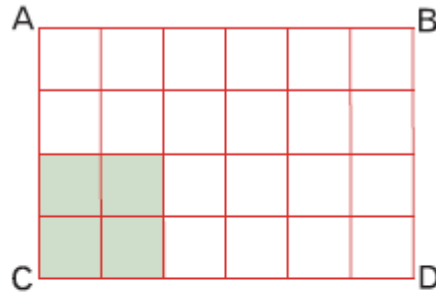
- A) 160                      B) 1560                      C) 3200  
D) 6400                      E) 7200

Cevap : B

3. Yanda verilen ABCD dikdörtgeninde, taralı bölümlerin harita alanı  $9 \text{ cm}^2$  dir.

**1/500.000 ölçekli bir haritaya ait olan ABCD**

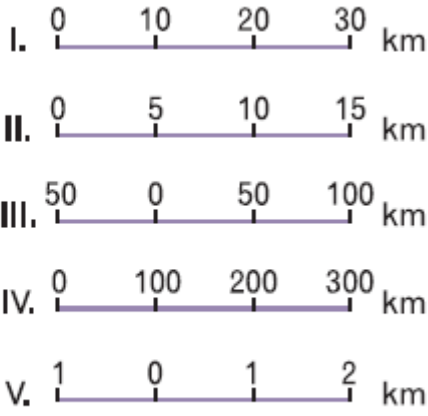
**dikdörtgenin gerçek alanı kaç  $\text{km}^2$  dir?**



- A)  $225 \text{ km}^2$                       B)  $270 \text{ m}^2$                       C)  $1125 \text{ km}^2$   
D)  $1350 \text{ km}^2$                       E)  $8100 \text{ km}^2$

Cevap : B

4.



**Yukarıdaki çizik ölçeklere göre hazırlanmış haritaların ayrıntıyı gösterme gücü en az olandan; en fazla olana doğru sıralanışı aşağıdakilerden hangisinde doğru olarak verilmiştir? (Çizik aralıkları 1 cm dir.)**

A) I, II, III, IV, V

B) V, IV, III, II, I

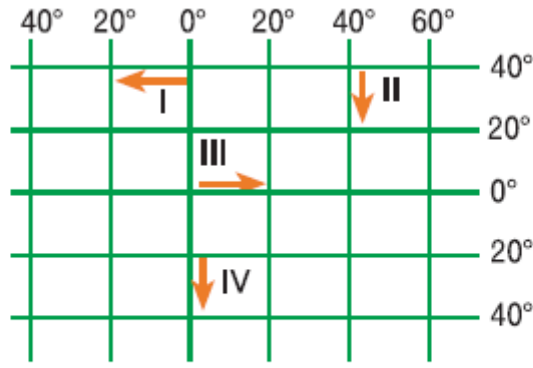
C) III, IV, V, I, II

D) III, II, I, IV, V

E) IV, III, I, II, V

Cevap : B

5.



**Yukarıdaki koordinat sisteminde numaralandırılmış ok yönünde ve karalar üzerinde hareket eden dört araştırmacıdan hangileri ulaştıkları yerde iklim, bitki örtüsü ve tarım türlerinin kesinlikle farklılık gösterdiğini gözlemler?**

- A) Yalnız I                      B) I ve II                      C) II ve III  
D) II ve IV                      E) III ve IV

Cevap : B

**6. Meridyenleri belli olan A ve X merkezlerinin bu özelliklerinden yararlanarak aşağıdakilerden hangisine ulaşılamaz?**

- A) A'nın Başlangıç Meridyeni'ne göre yarımküresi.  
B) A noktasının kaçınıcı meridyende olduğu  
C) A noktasının Başlangıç Meridyeni'ne açısai uzaklığı  
D) A noktasının X noktasıyla arasındaki zaman farkı  
E) A noktasının başlangıç paraleline olan uzaklığı

Cevap : B

7. Aşağıdakilerden hangisi iki ayrı kentin aynı boylam üzerinde yer aldığını kanıtlar?

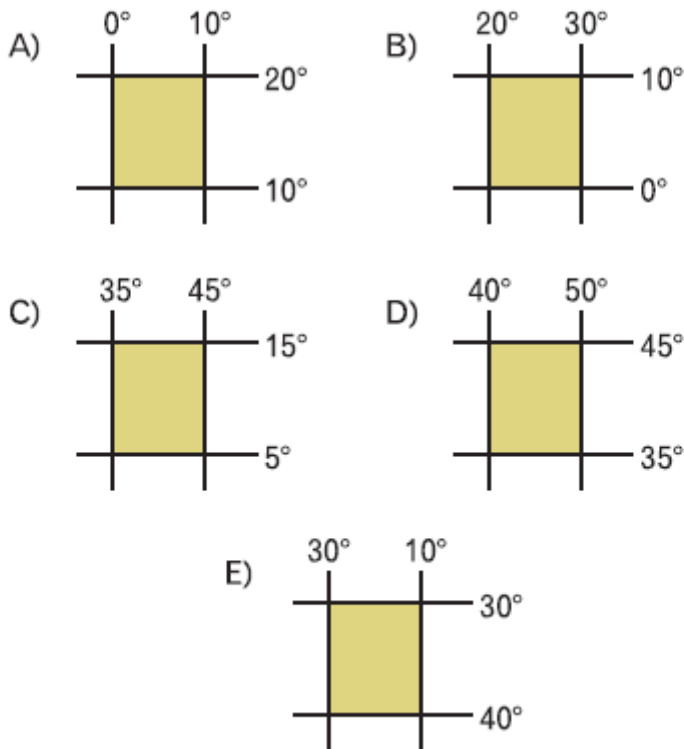
- A) Öğle vaktini aynı anda yaşamaları
- B) Güneşin doğuş ve batış saatlerinin bütün yıl aynı olması
- C) Aynı yarımkürede bulunmaları
- D) Yıl boyunca gece gündüz sürelerinin aynı olması
- E) Aynı anda, aynı mevsimlerin yaşanması

Cevap : A

8. Aşağıda koordinatları belirtilmiş alanlardan hangisinde;

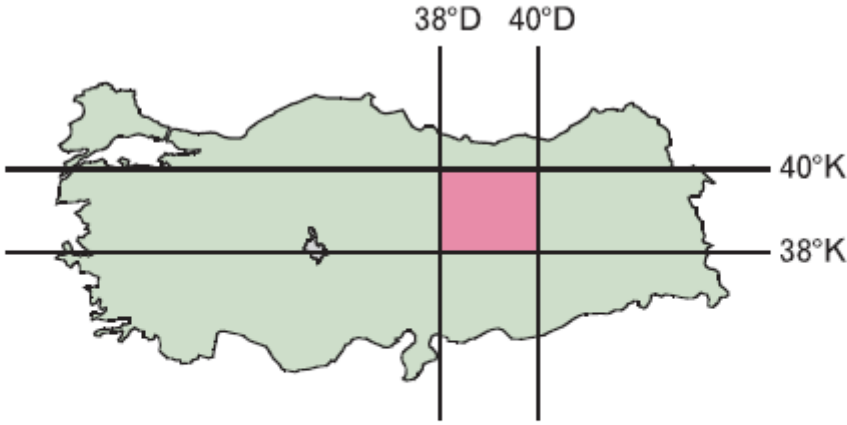
- Güneye doğru gidildikçe sıcaklıklar azalır.
- Kuzeye doğru gidildikçe meridyen aralıkları genişler.
- Doğuya doğru gidildikçe Başlangıç Meridyeni'ne yaklaşır.

**durumların birlikte gerçekleştiği söylenebilir?**



Cevap : A

9.

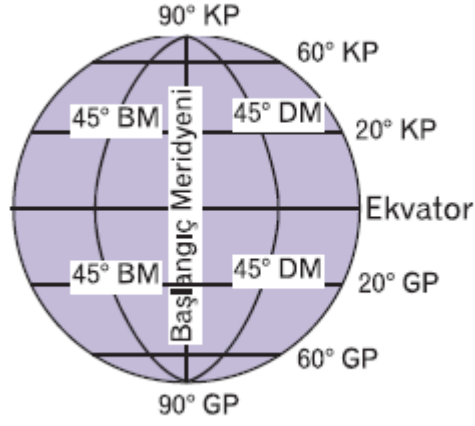


**Yukarıdaki haritada koordinatları verilen taralı alanla ilgili aşağıdakilerden hangisine ulaşılmaz?**

- A) Orta Kuşak'ta yer alıp ılıman iklim özelliklerinin görüldüğü
- B) Kuzeyi ile güneyi arasında 222 km kuşuçumu mesafe olduđu
- C) Başlangıç Meridyeni'nin doğusunda yer aldığı
- D) Kuzeye gidildikçe güneş ışınlarının daha küçük açılarla geldiđi
- E) Batıya gidildikçe meridyen aralıklarının daraldığı

Cevap : A

10. Yandaki şekilde verilere bakılarak aşağıdakilerden hangisine ulaşamaz?



- A) Bütün meridyenlerin kutup noktalarında birleştiklerine
- B) 20° paralellerinin daire boylarının, 60° paralellerinden daha uzun olduklarına
- C) Paralel daire boylarının kutuplara gidildikçe küçüldüğüne
- D) Başlangıç meridyeninin en büyük meridyen yayı olduğuna
- E) Meridyen aralıklarının Ekvator'dan kutuplara gidildikçe daraldıklarına

Cevap : A

[Online Test Çöz](#)

[Pdf İndir](#)