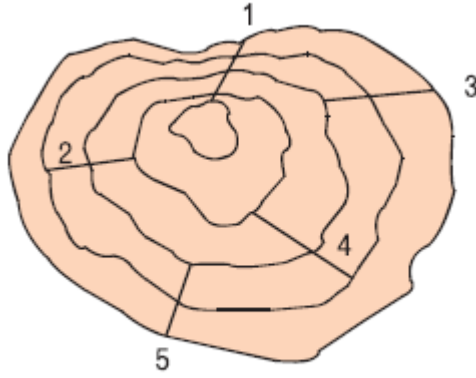


9. Sınıf Coğrafya Harita Bilgisi Testi Çöz 9

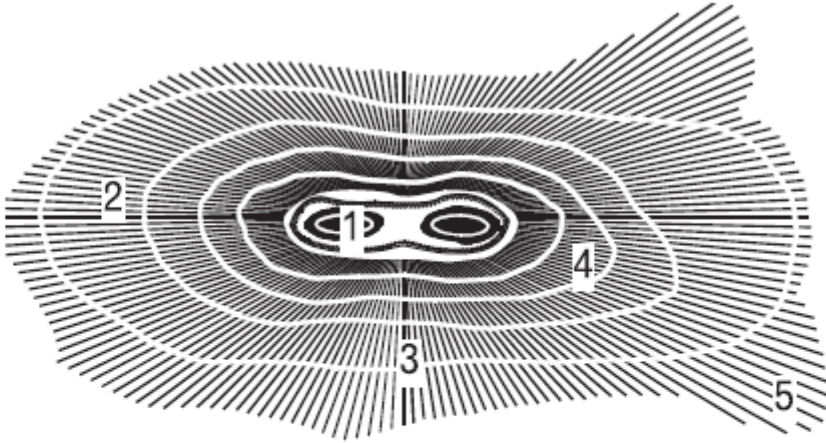
1. Eşyüksehti eğrileriyle çizilmiş yandaki yer-şeklinde numaralanmış doğrultuların hangisinde eğim en fazladır?



- A) 1 B) 2 C) 3 D) 4 E) 5

Cevap : A

2.

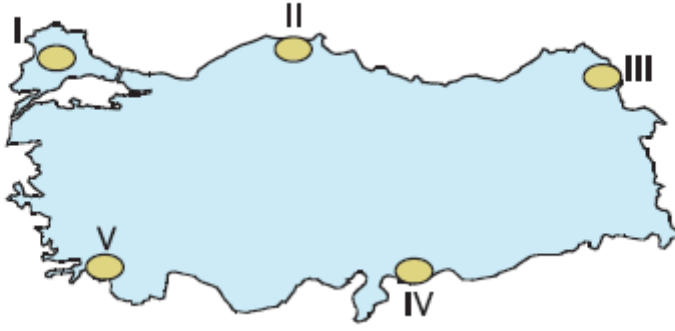


Yukarıda tarama yöntemiyle çizilen haritada verilen yerlerin hangileri arasında yükselti farkı en fazladır?

- A) 1-4 B) 1-5 C) 2-3 D) 2-4 E) 3-5

Cevap : B

3.



Yukarıdaki Türkiye haritasında verilen alanların hangilerinde gerçek alan ile izdüşüm alan arasındaki fark en azdır?

A) I ve III

B) I ve IV

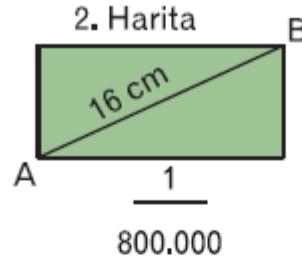
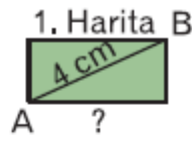
C) II ve III

D) III ve V

E) IV ve V

Cevap : B

4. Yandaki şekillerde verilen A-B arası uzaklık 2. haritada 16 cm olarak gösterilmiştir.



Buna göre, aynı mesafeyi 4 cm olarak gösteren 1. haritanın ölçeği aşağıdakilerden hangisinde doğru olarak verilmiştir?

A) $\frac{1}{200.000}$

B) $\frac{1}{400.000}$

C) $\frac{1}{2.400.000}$

D) $\frac{1}{3.200.000}$

E) $\frac{1}{4.000.000}$

Cevap : B

5. Aynı enlem ve yarımküre üzerinde olan merkezle ilgili aşağıdakilerden hangisinin kesinlikle kesinlikle gerçek olduğu söylenebilir?

- A) Öğle vakti gölge boyları ve yönleri
- B) Başlangıç Meridyeni'ne olan uzaklıkları
- C) Yer şekilleri ve yükselti değerleri
- D) Denizlere veya göllere göre konumları
- E) Gelişmişlik dereceleri

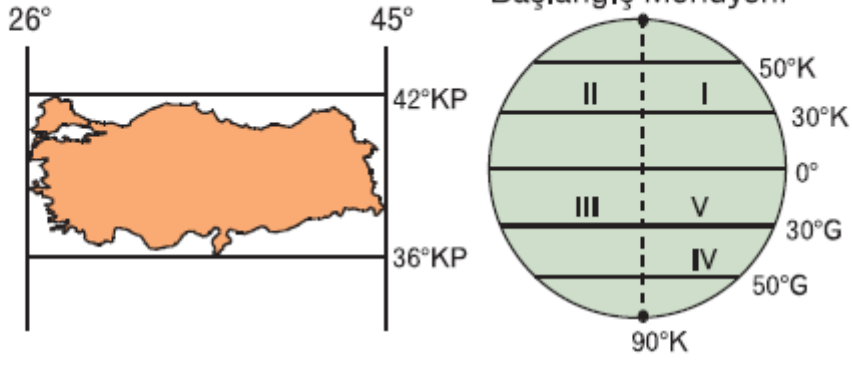
Cevap : A

6. Aşağıdakilerden hangisi bir yerin enlem özellikleri ile açıklanamaz?

- A) Yıl içinde güneş ışınlarının geliş açısı
- B) Yer aldığı matematik iklim kuşağı
- C) Okyanuslara veya denizlere olan uzaklığı
- D) Hangi sürekli rüzgarların etkili olduğu
- E) Kutuplara ne kadar uzakta olduğu

Cevap : C

7.

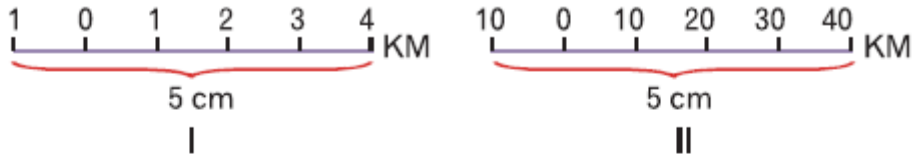


Türkiye'nin coğrafi koordinatlarına bakılarak, yukarıdaki şekilde kaç numaralı yerde olabileceği söylenebilir?

- A) I B) II C) III D) IV E) V

Cevap : A

8.




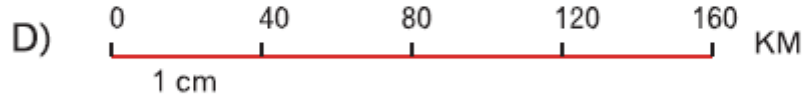

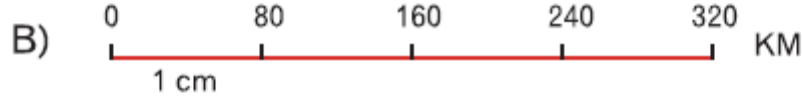
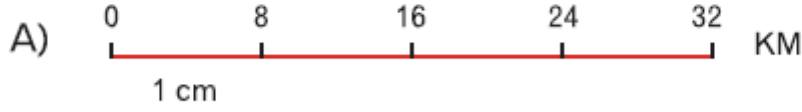
Yukarıdaki çizik ölçüklerin kesir ölçük olarak değeri aşağıdakilerden hangisinde gösterilmiştir?

- | | I | II |
|----|-------------------------|-------------------------|
| A) | $\frac{1}{100.000}$ | $\frac{1}{1.000.000}$ |
| B) | $\frac{1}{1.000.000}$ | $\frac{1}{1.000.000}$ |
| C) | $\frac{1}{10.000.000}$ | $\frac{1}{100.000.000}$ |
| D) | $\frac{1}{50.000.000}$ | $\frac{1}{50.000.000}$ |
| E) | $\frac{1}{100.000.000}$ | $\frac{1}{100.000.000}$ |

Cevap : A

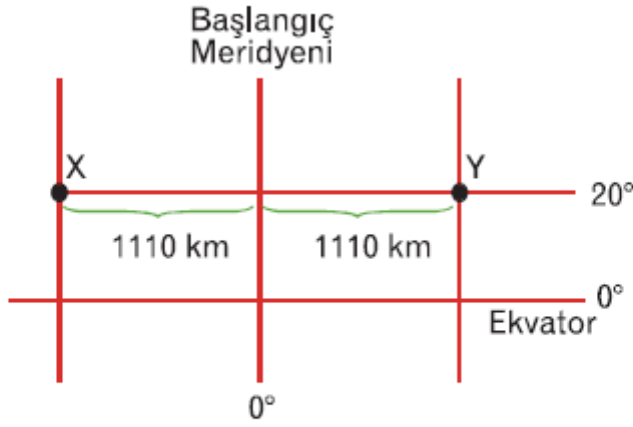
9. Bir haritada 8 cm olan bir karayolunun uzunluđu gerçekte 640 km'dir.

Bu haritanın çizik ölçeđi aşağıdakilerden hangisidir?



Cevap : B

10.



Yukarıdaki şekilde gösterilen X ve Y noktalarıyla ilgili aşağıdaki yargılardan hangisinin doğru olduğu savunulamaz?

- A) Ekvator'a uzaklıkları eşit olup, 2220 km'dir.
- B) Başlangıç Meridyeni ile aralarındaki yerel saat farkları eşittir.
- C) X ve Y noktaları arasında 20 meridyen aralığı yer alır.
- D) Yıl boyu gündüz süreleri birbirine eşittir.
- E) Meridyen aralıkları Ekvator'a göre daha küçüktür.

Cevap : C

[Online Test Çöz](#)

[Pdf İndir](#)