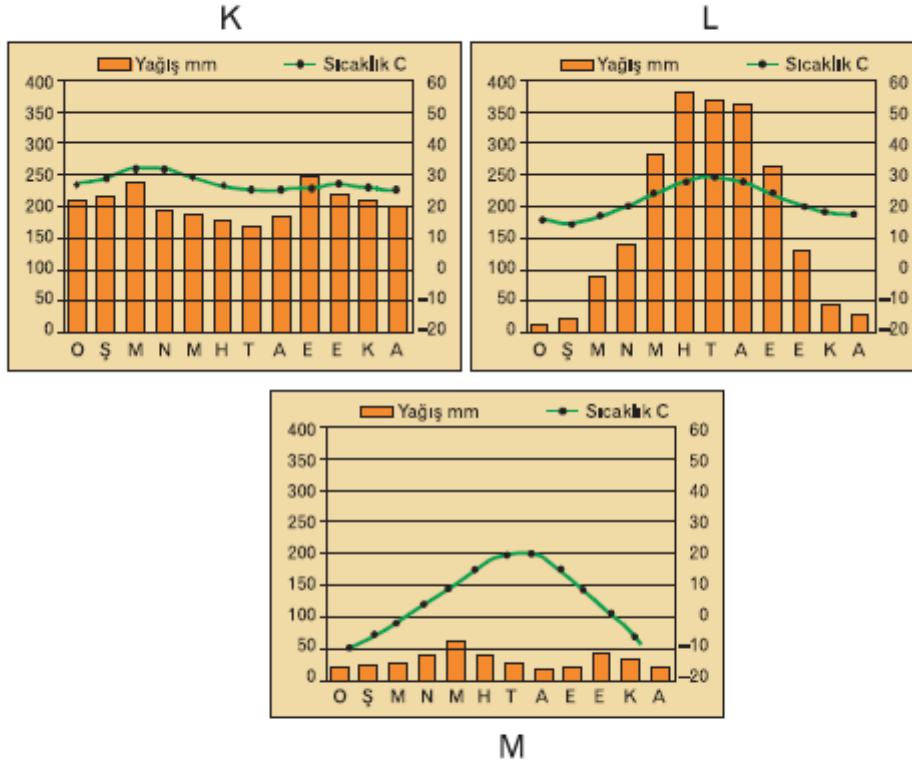


9. Sınıf Coğrafya İklim Bilgisi Testi Çöz 7

1. Aşağıdaki grafiklerde üç yörenin aylara göre sıcaklık ve yağış durumları gösterilmiştir.



Grafikte yer alan;

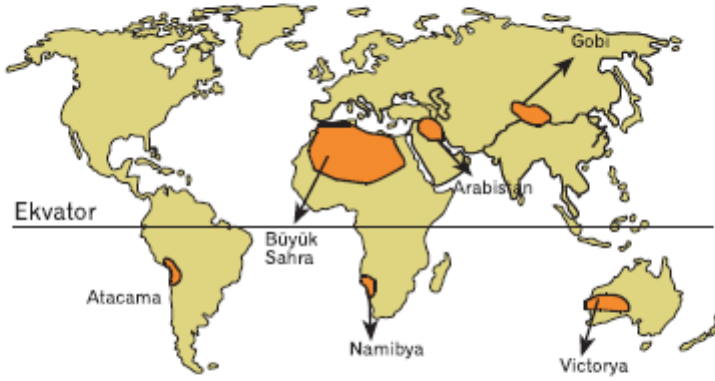
- I. K yöresindeki bitki örtüsü yıl boyunca yeşil kalan yayvan yapraklı ağaçlardır. Bunların boyu 40-50 metreyi bulur.
- II. L yöresinde bitki örtüsü kışın yapraklarını döken ormanlardır. Bunların büyük kısmının ağaçları K yöresindeki ormanlardan daha kısadır.
- III. M yöresindeki bitki örtüsü iğne yapraklı ormanlardır. Yağış miktarının azaldığı yerlerde ise bitki örtüsü bozkıra dönüşür.

gibi bilgilerden hangilerinin doğru olduğu söylenebilir?

- A) Yalnız I B) Yalnız II C) I ve II
D) II ve III E) I, II ve III

Cevap :

2. Yıllık yağış miktarının 250 mm'nin altına düştüğü yerler çöl kabul edilir. Çöller dinamik yüksek basınç koşullarına bağlı olarak oluşuyorsa subtropikal çöl adını alır.



Buna göre, yukarıdaki harita üzerinde gösterilen çöllerin hangilerinin subtropikal çöl olduğu söylenemez?

- A) Büyük Sahra B) Atacama C) Namib
D) Victorya E) Gobi

Cevap :

3. Kışların ılık geçtiği yerlerin ortak özellikleri arasında aşağıdakilerden hangisinin yer aldığı söylenemez?

- A) Yağış miktarının 500 mm'nin üzerinde olması
B) Karlı ve donlu gün sayısının az olması
C) Kıyı bölgelerinde yer alması
D) Buğday tarımının yaygın olması
E) Yıllık sıcaklık farklarının az olması

Cevap :

4. Orta Kuşak'ta yer alan bir merkez için;

- I. Güneş ışınlarını 90° ile alamaz.
- II. Yıllık sıcaklık ortalaması $10-15^\circ\text{C}$ civarındadır.
- III. Ekvator yönlü hava kütleleri sıcaklığı yükseltir.
- IV. Yıl boyu cephe yağışları alır.
- V. Dönenceler ile kutup daireleri arasında yer alır.

Yukarıdaki bilgilerinden hangisinin doğruluğuna kesinlikle ulaşamaz?

- A) I B) II C) III D) IV E) V

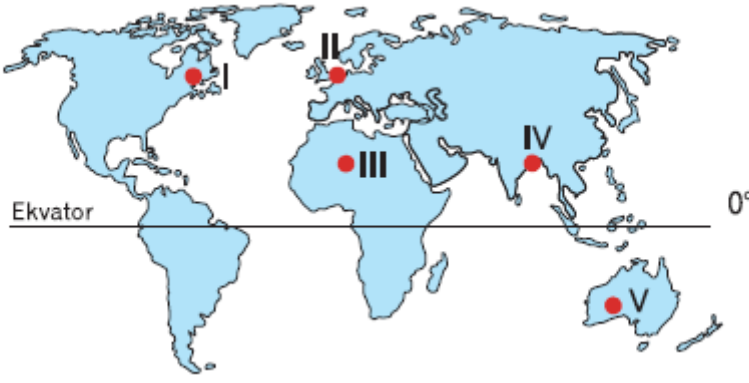
Cevap :

5. Muson iklimi ile ilgili aşağıda verilenlerin hangisi doğrudur?

- A) Oluşumunda eksen eğikliği ile kara ve denizlerin farklı ısınması etkilidir.
- B) Kış mevsiminde yağış fazla olur.
- C) Bitki örtüsünü seyrek çalılar oluşturur.
- D) Kutba yakın alanlarda etkilidir.
- E) Türkiye'nin güney kıyılarında görülür.

Cevap : A

6.

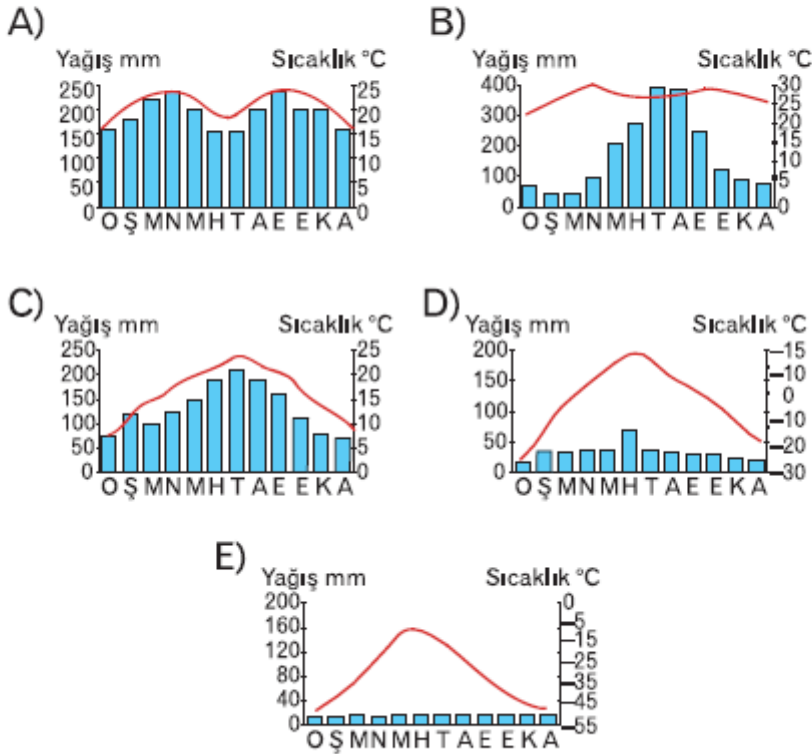


Yukarıdaki harita üzerinde işaretli alanlardan hangisinde, yağış azlığına bağlı olarak çöller meydana gelmiştir?

- A) Yalnız III B) I ve II C) III ve IV
D) III ve V E) IV ve V

Cevap : A

7. Aşağıda yıllık yağış ve sıcaklık dağılışı verilen merkezlerden hangisinde; yerleşmelerin çoğunlukla 1000-3000 m'ler arasında olduğu söylenebilir?



Cevap : A

8.

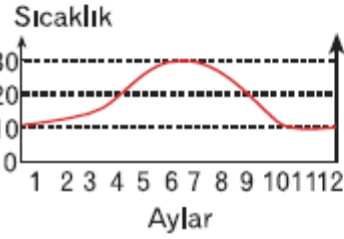
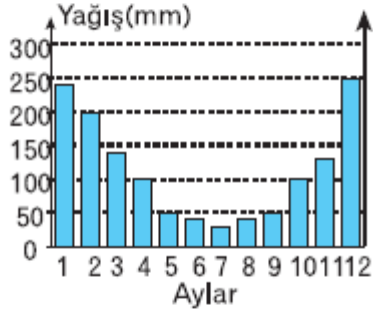
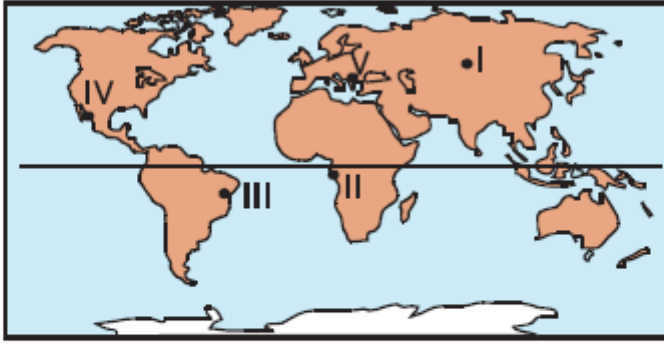
Bölgeler	Temmuz Sıc.Ort.	Ocak Sıc. Ort.	Yıllık Yağış Miktarı	Bitki Örtüsü
I	28°C	9°C	1075 mm	Maki
II	20°C	-10°C	600 mm	Alpin Çayırı
III	24°C	1,8°C	400 mm	Step
IV	25°C	8°C	2500 mm	Orman
V	30°C	17C	2000 mm	Bozkır

Yukarıdaki tabloda, bazı iklim özellikleri verilen merkezlerden hangisindeki yaygın bitki örtüsü doğru eşleştirilmemiştir?

- A) I B) II C) III D) IV E) V

Cevap : A

9.



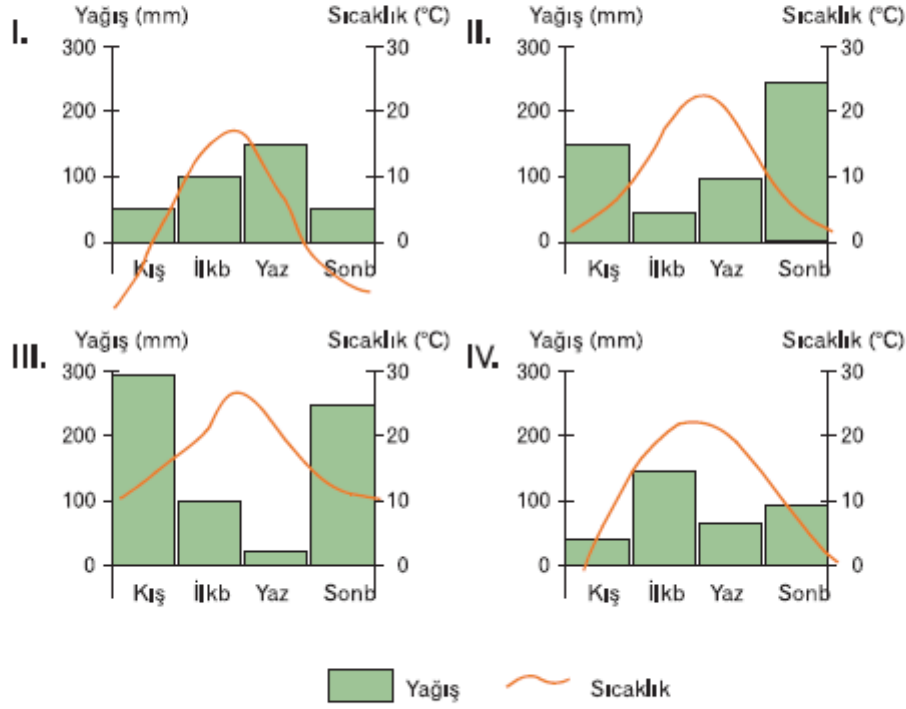
Yukarıda verilen sıcaklık ve yağış koşullarına uyum sağlamış bir bitki, haritada numaralandırılmış bölgelerden hangilerinde görülür?

- A) I ve II B) I ve III C) II ve III
D) III ve IV E) IV ve V

Cevap : A

10. – Yaz ayları sıcak ve kuraktır.
– Don olaylarına fazla rastlanmaz.
– Kışları ılık ve yağışlıdır.

Yukarıdaki özellikler aşağıdaki grafiklerden hangilerine en uygundur?



- A) Yalnız I B) Yalnız III C) I ve II
D) II ve IV E) III ve IV

Cevap : B

[Online Test Çöz](#)

[Pdf İndir](#)