


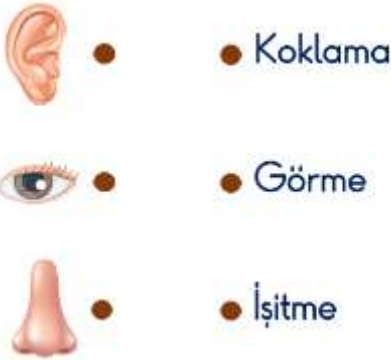


- 21)  Diğer adı atmosferdir.
 Yağmur ve fırtına gibi hava olayları bu katmanda gerçekleşir.
 Dünya'yı Güneş'in zararlı ışınlarından korur.




Yukarıda özellikleri verilen katman aşağıdakilerden hangisidir?

- A) Hava katmanı
B) Su katmanı
C) Kara katmanı

22)



Yukarıda verilen duyu organları ile görevleri hangi seçenekte doğru bir şekilde eşleştirilmiştir?

- A)  B)  C) 

- 23) Elisa, saksıdaki çiçeklerin solmaya başladığını görünce hemen suladı. Sulanan çiçekler de mis gibi koktu.



Metne ve görsele göre Elisa hangi duyu organlarını kullanmıştır?

- A) Göz, deri, burun
B) Burun, deri, kulak
C) Deri, göz, dil

24)



Görsellerdeki varlıklar sırası ile hangi hareketleri yapmaktadır?

- A) Hızlanma - dönme - yavaşlama
B) Sallanma - dönme - yön değiştirme
C) Dönme - sallanma - hızlanma

25) Aşağıdaki oyunlardan hangisinde oyuncular oyunu kazanmak için çekme kuvveti uygulamalıdır?

A)



B)



C)



26) (1) Çekmeceyi açıp kapatmak
(2) Elektrik süpürgesi kullanmak
(3) Testere ile odun kesmek

Yukarıdakilerden hangisinde veya hangilerinde hem itme hem de çekme kuvveti uygulanmaktadır?

- A) Sadece 1
- B) 1 ve 2
- C) 1, 2 ve 3

27) Hareket hâlindeki bir cisme hareket yönüne ters bir kuvvet uygulandığında hangisi görülmez?

- A) Hızlanma
- B) Yavaşlama
- C) Durma

28) Hareket hâlindeki cisimleri durdurmaya çalışmak bazen tehlikeli olabilir.

Buna göre aşağıdakilerden hangisinin tehlikeli bir durum olduğu söylenemez?

- A) Çalışan matkabı el ile durdurmaya çalışmak
- B) Balkondan düşen saksıyı yakalamaya çalışmak
- C) Yerde yuvarlanan topu tutmaya çalışmak

29) Yandaki meyvenin özellikleri ile ilgili verilen hangi ifade doğrudur?



- A) Pürüzsüzdür.
- B) Renksizdir.
- C) Kırılgandır.

30)



Yukarıdaki maddelerin ortak özelliği hangisidir?

- A) Esneklik
- B) Pürüzsüzlük
- C) Kırılganlık