

21)	Mineraller doğal yollarla oluşan sıvı maddelerdir.	?
	Bakır, uçak ve otomotiv sanayinde en fazla kullanılan madendir.	?
	Altın, gümüş ve değerli taşların hepsi mineraldir.	?
	Granit, zemin ve duvar yapımında kullanılır.	?

Yukarıdaki bilgilerden doğru olana **D**, yanlış olana **Y** yazarsak nasıl bir görüntü oluşur?

- A) 

D
Y
D
D

 B) 

Y
D
D
D

 C) 

Y
Y
D
D

 D) 


Y
Y
Y
D


22)



Yukarıdaki **ağaçta**, farklı zamanlarda oluşan durumların sebebi nedir?

- A) Dünya'nın Güneş etrafında dolanması  
B) Ay'ın Dünya etrafında dolanması  
C) Dünya'nın kendi etrafında dönmesi  
D) Güneş'in kendi etrafında dönmesi

23)  → Dünya'nın Güneş etrafında dolanması

 → Dünya'nın kendi etrafında dönmesi

Yukarıda olaylarla hayvanlar eşleştirilmiştir. Buna göre, bu **hayvanların** yerlerine neler gelmelidir?



- A) Mevsimler – Gece/Gündüz  
B) Haftalar – Saatler  
C) Yıllar – Sıcaklık  
D) Gece/Gündüz – Mevsimler

24) Aşağıdaki sürelerden hangisi, Dünya'nın Güneş etrafında **1 tam dolanımıyla** oluşan sürelerden değildir?

- A) 12 ay B) 1 yıl  
C) 4 mevsim D) 57 hafta

25)



Bol bol **ekmek** yiyen Emine, hangi içeriği fazlaca almaktadır?

- A) yağ B) karbonhidrat  
C) vitamin D) protein





26)

Protein	Yağ	Karbonhidrat
Yumurta	Susam	Patates
1	2	3

**Besin içerikleriyle** eşleştirilen rakamların yerine aşağıdakilerden hangileri yazılabilir?

- A) Bal - Domates - Ceviz  
 B) Et - Ayçiçeği - Makarna  
 C) Kivi - Patlıcan - Nane  
 D) Nohut - Elma - Zeytin

27) Aşağıdaki **besinlerden** hangisi içeriği yönünden diğerlerinden farklıdır?

- A)  Muz  
 B)  Ayçiçeği  
 C)  Ceviz  
 D)  Tereyağı

28)



Paketlenmiş ya da dondurulmuş gıda alan birinin aşağıdakilerden hangisine **dikkat** etmesine gerek yoktur?

- A) Paketin üzerinde Türk Standartları Enstitüsü işaretinin olup olmasına  
 B) Paketin açık olup olmadığına  
 C) Ürünün ambalajının rengine ve şekline  
 D) Üretim ve son tüketim tarihlerine

29)



Kış mevsiminde, marketten **salatalık** alan Arif, aldığı salatalığın tadının, yazın anneannesinin bahçesinde yediği salatalık gibi güzel olmadığını görünce şaşırıldı. Buna göre aşağıdakilerden hangisi doğrudur?

- A) Salatalığı tuzlayıp yemeliydi.  
 B) Salatalığın tadı her mevsimde kötüdür.  
 C) Mevsime uygun meyve ve sebze almalı.  
 D) Alışveriş yaptığı marketi değiştirmeli.

30)



Aşağıdakilerden hangisi **bilinçsiz** bir tüketici davranışıdır?

- A) Mevsimine uygun sebze ve meyve tüketir.  
 B) Paketlenmiş ürünlerin doğal ve taze olanını tercih eder.  
 C) Son tüketim tarihi geçmiş ürünleri kesinlikle satın almaz.  
 D) Paketi açık olsa da güvendiği markanın ürünlerini satın alır.