

1)

Paydası payından küçük olan kesirlere " <b>basit kesir</b> " denir	
Payı, paydasına eşit ya da payı paydasından büyük olan kesirlere " <b>bileşik kesir</b> " denir.	
1 ya da 1'den fazla bütün ve bileşik kesirden oluşan kesirlere " <b>tam sayılı kesir</b> " denir.	

Yukarıdaki cümlelerden doğru olanlara **D**, yanlış olanlara **Y** yazarsak nasıl bir görüntü oluşur?

- A) 

Y
D
D

 B) 

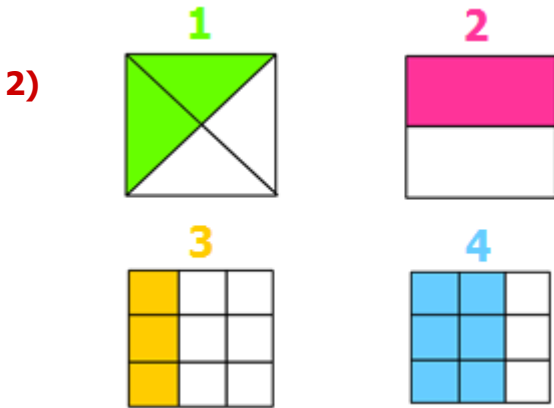
Y
D
Y

 C) 

Y
Y
D

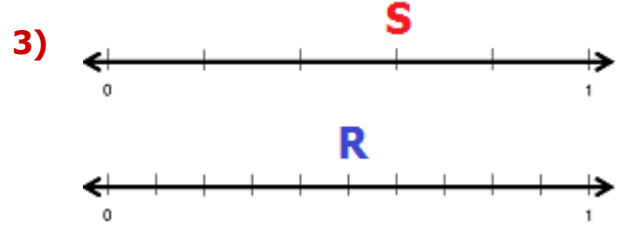
 D) 

D
Y
Y



Yukarıdaki **modellerle** alakalı aşağıdaki bilgilerden hangisi doğrudur?

- A) 1. modelin çeyreği boyanmıştır.  
 B) 3. model "sekizde üç" olarak okunur.  
 C) 4. model "dokuzda altı" olarak okunur.  
 D) 2. modelin tamamı boyanmıştır.



Yukarıdaki sayı doğrularına göre sırasıyla **S** ve **R** kesirleri aşağıdakilerden hangisidir?

- A)  $\frac{7}{10}$  B)  $\frac{3}{10}$   
 C)  $\frac{3}{10}$  D)  $\frac{7}{10}$

4)

$\frac{10}{11}$	$\frac{15}{8}$	$\frac{3}{2}$
$\frac{9}{6}$	$\frac{5}{9}$	$\frac{19}{30}$

Yukarıdaki tabloda bulunan kesirlerden **bileşik kesir** olanları boyarsak ortaya nasıl bir görüntü çıkar?

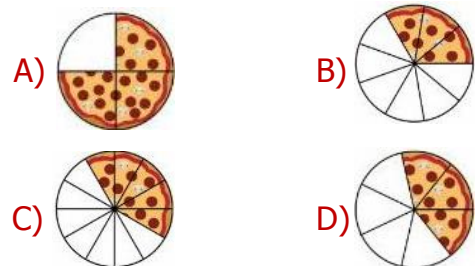
- A) 



 B) 

- C) 


 D) 

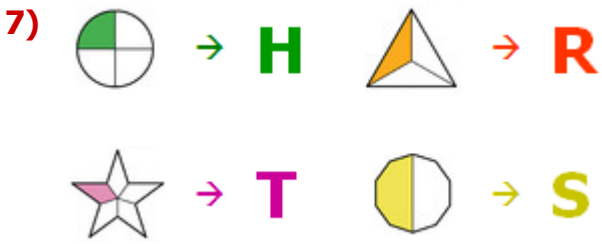

5) 4 arkadaş 7 parçaya böldükleri pizzadan birer parça yemiştir. Geriye ne kadar **pizza** kalmıştır?





Yukarıdaki öğrencilerden hangisi "birim kesir" örneği vermiştir?


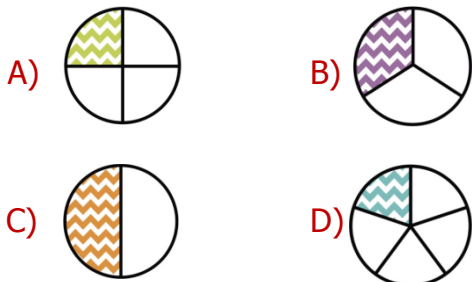
- A) Ümit B) Hale  
C) Gözde D) Celil



Yukarıda her biri bir harf ile eşleştirilen kesirlerin büyükten küçüğe dizilişi aşağıdakilerden hangisidir?

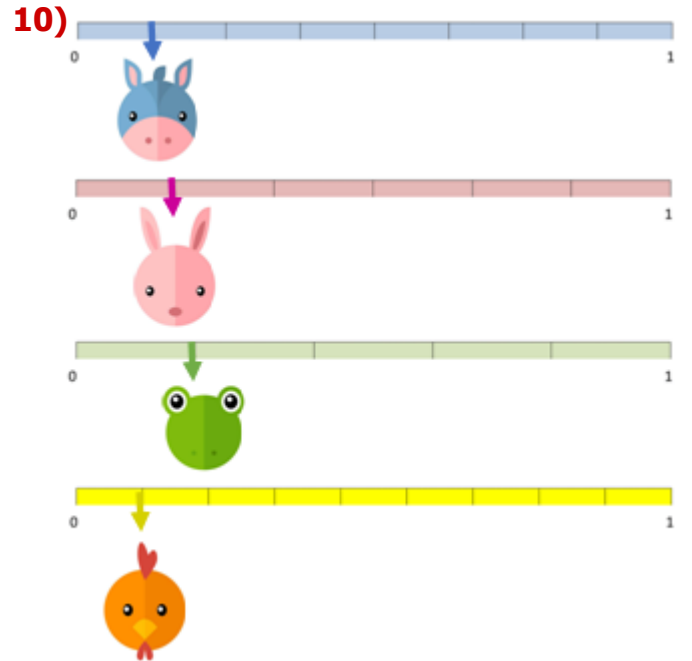
- A) T-H-R-S B) S-R-H-T  
C) R-S-T-H D) H-T-S-R

8) Şıklardaki kesirler büyükten küçüğe doğru sıralandığında hangisi 3. (üçüncü) sırada yer alır?



Yukarıdaki meyvelerden, yanlarında belirtilen kesirler kadar kullanan Yasemin, hangi meyveden daha az kullanmıştır?

- A) Portakal B) Limon  
C) Ananas D) Karpuz



Yukarıdaki sayı doğrularında, her biri bir hayvan ile eşleştirilen kesirlerden hangisi en büyüktür?

- A) Tavşan B) Horoz  
C) Eşek D) Kurbağa