






1-Aşağıdaki şekillerin bütününi boyayınız



2-Aşağıdaki şekillerin yarısını boyayınız.




3-Aşağıdaki şekillerin çeyreğini boyayınız.




4-Aşağıdaki şekillerin boyalı bölümlerini bütün, yarım, çeyrek olarak yazın.



5-Aşağıdaki meyvelerin kaç yarım ettiğini bulun.(Şekiller üzerinde gösteriniz)



.....yarımdır.



.....yarımdır.

6-Aşağıdaki varlıkların kaç çeyrek ettiğini bulun.



.....çeyrek domates.



.....çeyrek pasta.

7-Aşağıdaki yarım varlıkların kaç bütün ettiğini bulun.(Dersteki gibi yapalım)

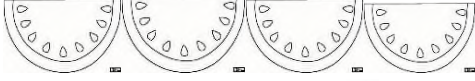


.....bütün elma.



.....bütün portakal.

8-Aşağıdaki çeyrek varlıkların kaç bütün ettiğini bulunuz.(Dersteki gibi yapalım.)



.....bütün karpuz.



.....bütün limon.

9-Aşağıdaki boşlukları doldurunuz.(Şekil çizmeyi unutma!)

2 bütünyarım eder.

20 yarım....bütün eder.

8 çeyrek 4 yarım.....bütün eder.

16 çeyrek.....yarım eder.

7 bütün.....çeyrek eder.

10-Aşağıdaki soruları şekil çizerek yanıtlayınız.

A)Bir düzine kalemin yarısı kaçtır?

B)16 sayısının yarısı kaçtır?

C)Yarısı 8 olan elmaların 4 fazlası kaçtır?

D)20'nin çeyreği kaçtır?

E)Çeyreği 3 olan çileklerin 5 eksiği kaçtır?

F)Çeyreği 4 olan cevizlerin 3 katı kaçtır?