

3. Sınıf Matematik Kesirler Testi Çöz

1) Okunuşu "beşte üç" şeklinde olan kesir aşağıdakilerden hangisidir?

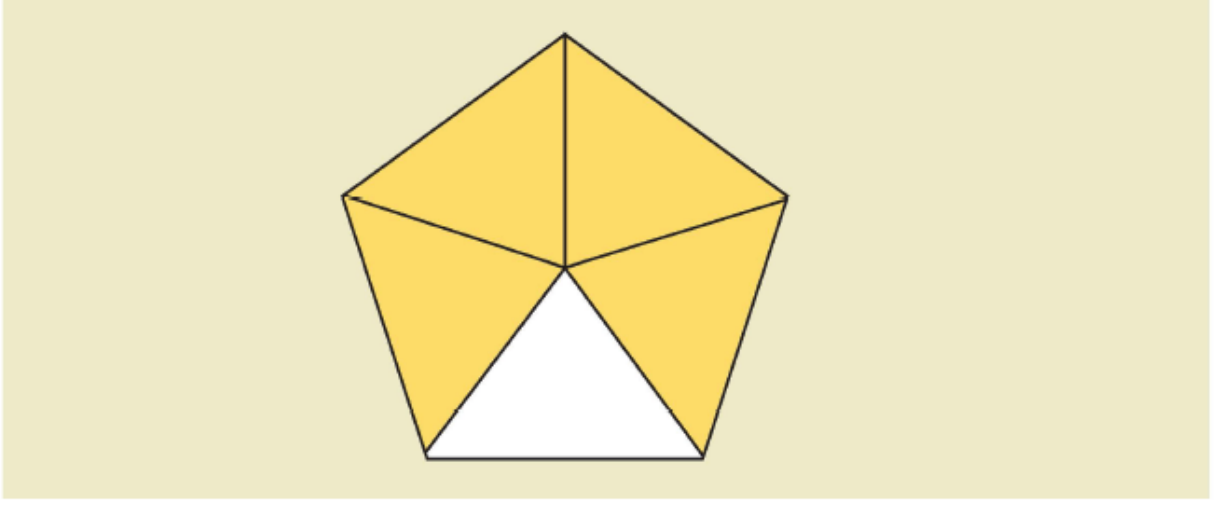
A) $\frac{5}{3}$

B) $\frac{3}{8}$

C) $\frac{3}{5}$

Cevap : C

2)



Yukarıdaki şekil eş parçalara ayrıldığına göre, boyalı kısımların belirttiği kesir sayısı aşağıdakilerden hangisidir?

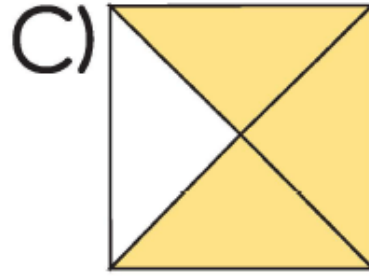
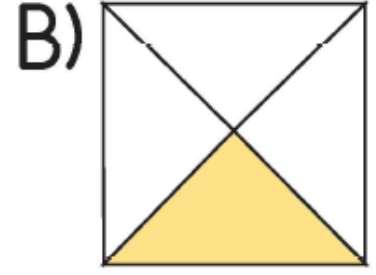
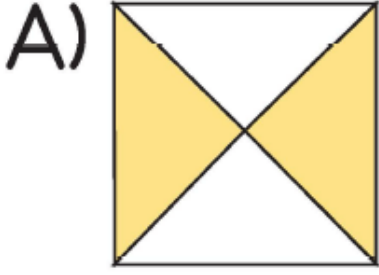
A) $\frac{1}{5}$

B) $\frac{3}{5}$

C) $\frac{4}{5}$

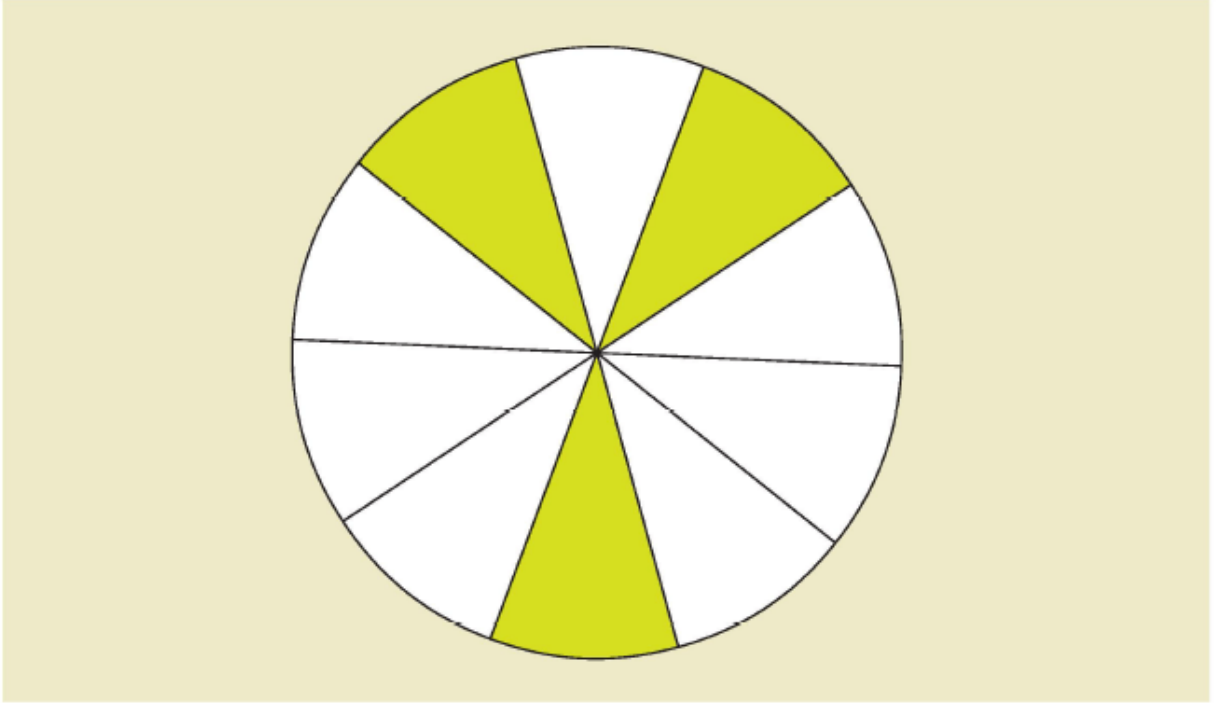
Cevap : C

3) Aşağıdaki şekillerden hangisinin çeyreği boyanmıştır?



Cevap : B

4)



Eş parçalara bölünmüş olan yukarıdaki şekilde boyalı kısmın kesir sayısı aşağıdakilerden hangisidir?

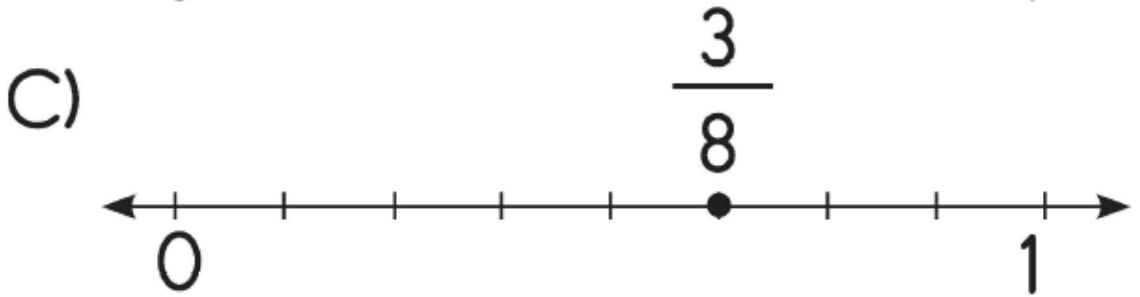
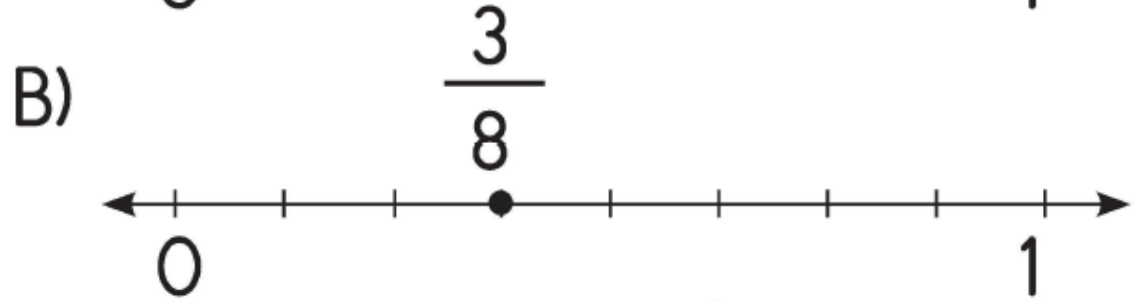
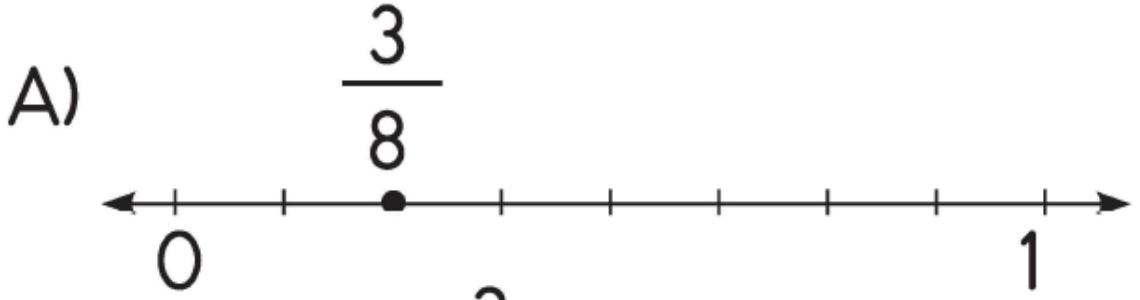
A) $\frac{3}{10}$

B) $\frac{4}{10}$

C) $\frac{7}{10}$

Cevap : A

5) $\frac{3}{8}$ kesrinin sayı doğrusunda gösterimi aşağıdakilerden hangisidir?



Cevap : B

6)



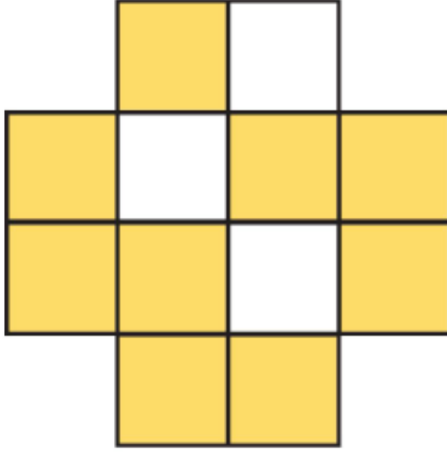
Yukarıdaki şekle göre, aşağıdakilerden hangisi **yanlıştır**?

- A) Sarı renkli kısımların belirttiği kesir $\frac{3}{10}$ 'tür.
- B) Mavi renkli kısımların belirttiği kesir $\frac{4}{10}$ 'tür.
- B) Pembe renkli kısımların belirttiği kesir $\frac{2}{10}$ 'dir.

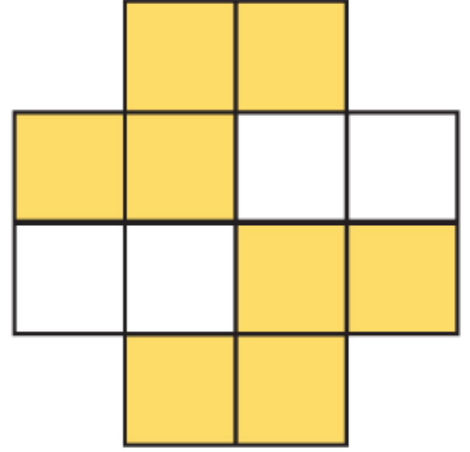
Cevap : B

7) Aşağıdaki şekillerden hangisinin $\frac{9}{12}$ 'u boyalıdır?

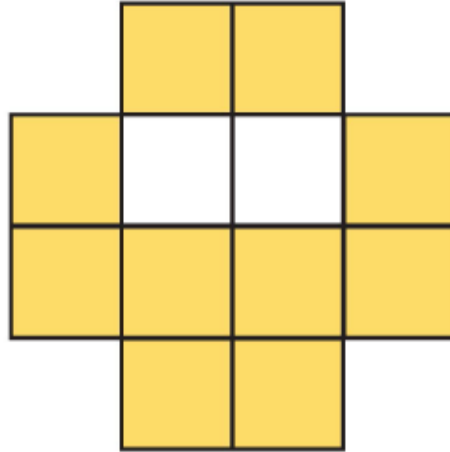
A)



B)



C)



Cevap : A

[Online Test Çöz](#)

[Pdf İndir](#)