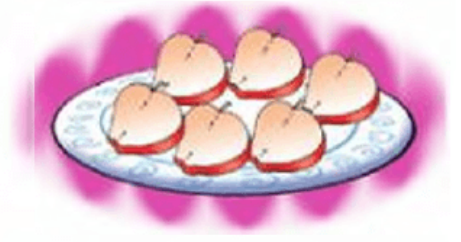


1. Sınıf Matematik Kesirler Testi Çöz

1. "Tabakta 6 yarım elma var. 6 yarım elma bütün elma eder." cümlesinde boş bırakılan yere hangi sayı yazılmalıdır?



A) 2

B) 3

C) 4


Cevap : B

2. Hangisi yarım ekmeği ifade eder?



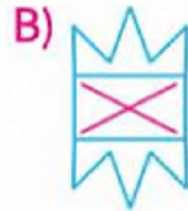
Cevap : C

3. Yandaki geometrik şekil iki eş parçaya bölünürse hangisi elde edilmez?



Cevap : A

4. Yanda yarısı verilmiş olan şeklin tamamı hangisidir?



Cevap : B

5. Yandaki pastalar kaç yarım pasta eder?



A) 6

B) 7

C) 8

Cevap : A

6.



Yukarıdaki çay bardaklarının içindeki yarım çay, kaç dolu bardak çay yapar?

A) 4

B) 5

C) 6

Cevap : A

7. Annem, pişirilmiş 6 yumurtayı her tabağa yarımşar olarak koydu.

Annem kaç tabağa yumurta koymuştur?

A) 8

B) 10

C) 12

Cevap : C

8.



Yukarıdaki kâğıtlardan kaç yarım kâğıt elde edilir?

A) 4

B) 5

C) 10

Cevap : C

9. Her gün iki buçuk ekmek tüketilen bir ailede, bir haftada kaç ekmek tüketilir?

A) 14 ekmek

B) 18 buçuk ekmek

C) 17 buçuk ekmek

Cevap : C

10. Selahattin, elindeki 7 misketi arkadaşı Yunus'a göstererek "Misketlerimin yarısı 7 tane ise tamamı kaç tanedir?" diye sordu. Selahattin'in sorusuna Yunus'un yanıtı aşağıdakilerden hangisi olmalıdır?

A) 14

B) 15

C) 16

Cevap : A

[Online Test Çöz](#)

[Pdf İndir](#)