



### **3. Sınıf Fen Bilimleri Kuvvet Testi Çöz**

1)



Rüzgârın görseldeki varlıklara uyguladığı kuvvet sonucu aşağıdakilerden hangisi oluşur?

		
A)	durma	dönme
B)	hızlanma	yavaşlama
C)	dönme	hızlanma

Cevap : C

**2)** Aşağıdaki olaylardan hangisi dönme hareketine örnek verilebilir?

- A) Kızakla yokuş aşağı kayan çocuğun hareketi
- B) Lunaparktaki dönme dolabın hareketi
- C) Salıncakta sallanan çocuğun hareketi

Cevap : B

3)

1

Duran market arabasını hareket ettirebilmek

2

Okuduğumuz kitabın sayfasını çevirebilmek

3

Sınıfın kapısını açabilmek

Yukarıdakilerden hangilerinin gerçekleşebilmesi için kuvvete ihtiyaç duyarız?

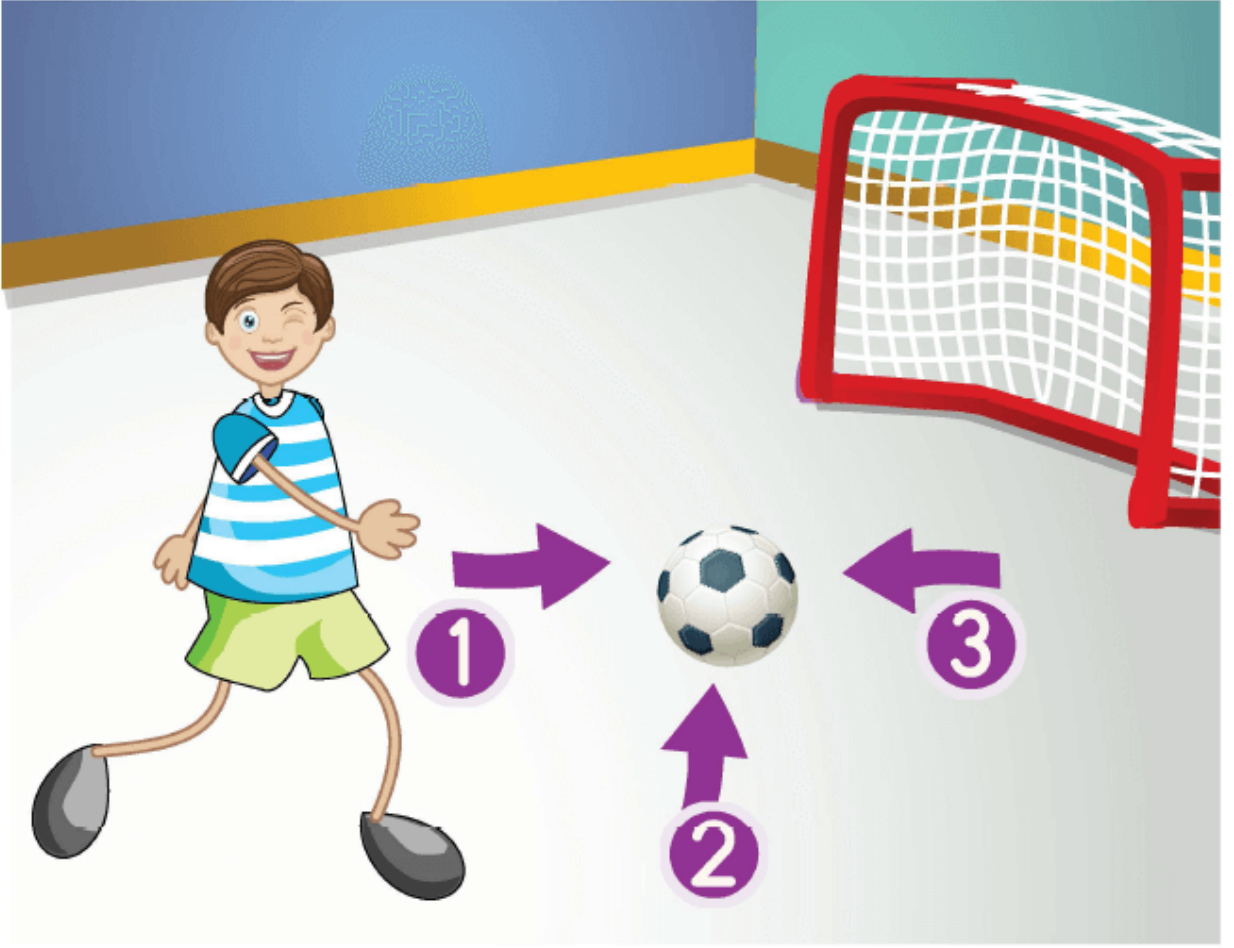
A) 1 ve 2

B) 2 ve 3

C) 1, 2 ve 3

Cevap : C

4)



Kaleye doğru giden topun durması için hangi yönde bir kuvvet uygulanması gerekir?

A) 1

B) 2

C) 3

Cevap : C

[Online Test Çöz](#)

[Pdf İndir](#)