

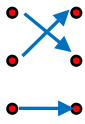
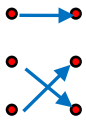
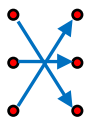
1) Bisiklet kullanan bir kişi bisikleti hareket ettirmek için pedala hangi kuvveti uygular?

- A) Çekme B) İtme C) Yön değiştirme


2)


Çatıdan düşen kiremit	•	•	dönme
Saatın yelkovanı	•	•	hızlanma
Parktaki gondol	•	•	sallanma

Yukarıdaki eşleştirme nasıl olmalıdır?

- A)  B)  C) 

3)  Hızlı hareket eden bisikleti durdurmak

 Salıncakta sallanan arkadaşını tutmak

 Havada uçan balonu yakalamak

Yukarıda verilen durumlardan hangisi tehlikeli sonuçlar oluşturabilir?

- A)  B)  C) 

4) Aşağıdaki varlıkları hangisini iterek veya çekerek hareket ettiremeyiz?

- A) Pencere B) Kapı C) Duvar

5) Aşağıdaki bilgilerden hangisi yanlıştır?

- A) İstasyona yaklaşan tren yavaşlar.  
B) Kale direğine çarpan top yön değiştirir.  
C) Kırmızı ışıkta duran otomobil hızlanır.

6) Aşağıdakilerden hangisi kendiliğinden hareket etmez?

A)



B)



C)



7) Aşağıdakilerden hangisi hızlanma hareketine örnektir?

- A) Pisten kalkışa geçen uçak  
B) Durağa yaklaşan otobüs  
C) Kalecinin tuttuğu top

8) Aşağıdakilerden hangisine hareket halindeyken dokunmak tehlike yaratmaz?

- A) Çalışan vantilatör  
B) Uçan kelebek  
C) Duvarı delen matkap

9) Elimize aldığımız teneke kutusunun ..... değiştirebiliriz.


Yukarıdaki ifadede noktalı yere hangi sözcük gelmelidir?


- A) tadını B) şeklini C) rengini

10) Aşağıdaki ifadelerden hangisi doğrudur?

- A) Bitkiler yer değiştirme hareketi yapar.  
B) Doğadaki tüm varlıklar hareket eder.  
C) Hareket eden varlıkların hareket özellikleri farklı olabilir.

11)  Lunaparktaki atlı karınca

 Ağaçtan düşen elma

 Kavşaktan dönen araba

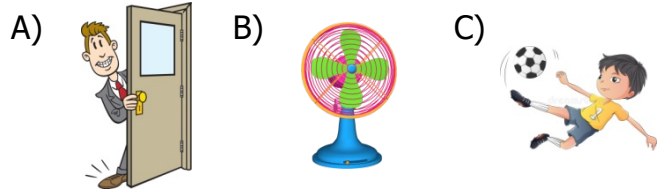
Yukarıdaki varlıkların hangilerinin hareketleri aynıdır?

- A)   B)   C)  

12) Aşağıdaki davranışlardan hangisi tehlikeli olabilir?




- A) Sandalyeyi çekmek  
B) Kaykay yapan birini durdurmak  
C) Kardan adam yapmak

13) Aşağıdaki görsellerin hangisinde itme ve çekme kuvveti uygulanır?






14) Aşağıdakilerden hangisi kuvvetin varlıklar üzerindeki etkilerinden biri değildir?

- A) Varlıkların yönünü değiştirir.  
B) Varlıkların kütesini değiştirir.  
C) Varlıkların şeklini değiştirir.

- 15)  Rüzgarın uçurtmayı uçurtması  
 Mıknatısın cisimleri hareket ettirmesi  
 Ablamın bebek arabasını sürmesi

Yukarıdaki ifadelerden hangisinde çekme kuvveti uygulanmıştır?

- A)  B)  C) 

16) Aşağıdaki olayların hangisinde doğadaki hareketlerin neden olabileceği bir tehlike vardır?

- A) Arabanın hızlıca duvara çarpması  
B) Çalışan miksera dokunulması  
C) Kar kütlelerinin hareket etmesi