

- 1)

| |
|-----|
| tuz |
|-----|

| |
|----|
| un |
|----|

| |
|-----------|
| toz şeker |
|-----------|

Yukarıda verilen maddeleri hangi özelliklerine göre birbirinden ayırabiliriz?

- A) koku B) tat C) renk

- 2)

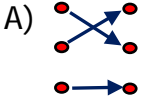
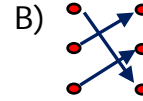
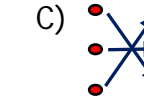
| | |
|-------|---|
| pamuk | • |
|-------|---|

| | |
|---------|---|
| pürüzlü | • |
|---------|---|
- | | |
|---------------|---|
| araba lastiği | • |
|---------------|---|

| | |
|----------|---|
| kırılgan | • |
|----------|---|
- | | |
|-----|---|
| cam | • |
|-----|---|

| | |
|---------|---|
| yumuşak | • |
|---------|---|

Yukarıda verilen madde - özellik eşleştirme- si hangi seçenekte doğru verilmiştir?

- A)  B)  C) 

- 3)

| |
|---|
| Bazı maddeleri ve görerek algılarız. |
|---|

Yukarıdaki cümlede noktalı yerlere hangi sözcükler yazılmalıdır?

- A) tadını - yumuşaklığını
B) kokusunu - rengini
C) rengini - şeklini



- 4) 
Yukarıdaki varlıkların ortak özelliği nedir?

- A) Madde olmaları
B) Canlı olmaları
C) Cansız olmaları

- 5) 
Aslı, gözleri bağlıyken masanın üstündeki gülü nasıl algılayabilir?

- A) Duyarak
B) Koklayarak
C) Tadarak

- 6) Aşağıdaki çocukların söylediği ifadelerden hangisi yanlıştır?

- A)  Gözlük camları pürüzsüzdür.
- B)  Kışlık ayakkabıların tabanları pürüzlüdür.
- C)  Cevizin yüzeyi pürüzsüzdür.

7) Aşağıdakilerden hangisi maddeyi niteleyen özelliklerden biri değildir?

- A) kırılğan B) kütle C) koku

8) Aşağıdaki ifadelerden hangisi yanlıştır?

- A) Pürüzlü yüzeylere dokunduğumuzda hissedilen çıkıntılar bulunur.
B) Kırılğan bir maddeye uygulanan kuvvet ortadan kalktığında eski haline döner.
C) Esnek maddeler kırılmadan bükülebilir.

9)

pürüzsüz

sert

kokusuz

Yukarıda özellikleri verilen madde aşağıdakilerden hangisidir?

- A) cam B) tahta C) elbise

10) Ceren, yandaki nesnenin özelliklerini kardeşine "esnek, yumuşak, sert" olarak söylemiştir.



Ceren'in söylediği özelliklerden hangisi bulaşık süngerini nitelemez?

- A) esnek B) yumuşak C) sert

11)

Maddeler özelliklerine göre hangi duyu organları ile nitelendirildiği aşağıdaki eşleştirmede verilmiştir.

Buna göre hangi eşleştirme yanlıştır?

- A) Tat → Dil
B) Renk → Göz
C) Koku → Kulak

12)

- ★ Esnek - yumuşak
■ Sert - kırılğan
▲ Kokulu - renkli

Yukarıdaki özelliklere uygun örnekler hangi seçenekte verilmiştir?

| | ★ | ■ | ▲ |
|----|-------|-------|---------|
| A) | kaşık | kalem | kolonya |
| B) | balon | ayna | gül |
| C) | ceviz | pamuk | limon |

13) Yandaki özellikler hangi maddeye aittir?

- Sert
• Renkli
• Pürüzsüz

A)



B)



C)

