

### 3. Sınıf Fen Bilimleri Maddeyi Niteleyen Özellikler Testi Çöz

1)



Pamuk



Taş

Yukarıdaki maddeleri hangi özelliklerinden dolayı ayırt **edebiliriz**?

A) Sertlik

B) Koku

C) Renk

Cevap : A

2)

• Sarımsak • Yün • Kolonya

Yukarıdaki maddelerden hangileri koklayarak tanıyabileceğimiz maddelerdendir?

A) Yün ve kolonya

B) Sarımsak ve yün

C) Kolonya ve sarımsak

Cevap : C

3)



Çaço yukarıdaki meyveleri hangi duyu organıyla ayırt **edemez**?

A)Deri

B)Dil

C)Kulak

Cevap : C

4)

Esneklik maddeleri birbirinden ayıran bir özelliktir.

Aşağıdaki örneklerden hangisi yukarıdaki ifadeyi ispatlar?

A) Tencere — Porselen tabak

B) Cam sürahi — Plastik bardak

C) Metal kaşık — Cezve


Cevap : B

5)








Çaço elindeki etiketleri bardakların üzerine yapıştırmak istiyor.

Çaço kavanozlardaki suları



ayırt etmek için  
hangi organla-

rını kullanabilir?

- A)  
- B)  
- C)  

Cevap : A

[Online Test Çöz](#)

[Pdf İndir](#)