



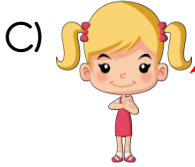
21) Aşağıdaki öğrencilerden hangisinin fiziksel özelliklerimiz ile ilgili verdiği bilgi yanlıştır?



Vücudumuzla ilgili özelliklerimiz fiziksel özelliklerimizdir.



Fiziksel özelliklerimiz hiç değişmez.



Fiziksel özelliklerimiz zamanla değişebilir.

22)

Nail, çok iyi satranç oynuyor.
Aslı ise güzel resim çiziyor.

Yukarıdaki bilgilere göre hangisini söyleyemeyiz?

- A) Bireysel farklılıkları doğal karşılamalıyız.
- B) Her bireyin farklı özelliği vardır.
- C) Nail ile Aslı'nın yetenekleri farklı olduğu için anlaşamazlar.

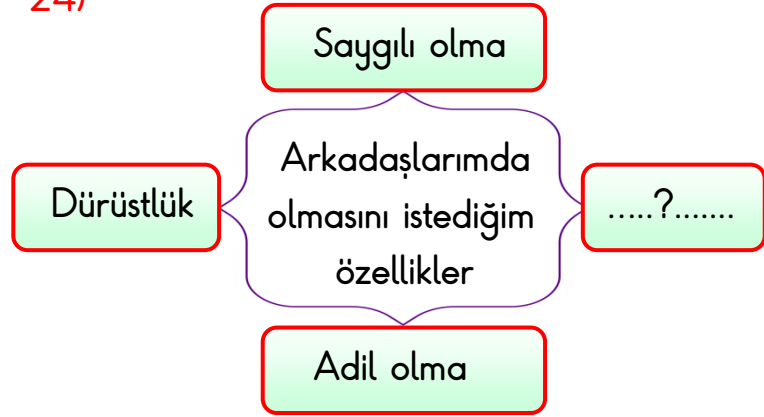
23) Aşağıdaki seçeneklerde verilen hangi öğrencinin davranışı yanlıştır?

A) Ali, çantasındaki kitapları ders programına göre hazırlıyor.

B) Elif, akşam hazırladığı çantasını, sabah evden çıkmadan tekrar kontrol ediyor.

C) Yılmaz, unutmamak için kitap ve defterlerini her gün çantasında taşıyor.

24)



Yukarıdaki şemada boş bırakılan yere hangisi yazılamaz?

- A) Kibirli olma
- B) Hoşgörülü olma
- C) Yardımsever olma

25) Hangisi başarılı bir çalışma grubunun özelliği **değildir**?

- A) Birbirlerinin görüşlerine değer vermek.
- B) Birbirlerine güvenmemek
- C) Farklı fikirlere saygılı olmak

26)



Oyun oynarken aşağıdaki ifadelerden hangisini uygularsak **doğru davranmış** oluruz?

- A) Sadece bize yakın olan arkadaşımız ile oynamalıyız.
- B) Kaybedeceğimizi anladığımızda oyunun kurallarını değiştirebiliriz.
- C) Oyunlarımızı sevgi, neşe ve saygı içinde oynamalıyız.

27)



1



2



3

Ali'nin almak istediği nesnelere verilmiştir. Bunlardan hangisi ya da hangileri **istektir**?

- A) 1 ve 2
- B) Yalnız 2
- C) 1 ve 3

28)

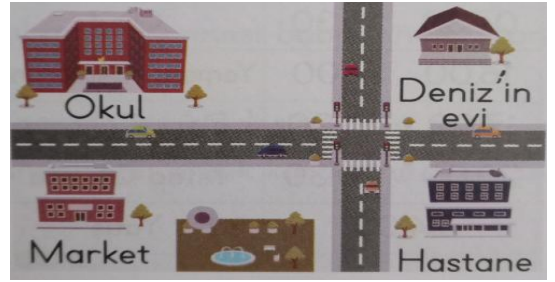


Annemin erkek kardeşine , babamın kız kardeşine derim.

Sare yukarıda verilen noktalı yerlere akrabalarını uygun olacak şekilde yazmak istiyor. **Sırasıyla noktalı yerlere** ne yazılmalıdır?

- A) Amca - Teyze
- B) Dayı - Hala
- C) Dayı - Teyze

29)



Yukarıda Deniz'in evinin yeri gösterilmiştir. Buna göre hangisi **doğrudur**?

- A) Deniz'in evi, okulun sağındadır.
- B) Okul, Deniz'in evinin sağındadır.
- C) Okul, marketin solundadır.

30) Aşağıdakilerden hangisi evde üzerimize düşen görev ve sorumluluklarımızdan birisi **değildir**?

- A) Küçük kardeşimizin bakımını üstlenmek
- B) Odamızı toplamak ve temiz tutmak
- C) Sofranın hazırlanmasına yardım etmek