

31) Proteinler	1	3	Makarna , ekmek , piriç
Vitaminler	2	4	Yeşil yapraklı sebzeler, süt ürünleri
Karbonhidratlar	3	2	Et , süt , yumurta
Mineraller	4	1	Meyve ve sebzeler

Yukarıda besinlerle içerikler eşleştirilmiştir. Eşleştirmenin hangileri yanlış yapılmıştır?

- A) Karbonhidratlar ve mineraller
- B) Proteinler ve karbonhidratlar
- C) Proteinler ve vitaminler
- D) Vitaminler ve mineraller

32) Fosillerle ilgili aşağıdakilerden hangisi yanlıştır?

- A) Kısa sürede meydana gelirler.
- B) Bitki ve hayvanların taşlaşmış kalıntılarıdır.
- C) Kayaçlar arasında oluşur.
- D) Oluşmaları rastlantıya bağlıdır.

- 33) ● Mevsimler oluşmaz.
 ■ Gece ve gündüz birbirini takip etmez.
 ◆ Dünya'nın bir yüzü hep gece olur.
 ▲ Aylar oluşmaz.

Dünya kendi eksenini etrafında dönmezse yukarıdaki sonuçlardan hangisi ortaya çıkar?

- A) ■ ◆
- B) ● ◆ ▲
- C) ● ■
- D) ◆ ■ ■

34) Dengeli ve sağlıklı beslenmek için aşağıdakilerden hangisi daha az tüketilmelidir?

- A) Süt ve süt ürünleri
- B) Sebze ve meyveler
- C) Et ve yumurta
- D) Şeker ve yağ oranı yüksek yiyecekler

35) I - Duvara çarpan top yön değiştirir.

II - Hareketli bir cisme uygulanan kuvvet onu durduramaz.

III- Kuvvet cisimlerin şeklini değiştirebilir.

IV- Topa vuran bir kişi çekme kuvveti uygulamış olur.

Yukarıda verilen bilgilerden hangileri yanlıştır ?

- A) I - II
- B) II - IV
- C) III - IV
- D) II - III

36) ◆ Mıknatıs çeker ○ Suda batar

■ Esnektir △ Su geçirmez

Yukarıdaki özelliklerden hangileri yandaki eşya için söylenebilir ?



demir kaşık

- A) ◆ △ ■
- B) ◆ ■ ○
- C) ◆ △ ○
- D) ■ ○ △

- 37) I – Meyveleri su dolu bir kaptan yıkamak.
II – Televizyonu ve bilgisayarın kapatırken
lerini çekmeliyiz.
III- Buzdolabının kapağını uzun süre açık bırakabiliriz.
IV- Duşta uzun süre kalmalıyız.

Yukarıda verilen hangileri kaynakların bilinçli tüketilmesine yönelik davranışlardır?

- A) I - II B) II - III
C) I - IV D) II – IV

- 38) Sude'nin babası her işten geldiğinde sinirli oluyor ve başı ağrıyormuş. Ayrıca uyku problemi yaşıyormuş.





Yukarıda anlatılanlara göre Sude'nin babası nerede çalışıyor olabilir?

- A) kütüphanede B) fabrikada
C) hastanede D) bankada

- 39) elma kabukları , pet şişe , cam kavanoz ağaç yaprakları , teneke kutu , atık yağ dergi , yemek atıkları , poşet, ekmek

Yukarıdakilerden kaç tanesinin geri dönüşümü mümkündür?

- A) 7 B) 4
C) 6 D) 5

- 40)  Göçmen kuşlara zarar verir.
Pelin
 Yıldızları daha iyi görürüz.
Kenan
 Deniz kaplumbağaları yollarını daha kolay bulurlar.
Yaren
 Gözlemevleri yerleşim yerleri dışına kurulmaktadır.
Sinan

Öğretmen öğrencilere ışık kirliliğinin sebep olacağı olayları sormuş. Buna göre hangi çocuklar soruya yanlış cevap vermişlerdir?

- A) Sinan – Yaren
B) Pelin - Yaren
C) Kenan - Yaren
D) Pelin – Kenan