


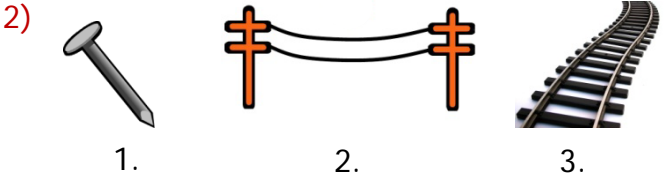



1) Aşağıdaki öğrencilerden hangisinin söylediği noktaya örnek olamaz?

- A)  Kalemın ucunun deftere bıraktığı iz
- B)  Tebeşirin tahtaya bıraktığı iz
- C)  Boyacının duvarda yaptığı boya izi



Yukarıdakilerden hangisi ışın modelidir?

- A) 1. B) 2. C) 3.



Yukarıda verilen geometrik şekillerin toplam kaç açısı vardır?

- A) 12 B) 11 C) 10


4) Aşağıda nokta ile ilgili verilen ifadelerden hangisi doğrudur?

- A) Noktanın belirli bir uzunluğu vardır.
B) Noktayı isimlendirirken büyük harf kullanırız.
C) Noktanın belirli bir büyüklüğü vardır.



Yukarıdakilerden hangisi doğru modelidir?

- A) 1. B) 2. C) 3.



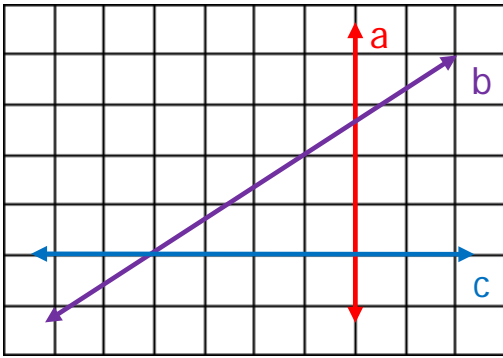
Yukarıdaki görsellerden hangisi yatay doğru modeli oluşturur?

- A) III. B) II. C) I.

7) Aşağıdaki harflerden hangisi açı modeli oluşturmaz?

- A) S B) C)

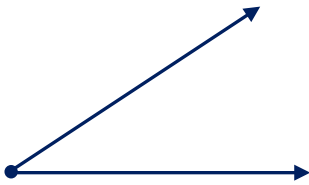
8)



Yukarıdaki hangi harfle gösterilen doğru eğik doğrudur?

- A) a B) b C) c

9)



I. Işınlardan oluşur.








II. Modeldeki nokta "A" ile isimlendirilir.

III. Modeldeki nokta "a" ile isimlendirilir.

Yukarıdaki açı modeline göre hangileri doğrudur?

- A) Yalnız I B) I ve II C) II ve III


10)

- 1 - Işın  
2 - Doğru  
3 - Açı  


Eşleştirmelerdeki yanlış düzeltmek için hangi numaralı kelimelerin yer değiştirmesi gerekir?

- A) 1 ve 3 B) 2 ve 3 C) 1 ve 2

11)



Yukarıda açısı olan harflerle oluşturulabilecek anlamlı kelime aşağıdakilerden hangisidir?

- A) Y L
B) T L
C) Y L

12)



Ahmet, görseldeki varlıklardan hangisi ile açı çizilebilir?

- A) I B) II C) III