

- 21) L – Sütçü İmam
İ – Şahin Bey
K – Yörük Ali Efe
M – Tayyar Rahmiye Hanım

Yukarıda verilen Milli Mücadele kahramanlarından Güney Cephesi'nde mücadele edenlerin başındaki harflerle hangi kelime yazılabilir?

- A) KİL B) MİL
C) İLK D) KİM

- 22) ■ Sakarya Savaşı
▲ Trablusgarp Savaşı
◆ Çanakkale Savaşı
● Başkomutanlık Meydan Muharebesi

Mustafa Kemal Atatürk'ün " Anafartalar Kahramanı " olarak tanınmasına neden olan savaş yukarıdakilerden hangisidir?

- A) ● B) ◆ C) ■ D) ▲

- 23) Çevreyi ağaçlandırmak ve bitki örtüsünü korumak bazı doğal afetler için önlemdir.

Yukarıdaki ifadeye göre aşağıdaki doğal afetlerden hangileri bu kapsamda değerlendirilebilir?

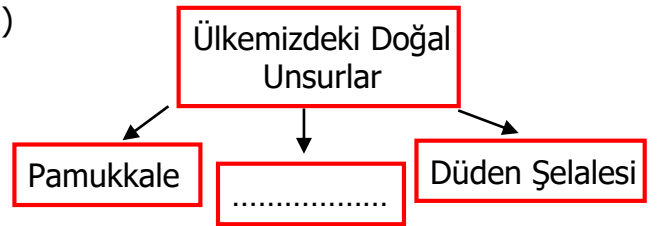
- A) Heyelan – Sel
B) Deprem – Sel
C) Heyelan – Dolu
D) Fırtına – Deprem

- 24) I – Tost makinesi → Beslenme
II- Televizyon → Sağlık
III- Röntgen → Bilgi edinme
IV- Telefon → Haberleşme

Yukarıda verilen teknolojik ürünlerle kullandıkları alan eşleştirmesinde yapılan hata hangi teknolojik ürünlerin yer değiştirmesiyle düzeltilebilir?

- A) II ile IV B) III ile IV
C) I ile III D) II ile III

25)



Yukarıdaki şemada noktalı yere aşağıdakilerden hangisi **yazılamaz**?

- A) Peribacaları B) Van Gölü
C) Ağrı Dağı D) Atatürk Barajı


- 26) 4 Kar 9 Sel 0 Çığ
5 Dolu 7 Heyelan 2 Sis

Yukarıdaki hava olaylarının başlarındaki rakamlarla aşağıdaki sayılardan hangisi yazılır?

- A) 250 B) 950
C) 254 D) 527

27) Siyasi haritalarda ařađıdaki bilgilerden hangisine **ulařamayız**?

- A) İlimizdeki dađların isimleri
- B) İL sınırlarımız
- C) Ülkemize komřu olan devletler
- D) İlimize komřu olan iller


28)  Öđle vaktinde güneř tepedeyken sırtımı güneře döndüm ve kollarıımı açtım. Okulum sađ kolumun gösterdiđi yöneydi. Okulumu dođru yürüdüm.

Yukarıdaki ifadeye göre Melih hangi yöney dođru yürümüřtür?

- A) Batı
- B) Güney
- C) Dođu
- D) Kuzey

29) Ařađıdakilerden hangisi geleneksel Türk sporları arasında yer alır?


- A) Tekvando
- B) Okçuluk
- C) Boks
- D) Futbol

30)  Nevřehir'e ne zaman göç ettiniz?

Cemal

 Dedemin ilk görev yeri neresiydi?

Yaren

 Mahallemize okul ne zaman yapıldı?

řeyma

 Babam nerede dođdu?

Orhan

Yukarıdaki çocuklardan hangisinin sorusu aile tarihini öğrenmeye yönelik **deđildir** ?

- A) Orhan
- B) Cemal
- C) Yaren
- D) řeyma