




### 3. Sınıf Hayat Bilgisi Okul Heyecanım 4. Testi Çöz

1) Aşağıda verilen öğrencilerden hangisi kişisel bakım yaparken kaynaklarını bilinçli kullanmıştır?



Cevap : A

- 2)** 1 . Yüzümüzü yıkarken suyu yeteri kadar kullanmalıyız.
2. Kaynaklarımızı bilinçli kullanarak aile bütçemize katkıda bulunabiliriz.

**Yukarıdaki ifadeler için aşağıdakilerden hangisi söylenebilir?**

- A) Yalnız 1 doğrudur.
- B) Yalnız 2 doğrudur.
- C) Her ikisi de doğrudur.

Cevap : C

3) Aşağıda verilen ifadelerden hangisi **yanlıştır**?

- A) Kaynaklarımızı verimli kullanmalıyız.
- B) Dişimizi fırçalarken diş macununun bol miktarda kullanmalıyız.
- C) Saçımızı şampuanlarken yeterli miktarda kullanmalıyız.

Cevap : B

- 4) ☆ Doğal su kaynakları artar.  
☆ Bitki türleri yok olur.  
☆ Hastalıklar çoğalır.  
☆ Nüfus artışı olur.

Yukarıda verilenlerden kaç tanesi kaynaklarımızın bilinçsiz kullanılması sonucunda ortaya çıkar?

A) 1

B) 2

C) 3

Cevap : B

5) Sabah kalktıđımızda aŐađıdaki-  
lerden hangisini yaparız.

A) Elimizi yüzümüzü yıkarız.

B) Ödevimizi yaparız.

C) Oyun oynarız.

Cevap : A

6) AŐađıdaki ifadelerden hangisi  
**yanlıŐtır?**

A) KiŐisel bakımımı yaparken kay-  
naklarımı tasaruflu kullanırım.

B) Yemeklerden sonra ellerimi  
yıkarım.

C) Haftada iki kere diŐlerimi fır-  
çalarım.

Cevap : C

7) Aşağıdaki durumlardan hangisi tutumlu bir kişinin davranışıdır?

A)



B)



C)



Cevap : B

7) Aşağıdaki durumlardan hangisi tutumlu bir kişinin davranışıdır?

A)



B)



C)



Cevap : C

[Online Test Çöz](#)

[Pdf İndir](#)