


# 1. Sınıf Matematik Örüntü ve Süslemeler Testi Çöz

1.

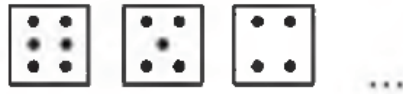


Yukarıdaki örüntüde boş bırakılan yere hangi nesne gelmelidir?




Cevap : B

2.



Yukarıdaki örüntüde boş bırakılan yere hangisi gelmelidir?



Cevap : A

3.

Aşağıdakilerden hangisi bir örüntü değildir?



Cevap : B

4.



Yukarıdaki örüntüde "?" yerine hangisi gelmelidir?



Cevap : B

5.



Yukarıdaki örüntüde boş bilyelerin üzerine aşağıdakilerden hangileri yazılmalıdır?

A) 40 ve 80

B) 30 ve 40

C) 40 ve 70

Cevap : C

6.



Yukarıdaki çiçeklerin oluşturduğu örüntü ile aynı kurala sahip örüntü hangisidir?

A) 2 2 3 3 2 2

B)  $\Delta$   $\bullet$   $\square$   $\square$

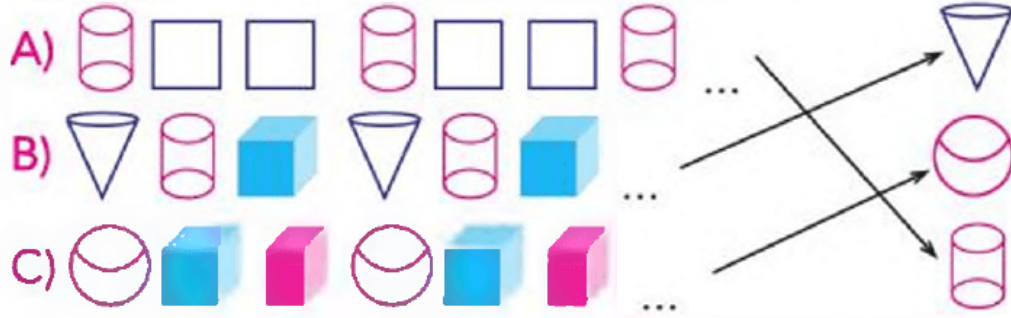
C) Köpek-İnek-Eşek

Cevap : C

7.

Aşağıdaki örüntülerde bir sonra gelecek olan şekiller eşleştirilmiştir.

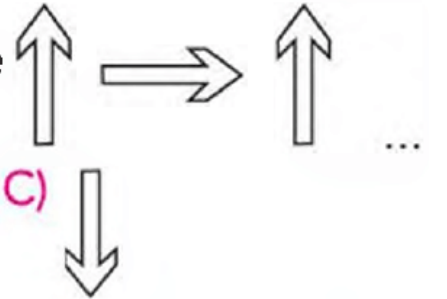
Eşleştirmelerden hangisi yanlıştır?



Cevap : A

8.

Yandaki örüntüde boş bırakılan yere hangi şekil gelmelidir?



A)  $\rightarrow$

B)  $\leftarrow$

C)  $\downarrow$

Cevap : A

9. Yandaki süslemede hangi şekil kulanılmamıştır?



Cevap : B

[Online Test Çöz](#)

[Pdf İndir](#)