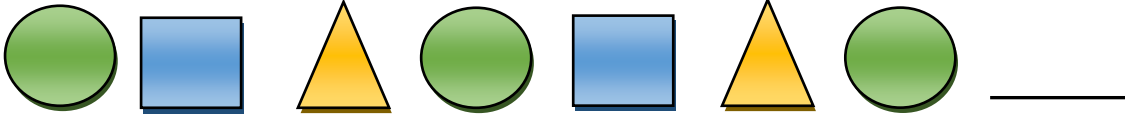
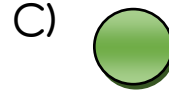
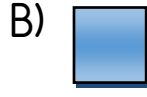



Aşağıda verilen örüntülerde boşluklara, kurala uygun olan şekilleri işaretleyiniz.



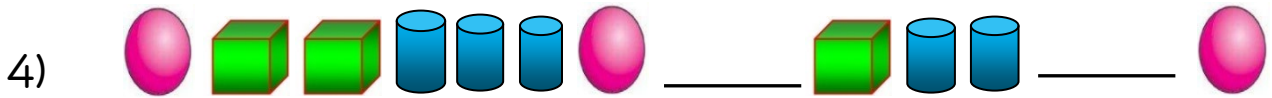
1) Yukarıdaki örüntüde boş bırakılan yere hangisi gelmelidir?



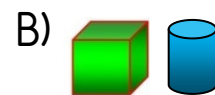
Yukarıdaki örüntüde boş bırakılan yere hangisi gelmelidir?



Yukarıdaki örüntüde boş bırakılan yerlere hangileri gelmelidir?






Yukarıdaki örüntüde boş bırakılan yerlere hangileri gelmelidir?



5)   
Yukarıdaki örüntüde boş bırakılan yerlere hangileri gelmelidir?

- A)  B)  C) 

6)   
Yukarıdaki örüntüde kuralı bozan şekil hangisidir.

- A)  B)  C) 

7)   
Yukarıdaki örüntünün kuralı hangisidir?

- A) 1 yıldız, 1 kare, 1 üçgen  
B) 1 yıldız, 2 kare, 2 üçgen  
C) 1 yıldız, 1 kare, 2 üçgen

8)   
Yukarıdaki örüntüde boş bırakılan yerlere hangileri gelmelidir?

- A)  B)  C) 

9)   
Yukarıdaki örüntüde boş bırakılan yere hangileri gelmelidir?

- A)  B)  C) 