

1) Hangisi para çeşitlerimizden biri değildir?

- A) Kâğıt para
- B) Plastik para
- C) Madeni para

2) Değeri en az(en küçük) olan madeni paramız hangisidir?



3) Değere en fazla(en büyük) olan madeni paramız hangisidir?



Yukarıdaki paraların miktarı aşağıdakilerden hangisine eşittir?



5)  -  = ?

Yukarıdaki işlemin sonucu hangisine eşittir?



6) Değeri en fazla(en büyük) olan kâğıt paramız hangisidir?





Yukarıda kaç lira vardır?

- A) 30 TL B) 35 TL C) 40 TL




8) Hangi seçenekteki paraların miktarı ile yandaki paranın miktarı birbirine eşittir?

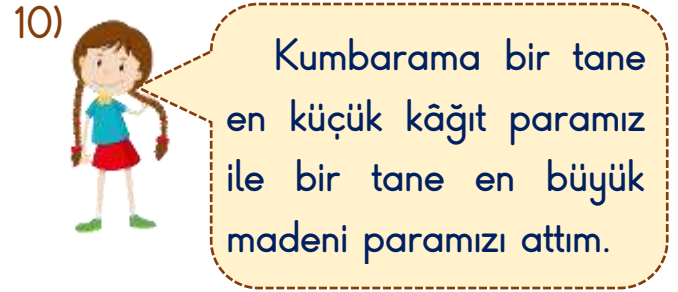


- A) 
- B) 
- C) 



Yukarıdaki para ile aşağıdaki kıyafetlerden hangisi alınmaz?

- A)  45 TL
- B)  35 TL
- C)  25 TL



Verdiği bilgiye göre İlayda kumbarasına kaç lira atmıştır?

- A) 6 TL B) 11 TL C) 51 TL

11) Hangi çocuk yandaki toptan iki tane alabilir?

25 TL



- A) 
- B) 
- C) 

12) Her gün yandaki parayı harçlık olarak alan Ezel, bir haftada kaç lira harçlık almaktadır?



- A) 30 TL B) 35 TL C) 40 TL