




1) Aşağıdaki eşleştirmelerden hangisi yanlıştır?

A)  → 1 TL

B)  → 25 Kuruş

C)  → 50 TL

2) Değeri en fazla olan madeni para aşağıdakilerden hangisidir?

A)  B)  C) 

3) Hangi şıktaki paralarla daha fazla eşya ve malzeme alabiliriz?


A)  
B)  
C)   

4)     

Yukarıdaki paraların toplam değeri kaç TL dir?

A) 17 B) 15 C) 18

5)



Yandaki öğrencilerin paralarının toplamı ne kadardır?

A) 70 ₺ B) 80 ₺ C) 100 ₺

6)

50 ₺ param var.



Zeynep

Zeynep elindeki para ile aşağıdakilerden hangisini alabilir?

A)  55 ₺

B)  35 ₺

C)  70 ₺

7) Aşağıdaki ifadelerden hangisi yanlıştır?

A) 8 tane 1 TL,10 TL eder.
B) 4 tane 50 kuruş,2 TL eder.
C) 2 tane 25 kuruş,50 kuruş eder.

8)



₺12



₺10

Hasan



Hasan'ın yukarıdakileri alabilmesi için kaç ₺ parası olması gerekir?

- A) 25 ₺ B) 20 ₺ C) 22 ₺

9) 40 ₺ paramız olması için bize kaç tane 10 ₺ gereklidir?

- A) 4 B) 3 C) 5

10)



Yukarıdaki paraların toplam değeri hangi paranın değerine eşittir?



A)



B)



C)

11) Aşağıdaki paralardan hangisinin toplamında hata yapılmıştır?

A)  +  = 15 ₺

B)  +  = 40 ₺

C)  +  = 70 ₺

12) 20 ₺ için aşağıdakilerden hangisi söylenemez?

- A) İki tane 10 ₺'den oluşur.
B) Dört tane 4 ₺'den oluşur.
C) Dört tane 5 ₺'den oluşur.

13) Yanda verilen eşyaları satın alabilmemiz için aşağıdaki paralardan hangisi gereklidir?



₺ 2



₺ 17



A)



B)



C)

14)



+



= 45 TL

Aşağıdaki paralardan hangisi ile yukarıdaki eşyaları satın alabiliriz?



A)



B)



C)

15) Aşağıdaki bilgilerden hangisi doğrudur?

- A) Değeri en yüksek madeni para 1 ₺ dir.
B) Değeri en düşük kağıt para 3 ₺ dir.
C) Değeri en büyük kağıt para 10 ₺ dir.