


1) Yandaki defterden üç tane alan Celil, kırtasiyeye kaç lira ödemelidir?



A) 21 TL B) 24 TL C) 28 TL

2) Miraç, 27 lira olan futbol topunu almak için satıcıya 50 lira vermiştir.



Miraç kaç lira para üstü almalıdır?

A) 13 TL B) 23 TL C) 33 TL

3)



10 liraya kalemlik almak isteyen Ayşe'nin kumbarasından yukarıdaki paralar çıkmıştır.

Kalemlik almak için Ayşe'nin kaç liraya ihtiyacı vardır?

A) 2 TL B) 3 TL C) 4 TL

4) Kumbarasına her gün 4 lira atan Ezel, yandaki çantayı kaç gün sonra alabilir?



A) 9 B) 18 C) 21

5) Fadime 20 lira ile kantine giderek 6 liraya tost, 3 liraya meyve suyu almıştır.



Fadime'nin kaç lirası kalmıştır?

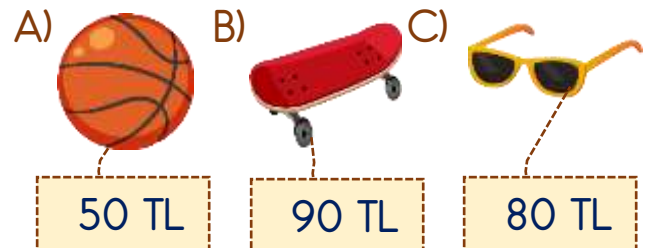
A) 9 TL B) 11 TL C) 13 TL

6)



Kerem'in kumbarasından yukarıdaki paralar çıkmıştır.

Kerem'in paraları hangisini almak için ne eksik ne de fazladır?



7) Yandaki şekerden 6 tane alıp 5 lira veren İlayda kaç lira para üstü almalıdır?



- A) 50 kr. B) 1 TL C) 2 TL

8) Eymen'in 13, Melek'in 8 lirası vardır. İki arkadaş paralarını birleştirip 30 liraya bir oyuncak almak istiyor.






Eymen ile Melek'in oyuncacı almak için kaç liraya ihtiyaçları vardır?

- A) 6 TL B) 9 TL C) 12 TL

9)



Yukarıdaki para ile hangi kıyafetten tam iki tane alınabilir?

- A)  45 TL B)  30 TL C)  25 TL

10)



Hafta içi her gün okulda 4 lira harcıyorum.

Pazartesi günü annesinden 20 lira harçlık alan Muhammed'in 3 gün sonra kaç lirası kalır?

- A) 8 TL B) 12 TL C) 16 TL

11) Melek dondurmacıdan 5 liralık dondurma ve 15 lira para üstü aldı.



Buna göre Melek dondurmanın parasını ödemek için dondurmacıya kaç lira vermiştir?

- A) 10 TL B) 20 TL C) 30 TL

12) Evimizde her gün 2 ekme tüketiliyor.



Ekmeğin tanesi 2 TL olduğuna göre bir haftada aile bütçemizden kaç lira ekmeğe ödenmektedir?

- A) 14 TL B) 21 TL C) 28 TL