

1)



6 - 15 - 24 - 33 - 42 - 51



3 - 12 - 21 - 30 - 39 - 48

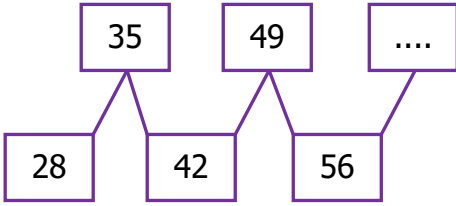


7 - 16 - 25 - 33 - 43 - 52

Hangi öğrenci 9'ar ritmik saymayı yanlış yapmıştır?



2)



Yukarıdaki ritmik sayma hangi sayı ile devam etmelidir?

A) 65

B) 64

C) 63

3)



7'den başlayıp ileriye doğru 8'er ritmik sayma yapıldığında çocukların elindeki tabelalara hangi sayılar yazılmalıdır?

A) 14 - 23 - 31

B) 15 - 23 - 31

C) 15 - 23 - 32

4) İleriye doğru altışar ritmik sayarken 3. söylenen sayı 54 ise saymaya hangi sayıdan başlanmıştır?

A) 42

B) 36

C) 30

5) İleriye doğru yedişer ritmik sayarken 42'den önce ve sonra söylediğimiz sayılar hangi seçenekte sıra ile verilmiştir?

A) 37 - 48

B) 36 - 49

C) 35 - 49

6)



İleriye doğru 9'ar ritmik sayma yaparken 45'dan önce söylediğim sayı kaçtır ?

A) 37

B) 36

C) 35

7) 32'den başlayarak sekizer ritmik sayarken 4. saymada söylediğimiz sayı kaçtır?

A) 56

B) 64

C) 72

| | | | | | |
|----|----|----|----|----|----|
| 21 | 28 | 35 | 42 | ★ | 56 |
| 45 | 56 | 63 | 72 | 81 | ▲ |


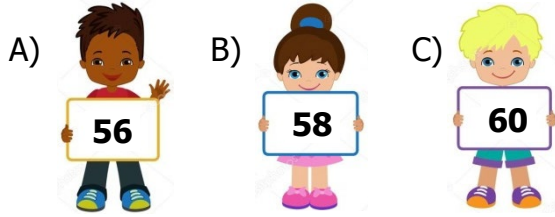
Yukarıdaki ritmik saymalarda "★" ve "▲" yerine hangi sayılar gelmelidir?

★ ▲

- A) 48 89
B) 49 90
C) 49 91

9) İleriye doğru 8'er ritmik sayma yaparken 48'den sonra hangi sayıyı söyleriz?

Yukarıdaki soruya hangi öğrenci doğru cevap vermiştir?



Balonlardaki sayılar küçükten büyüğe doğru sıralandığında aşağıdakilerden hangisi doğrudur?

- A) Sekizer ritmik saymadır.
B) Yedişer ritmik saymadır.
C) Altısar ritmik saymadır.

11) Sekizer saymada 40'tan önce ve sonra söylediğimiz sayılar sırasıyla aşağıdakilerden hangisidir?

- A) 32 - 48 B) 34 - 46 C) 44 - 50

12) Ali, 18'den başlayarak ileriye doğru defterine 9'ar ritmik sayma yazıyor.



Buna göre Ali, hangi sayıyı yanlış yazmıştır?

- A) B) C)

13) "0" (sıfır) dan başlayıp altısar ileriye ritmik saydım.

Ben de "0" (sıfır) dan başlayıp sekizer ileriye ritmik saydım.



Elif ve Berke'nin ritmik saymaları 40'tan küçük ortak söyledikleri sayı aşağıdakilerden hangisidir?

- A) 36 B) 30 C) 24

14) 19'dan başlayıp ileriye doğru yedişer sayarsam aşağıdakilerden hangisini söylemem?

- A) 26 B) 30 C) 40