

3. Sınıf Matematik Sayma Yapalım Testi Çöz

1)



Yukarıdaki 6 tabakta bulunan toplam çilek sayısı kaçtır?


A) 15

B) 18

C) 20

Cevap : B

2)



Yukarıdaki 2 yumurta kolisinde bulunan toplam yumurta sayısı aşağıdakilerden hangisiyle bulunur?

A) 2×9

B) 2×6

C) 3×9

Cevap : A

3)



Yukarıda görülen 7 kedinin ayak sayıları toplamı aşağıdakilerden hangisi ile bulunur?

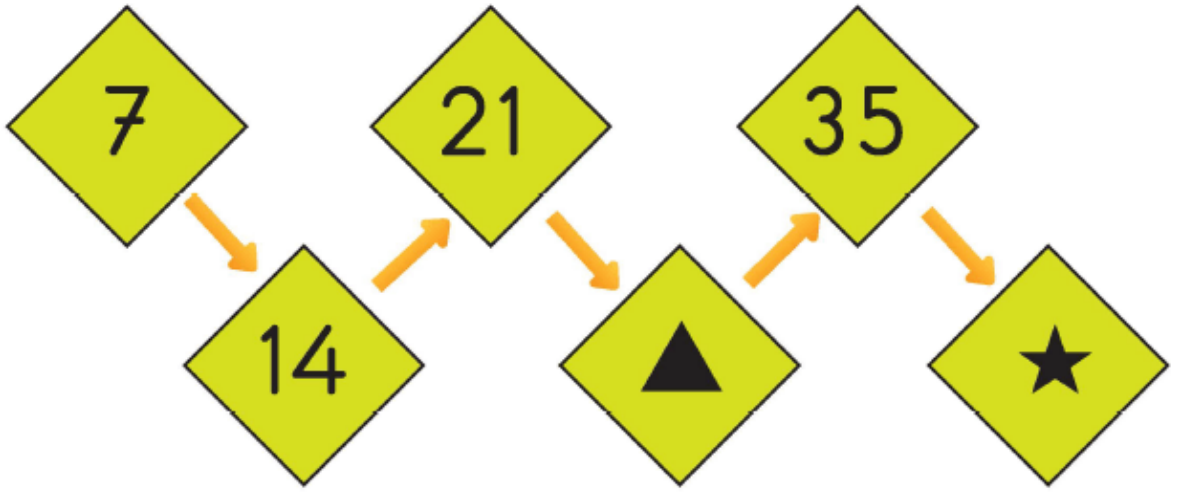
A) 7×2

B) 7×7

C) 7×4

Cevap : C

4)



Yukarıdaki sayı örüntüsünde verilmeyen \blacktriangle ve \star sembolleri yerine gelecek sayıların toplamı kaçtır?

- A) \diamond 66 B) \diamond 68 C) \diamond 70

Cevap : C

5)

$$5 \times 3 = 15$$

$$9 \times 0 = 9$$

$$7 \times 1 = 1$$

$$6 \times 5 = 30$$

Yukarıdaki panoda verilen işlemlerden kaç tanesinin sonucu doğrudur?


A) 1

B) 2

C) 3

Cevap : C

6)



Yukarıdaki örüntüde verilmeyen sayıların toplamı kaçtır?

A) 99

B) 96

C) 90

Cevap : A

7)



Yukarıdaki örüntüde verilmeyen sayıların toplamı kaçtır?

A)72

B)70

C)68

Cevap : A

[Online Test Çöz](#)

[Pdf İndir](#)