

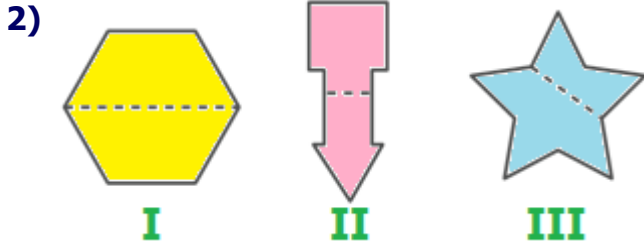
	Bütün şekillerin simetri doğrusu vardır.
	Karenin 8 tane simetri doğrusu vardır.
	Simetri doğrusu, simetrik cisimleri iki eş parçaya ayırır.

Her biri bir **ulaşım aracıyla** eşleşen cümlelerden hangisi yanlış değildir?

- A) vapur B) araba C) otobüs



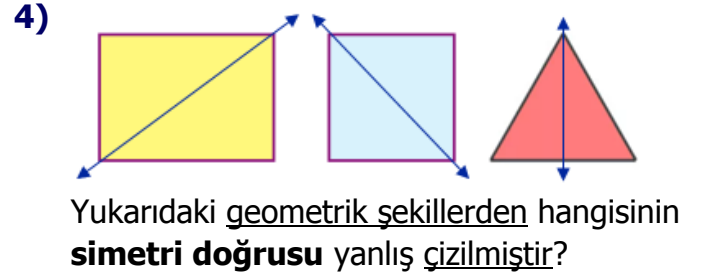
Yukarıdaki şekillerden hangileri **iki eşit parçaya** ayrılmıştır?

- A) Yalnız I B) I ve II C) II ve III

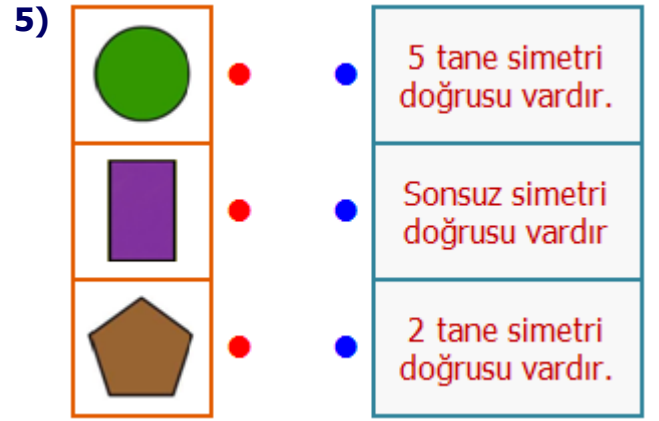


Yukarıdaki harflerden kaç tanesinin simetri doğrusu bulunmamaktadır?

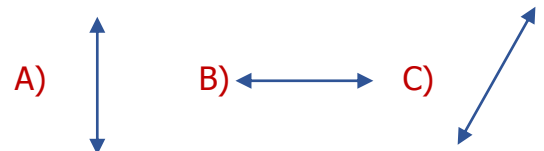
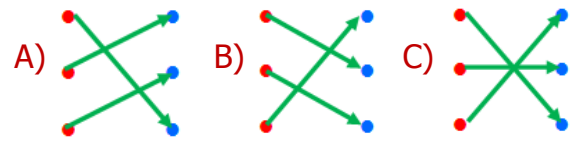
- A) 1 B) 2 C) 3



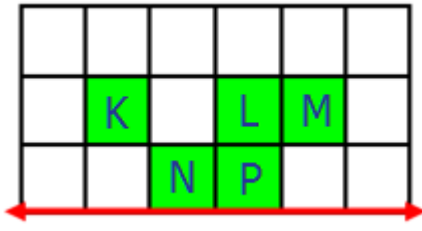
- A) üçgen B) dikdörtgen C) kare



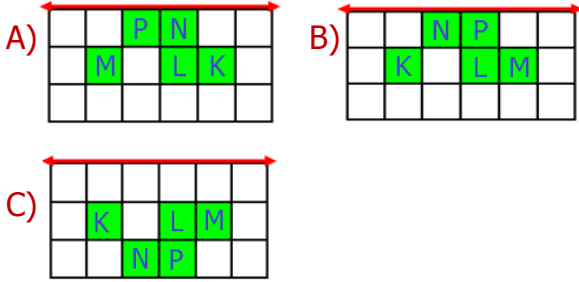
Yukarıdaki geometrik şekiller ve cümleler eşleştirilirse nasıl bir **görüntü** oluşur?



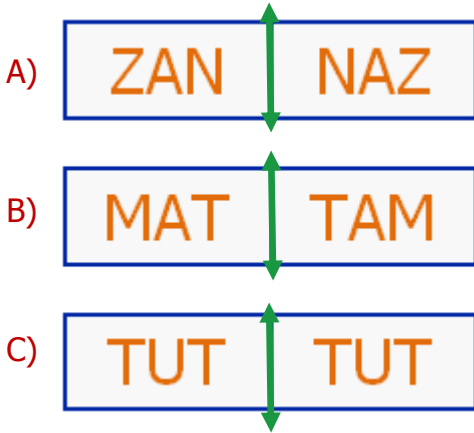
7)



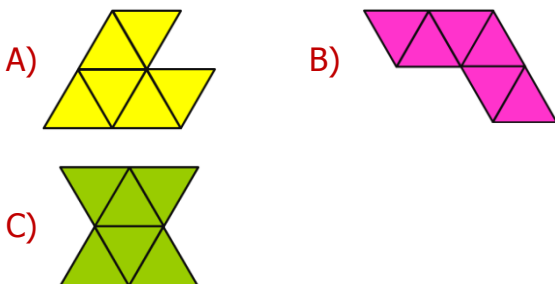
Harf içeren **boyalı** alanın doğruya göre simetrisi aşağıdakilerden hangisidir?




8) Aşağıdaki kelimelerden hangisinin doğruya göre **simetrisi** hatalıdır?



9) Aşağıdaki şekillerden hangisinin birden fazla simetri doğrusu vardır?



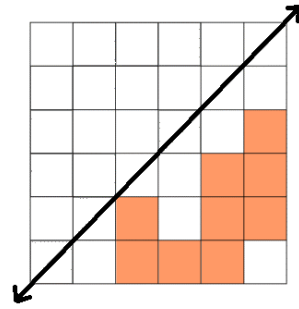
10)



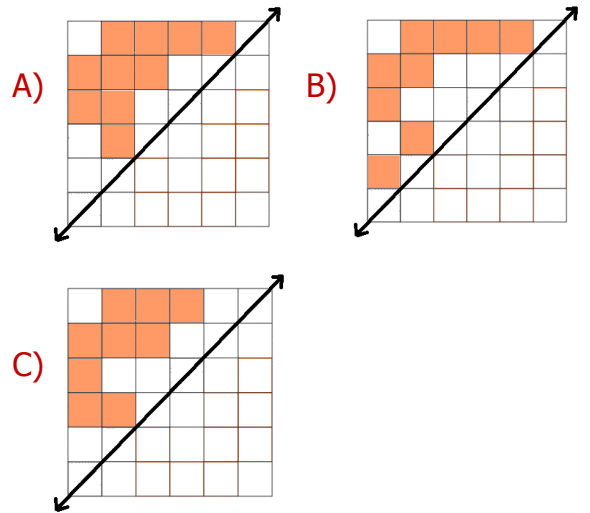
Üstteki rakamlardan simetri doğrusu olanlar ile **üç basamaklı** hangi sayı yazılabilir?

A) 308 B) 253 C) 806

11)



Yukarıdaki **boyalı** alanın doğruya göre simetrisi aşağıdakilerden hangisidir?



12) Aşağıdaki cisimlerden hangisinin **simetri doğrusu** vardır?

