



- 1)  Yarım litre zeytin yağı 12 liradır. 3 litre zeytin yağı aldım.

Ceylin

Ceylin satıcıya 100 lira verirse kaç lira para üstü alır ?

- A) 26 B) 18
C) 38 D) 28

- 2)  Annem 200 mL portakal suyu için aynı büyüklükte 3 tane portakal kullandı. Annem 1 L portakal suyu sıktı.

Buna göre anne 1 L portakal suyu için kaç tane portakal kullanmıştır?

- A) 15 B) 12
C) 13 D) 14

- 3) Amcam önce 3 L 75 mL , sonra 4925 mL pekmez almış.

Buna göre amca toplam kaç litre pekmez almıştır?

- A) 9 L B) 8 L
C) 10 L D) 7 L

- 4) Annem 2 L ayçiçeği yağından 7 bardak kullanmış. Bir bardak 165 mL yağ aldığına göre geriye ne kadar yağ kalmıştır?




- A) 855 mL B) 845 mL
C) 945 mL D) 955 mL

- 5) Yandaki araba 20 km'de 1 L mazot tüketmektedir. Mazotun litresi 7 lira olduğuna göre bu araba 200 km'lik yolda kaç liralık mazot tüketir?



- A) 63 B) 65
C) 70 D) 75

- 6)  Amcam ineklerden elde ettiği 15 litre sütü 60 liraya satmış.

Yukarıdaki ifadeye göre Ayla'nın amcası 48 L sütün satışından kaç lira elde eder?

- A) 192 B) 182
C) 194 D) 190

7) Rana 2 litrelik ayranı 200 mililitrelik bardaklara dolduruyor. Ama şişede 3 bardaklık ayran kalıyor. Buna göre Rana kaç bardak ayran doldurmuştur?




- A) 10 B) 8
C) 7 D) 6

8) Her biri 20 litre olan 3 damacana suyun $\frac{3}{4}$ 'ünü önceden kullandık. Kalan suyun ise 7 litresini daha kullandık. Geriye kaç litre su kalmıştır?



- A) 9 B) 7
C) 10 D) 8

9)  Bir kaptaki 3 litre suyun üzerine $\frac{4}{10}$ 'ü kadar daha su koydum.

Belirtilen su konduktan sonra kapta ne kadar su olmuştur?

- A) 3200 mL B) 3300 mL
C) 4000 mL D) 4200 mL

10) Ercan 90 mL olan şuruptan günde 3 sefer içiyor. Kaşık 5 mL şurup alıyor. Buna göre Ercan şurubu kaç günde bitirir?



- A) 6 B) 7
C) 5 D) 8

11) Bir berber ayda 750 mL kolonya tüketmektedir. Her ay eşit miktarda kolonya tükettiğine göre 3 yılda kaç litre kolonya tüketir?



- A) 9 L B) 24 L
C) 27 L D) 30 L

12) Bir mandırada 192 litre süt üçer litrelik şişelere dolduruluyor. Şişelerin $\frac{6}{8}$ 'i satılıyor.

Sütün litresi 4 lira olduğuna göre bu satıştan kaç lira elde edilmiştir?

- A) 192 B) 576
C) 566 D) 586