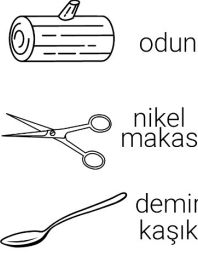
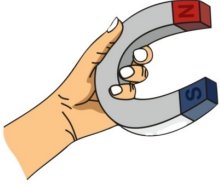


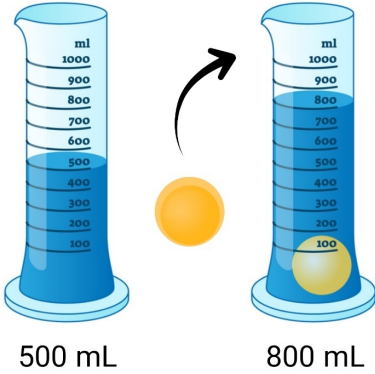
21)



Yukarıdaki üç nesneye mıknatis yaklaştırıldığında aşağıdaki durumlardan hangisi gerçekleşmez?

- A) Nikel makas mıknatis tarafından çekilir.
- B) Mıknatis odunu çekmez.
- C) Demir kaşık mıknatisi iter.
- D) Mıknatis demir kaşığı çeker.

22)




Görselde verilen katı cisim, içerisinde 500 mL sıvı bulunan dereceli kabın içine atılıyor. Son durumda kabın seviyesinin 800 mL olduğu görülüyor.

Verilen bilgilere göre bu katı cismin hacmi aşağıdakilerden hangisidir?

- A) 300 mL
- B) 400 mL
- C) 500 mL
- D) 600 mL

23)



Kalp, beyin, karaciğer ve akciğer, yukarıdaki görselde sigaranın zararları için bir araya gelmiştir. Buna göre aşağıdaki sloganlardan hangisini söylerlerse yanlış bir cümle kullanmış olurlar?

- A) Dumana hayır, temiz havaya evet!
- B) Alkol, tüm kötülüklerin başıdır.
- C) Sigarayı bırak, hayata tutun!
- D) Ciğerimi seviyorum sigara içmiyorum!

24) Aşağıda verilenlerden hangisi, madde nin ölçülebilir özelliklerinden biridir?

- A) suyu geçirmek
- B) esneklik
- C) sertlik
- D) kütle

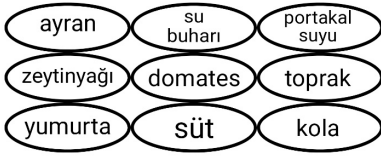
25)



Mıknatis yaklaştırmak, yukarıda verilen nesnelere zarar verir?

- A) cep telefonu, kredi kartı, hoparlör
- B) cep telefonu, tahta sandalye
- C) plastik tabak, kredi kartı, hoparlör
- D) plastik tabak, tahta sandalye

26)



Kağıtlarda yazan nesnelere "sıvı" olanlar maviye boyanacaktır. Buna göre aşağıdaki durumlardan hangisi ortaya çıkacaktır?

- A) B)
- C) D)

27)

- 1 Suyun buza dönüşmesi için ısı gerekir.
- 2 Buzun suya dönüşmesi için ısı gerekir.
- 3 Suyun buhar haline gelmesi için ısı gerekir.

Yukarıda verilen cümlelerdeki boşluklara sırasıyla gelmesi gereken kelimeler hangi şıkta doğru verilmiştir?

- A) vermesi, alması, vermesi
 B) vermesi, alması, alması
 C) alması, alması, vermesi
 D) alması, vermesi, alması

28) "Kuvvet" ve "hareket" ile ilgili aşağıdaki bilgilerden hangisi yanlıştır?

- A) Hareket halindeki bisikletin frenine basılınca durur.
 B) Atlı karıncanın yaptığı hareket dönme hareketidir.
 C) İnişe geçen uçak yavaşlama hareketi yapar.
 D) Yerden çantayı almak için itme hareketi yapılır.

29)

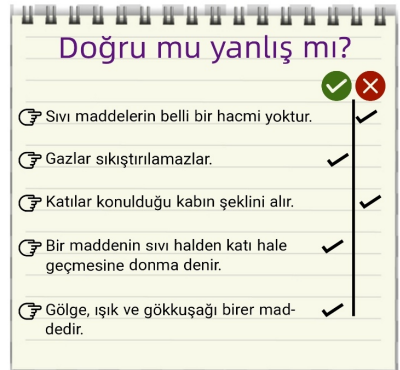


Yukarıda bir kabın içerisindeki kahvenin kütlesi ölçülmüştür. Sonra kahve boşaltılıp kabın darası da ölçülmüştür. Ağırlıklar, tartılmanın üzerinde yazmaktadır.

Dara ve brüt ağırlık verilen yukarıdaki işlemde, kahvenin net ağırlığı aşağıdakilerden hangisidir?

- A) 800 gr
 B) 1050 gr
 C) 1000 gr
 D) 1100 gr

30)



Bu kağıtta verilen cümlelerin doğru mu yoksa yanlış mı olduğu sorulmuştur. Semih'in verdiği cevaplar görülmektedir.

Her cümle 20 puan değerinde olduğuna göre, Semih bu sınavdan toplam kaç puan alacaktır?

- A) 40 puan
 B) 80 puan
 C) 60 puan
 D) 20 puan