

- 43) Dünya'nın yuvarlak olduğunu ispatlamak için çıkmış olduğu deniz yolculuğunda hayatını kaybetti.

Yukarıda bahsedilen kişi kimdir?

- A) Pisagor
B) Macellan
C) Galileo

- 44) Mert, annesinin yaptığı pizzanın kokusuna dayanamadı. Mutfağa giderek pizzanın tadına baktı.



Mert pizzayı yerken hangi duyu organlarını kullanmıştır?

- A) dil – burun - göz
B) kulak – dil - burun
C) dil – göz - kulak

- 45) Aşağıdaki eşleştirmelerden hangisi yanlıştır?

- A) Ağaçtan düşen elma - Hızlanma hareketi
B) Viraja giren araba - Yön değiştirme hareketi
C) Kale direğine çarpan top - Dönme hareketi

46) PÜRÜZLÜ

.....

1

PÜRÜZSÜZ

.....

2

Yukarıdaki kutularda belirtilen maddenin özelliklerine sırasıyla hangileri yazılmalıdır?

1

2

- A) Araba lastiği - cam
B) Ayna - bilgisayar ekranı
C) Ceviz kabuğu - halı

47)

★	▲	■
• Yıldız • Ay • Fener	• Ateş böceği • Güneş • Şimşek	• Meşale • Mum • Güneş











Yukarıda verilenlerin tümü doğal ışık kaynaklarına örnektir?

- A) ★ B) ▲ C) ■







- 48) Aşağıdakilerden hangisi tüm canlıların ortak özelliklerinden biri değildir?

- A) Solunum yaparlar.
B) Çoğalırlar.
C) Kendi besinlerini üretirler.

- 49) I. Üzerinde birçok canlı yaşar.
II. Dünyanın etrafını ince bir battaniye gibi sarar.
III. Taş, toprak ve kaya gibi maddelerden oluşur.
Yukarıda verilen ifadelerden hangileri kara katmanına aittir?
- A) Yalnız I B) I ve III C) II ve III

- 50)  Konuşmamızı yardımcı olur.
 Besinlerin yutulmasını sağlar.
 Soluk alırken havadaki tozlardan korur.
Yukarıdakilerden hangileri dilin görevlerindedir?
- A)   B)   C)   

- 51) Aşağıda maddenin gaz hali ile ilgili verilen bilgilerden hangisi yanlıştır?
- A) Sıkıştırılabilirler.
B) Genellikle etkileriyle ayırt edilirler.
C) Belirli bir şekilleri vardır.

- 52)  Prizden fişi çıkarmak
 Şemsiyeyi açmak
 Topa vurmak
Yukarıda verilen olaylarda uygulanan kuvvet türü hangi seçenekte doğru verilmiştir?
-   
- A) çekme – itme - çekme
B) çekme – itme - itme
C) itme – çekme - çekme

- 53) Aşağıda ses ile ilgili verilen bilgilerden hangisi yanlıştır?
- A) Ses çıkaran her şey ses kaynağıdır.
B) İşitme duyu organımız kulaktır.
C) Kaynağından uzaklaştıkça sesin şiddeti artar.




54)

Doğal Çevre	Yapay Çevre
1) mağara	3) göl
2) park	4) baraj

- Yukarıdaki tabloda verilen hatayı düzeltmek için kaç numaralı kutular yer değiştirmelidir?
- A) II ve III B) I ve III C) I ve IV

- 55)
- | | | | |
|------------|---|---|-----------------|
| kumanda | • | • | akü |
| televizyon | • | • | pil |
| kamyon | • | • | Şehir elektriği |

Yukarıdaki araçlarla kullandıkları enerji kaynaklarının doğru eşleştirmesi nasıl olmalıdır?

- A)  B)  C) 

- 56) Aşağıdaki ifadelerden hangisi yanlıştır?
- A) Elektrikli aletler çalışırken taşınmaz.
B) Yıpranmış kabloları kullanmamalıyız.
C) Kopmuş elektrik tellerini elimizle tutarak bulunduğu ortamdan kaldırmalıyız.