

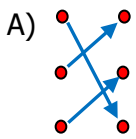
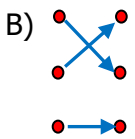
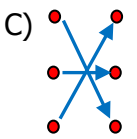
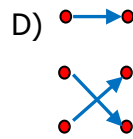
- 31) Ekonomik değeri olan kayaçlar maden olarak adlandırılır.
- Deniz canlıların fosilleri sadece deniz tabanlarında bulunur.
- Yer kabuğunun kalınlığı Dünya üzerinde bölgelere göre farklılık gösterir.

Yukarıda verilen bilgilerin doğru - yanlış durumu hangi seçenekte verilmiştir?

- A) D D Y D
- D Y D D
- D D D Y

- 32) karbonhidratlar Düzenleyici
- vitaminler Yapıcı ve onarıcı
- proteinler Enerji verici

Yukarıda verilen besin içerikleri ve görevleri eşleştirildiğinde görünüm aşağıdakilerden hangisi gibi olur?

- A)  B)  C)  D) 

33)



Görsele göre topun yapmış olduğu hareket çeşidi aşağıdakilerden hangisidir?

- A) Renk değiştirme B) Yavaşlama
- C) Yön değiştirme D) Şekil değiştirme

34)



Yukarıdaki görsellerde verilen maddelerin özellikleri hangi seçenekte sırası ile verilmiştir?

- A) suda batar – suyu emmeyen – suda yüzer
- B) suda yüzer – suyu emen – suda batar
- C) suda yüzer – suyu emmeyen – suda batar
- D) suda batar – suyu emen – suda yüzer

35) Uygun aydınlatma ile ilgili ifadelerden hangisi yanlıştır?

- A) Yemek yediğimiz ortamlarda bölgesel aydınlatma kullanılmalıdır.
- B) Televizyonun karanlıkta izlenmemesi gerekir.
- C) Sokaklardaki her alan aydınlatılmalıdır.
- D) Işık aydınlatılacak ortama yönlendirilmelidir.

36) Aşağıdaki ifadelerin hangisinde farklı bir alanda tasarruf yapılmıştır?

- A) Kullanmadığımız oda lambalarını kapatmalıyız.
- B) Yemekleri küçük porsiyonlar şeklinde servis etmeliyiz.
- C) Buzdolabını kapağının kapısını uzun süre açık bırakmamalıyız.
- D) Tasarruflu ampul tercih etmeliyiz.

37) Aşağıdakilerden hangisi basit bir elektrik devresinde devre elamanı olarak kullanılmaz?

- A) Priz B) Anahtar
- C) Kablo D) Pil

- 38) I. Gün içinde, gölge oluşumları gerçekleşir.
II. Mevsimler oluşur.
III. Gece – gündüz oluşur.
IV. Sıcaklık değişimleri yaşanır.

Yukarıdakilerden hangileri Dünya'nın kendi etrafında dönmesinden kaynaklanır?

- A) Yalnız I
B) I. ve III.
C) II. ve IV.
D) I. ve IV.

39) Dengeli ve sağlıklı beslenen bir kişi aşağıdakilerden hangisini yapmamalıdır?

- A) Vücuda alınan enerji harcanan enerjiden fazla olmalıdır.
B) Her besin grubundan yeterli ve dengeli beslenmelidir.
C) Besinlerin saklanma koşullarına dikkat etmelidir.
D) Dondurulmuş ve paketlenmiş ürünler yerine taze besinler tüketmelidir.



Yukarıdaki verilen mıknatıslarla ilgili aşağıdaki ifadelerden hangisi doğrudur?

- A) Birbirlerini çekerler.
B) Birbirlerini etkilemezler.
C) Birbirlerini iterler.
D) Birbirlerini dengede tutarlar.

41) Brüt kütlesi 5 kg olan bal dolu bir kabın içerisindeki bal 4680 g ise kabın darası kaç gramdır?



- A) 220 g
B) 1220g
C) 9680 g
D) 320 g

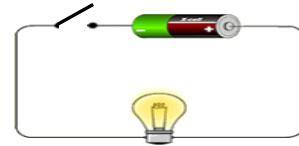
- 42) → Ses kirliliği işitme kaybına neden olur.
→ Havaalanları yerleşim yerlerine yakın kurulmamalı.
→ Binalar yapılırken ses yalıtım malzemeleri kullanılmalı.
→ Ses kirliliğinin en çok olduğu yerler ormanlık alanlardır
Yukarıdaki ifadelerin kaç tanesi doğrudur?

- A) 1
B) 2
C) 3
D) 4

43) Geri dönüşümle ilgili aşağıdaki ifadelerden hangisi yanlıştır?

- A) Doğal kaynaklarımız korunur.
B) Çöp miktarının artmasına neden olur.
C) Enerji tasarrufu sağlanır.
D) Atık miktarı azalır.

44)



Yukarıdaki devre elemanları ile ilgili ifadelerden hangisi yanlıştır?

- A) Anahtar kapalı durumdadır.
B) Ampul ışık vermez.
C) Devrede pil yatağı yoktur.
D) Kablo elektrik enerjisini dolaşımını sağlar.

- 45) ★ Buldukları kabın şeklini alırlar
■ Akışkandırlar
▲ Sıkıştırılabilirler

Yukarıda maddelerle ilgili belirtilen özelliklerden hangileri sıvılar ve gazlar için ortak özelliklerdir?

- A) Yalnız ★
B) ★ ■
C) ■ ▲
D) ★ ▲