

1)



Merhaba benim adım Merve.
Şarkı söylemeyi çok
seviyorum. Kendimi bu
konuda yetenekli buluyorum.
Okulun müzik kulübündeyim.

Merve ile ilgili verilen ifadelerden hangisi yanlıştır?

- A) Yeteneklerinin farkındadır.
- B) Okulda müzik kulübündedir.
- C) Tiyatroya ilgisi vardır.

2) I.Evimizin krokisini çizerken cadde, sokak ve önemli binaları belirtiriz.

II.Kroki çizerken cetvel kullanabiliriz.

III.Krokiyi çizerken ölçü kullanmadan kabataslak çizim yaparız.

Yukarıdaki ifadelerle hangisini söyleyebiliriz?

- A) Yalnız I
- B) I ve II
- C) I ve III

3)

Özlem'in marketten aldığı meyve suyu bozuk çıktı.



Bu durumda Özlem, öncelikle nasıl davranmalıdır?

- A) Meyve suyunu markete iade etmelidir.
- B) Meyve suyunu satan marketi şikayet etmelidir.
- C) Meyve suyunu kullanmalıdır.

4) Aşağıdaki trafik levhalarından hangisinin ismi yanlış yazılmıştır?

- A)  → Yaya geçidi
- B)  → Bisiklet geçebilir
- C)  → Kontrolsüz demiryolu geçidi

5) Aşağıdaki verilen acil telefon numaraları eşleştirmelerinden hangisi yanlıştır?

- A) itfaiye → 110
- B) ambulans → 112
- C) polis → 156

6) Aşağıda "vali" ile ilgili verilen bilgilerden hangisi yanlıştır?

- A) Halk tarafından seçilir.
- B) İlerdeki en büyük yöneticidir.
- C) İlerdeki yasaların uygulanmasından sorumludur.

7) Türkiye'nin ilk uçak tasarımcısı ve üreticisi olan kişi aşağıdakilerden hangisidir.

- A) Vecihi Hürkuş
- B) Zihni Derin
- C) Jale İnan

8) Okuldaki kaynaklar ile kullanım alanları hangi seçenekte yanlış eşleştirilmiştir?

A) Elektrik → Teknolojik aletleri çalıştırmak için kullanılır.

B) Doğal gaz → Okul internetine bağlanmak için kullanılır.

C) Su → Kişisel bakımımızı yapmak için kullanılır.


9) Aile büyüklerimiz ve bizim çocukluk dönemlerimizle ilgili aşağıdaki bilgilerden hangisi yanlıştır?


A) Büyüklerimizin daha fazla teknolojik imkanlara sahiplermiş.


B) Büyüklerimiz doğal ortamlarda oyun oynarlarmış.

C) Çocukluk kıyafetlerimiz farklıymış.

10) Hangi öğrenci kaynaklarını verimli kullanmaktadır?

A)  Dişlerimi fırçalarken musluğu açık bırakıyorum.

B)  Banyo yaparken küveti su doldurup yıkanırım.

C)  Banyo yaparken yeteri kadar sabun ve şampuan kullanırım.

11) ...▲..., aşırı yağışlar sonucu akarsular ve barajlardaki suların taşmasıdır.

...■....., yerin derinliklerindeki hareketler sonucu oluşan sarsıntıdır.

Yukarıdaki seçeneklere hangi boşluktakiler yazılmalıdır?

- ▲ - ■
- A) sel - deprem
B) yangın - sel
C) sel - yangın

12) Milletimiz, kendi kendini yönetme hakkını hani olay ile kazanmıştır?

- A) Atatürk'ün Samsun'a çıkmasıyla
B) TBMM'nin açılmasıyla
C) Cumhuriyetin ilanıyla

13) I. Suyu tasarruflu kullanmak
II. Tarım ilaçlarını aşırı kullanmak
III. Atık kirli suları denizlere dökmek

Yukarıda davranışlardan hangileri doğal çevreye zarar verir?

- A) Yalnız I B) II ve III C) I ve III

14) Kutup yıldızı → ▲

Ağaçların yosun tutan tarafı → ■

Karınca yuvalarının ağzı → ★

Yukarıda verilen yön bulma yöntemlerinden hangisi diğerlerinden farklı bir yönü gösterir?

- A) ★ B) ▲ C) ■