

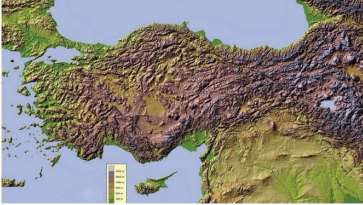
31) Aşağıdaki yön bulma yöntemlerinden hangisi ile diğerlerinden farklı bir yön bulunur?

- A) Karınca yuvasının girişi
- B) Kutup Yıldızı
- C) Ağaçların yosunlu tarafı
- D) Pusulanın renkli ucu

32) Hava durumları ile ilgili tahminleri yapan kurum aşağıdakilerden hangisidir?

- A) Sivil Havacılık Genel Müdürlüğü
- B) Milli Eğitim Bakanlığı
- C) Devlet Su İşleri Genel Müdürlüğü
- D) Meteoroloji Genel Müdürlüğü

33)



Yukarıdaki haritaya bakarak verilen bilgilerden hangisine ulaşamaz?

- A) Yeryüzü şekillerini görebiliriz.
- B) Yeşil renkle gösterilen yerlerde yükselti azdır.
- C) Bu tür haritalara siyasi harita denir.
- D) Koyu kahverengi ile gösterilen yerlerde dağlar bulunur.

34)



Görselde verilen doğal afet ile ilgili aşağıdaki bilgilerden hangisi yanlıştır?

- A) Aşırı yağışın sebep olduğu bir afettir.
- B) Bu afet ülkemizde pek görülmez.
- C) Can ve mal kayıplarına sebep olabilir.
- D) Sel felaketi anında bulunduğumuz yerden yükseğe çıkmak gerekir.

35)



Yukarıda, bir ildeki dört günlük hava durumu tahmini görülmektedir. Buna göre aşağıdaki bilgilerden hangisi söylenemez?

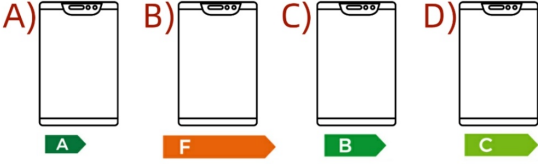
- A) Pazartesi günü yağmur beklenmektedir.
- B) Salı günü dışarıda dolaşmak için uygun bir hava olacaktır.
- C) Çarşamba günü hava derecesi sıfırın altına inecektir.
- D) Perşembe günü kar yağışına karşı dikkatli olmak gerekir.

36)



Bu sembol, genellikle buzdolabı, çamaşır makinesi ve bulaşık makinesinin üzerinde olur. O teknolojik ürünün ne kadar elektrik tükettiğini göstermek için kullanılan bir semboldür. Ürününüz yeşil renkteki harflerde ise enerji tasarrufu sağlamaktadır. Eğer E, F ve G harflerinde ise çok fazla elektrik tüketmektedir.

Yukarıda verilen bilgiye göre aşağıdaki teknolojik ürünlerden hangisinin kullanımı elektrik tüketimi açısından yanlış bir kullanım olur?



37)



Teknolojik ürünlerin kullanım kılavuzları ile ilgili aşağıda verilen bilgilerden hangisi yanlıştır?

- A) Cihazın yanlış kullanımını önlemek
- B) Cihazın nasıl kullanılacağı hakkında bilgi vermek
- C) Cihazın temizlik ve bakımı hakkında bilgi vermek
- D) Cihazı daha sonra kime satabileceğimizi belirlemek

38) Aşağıdakilerden hangisi cep telefonunun yanlış kullanımı ile ilgili bir örnektir?

- A) Eren, uzaktaki akrabasıyla telefonda görüştü.
- B) Ayşe, uzaktan eğitimde derslere cep telefonu ile katıldı.
- C) Fatih Bey, aracı sürerken bir yandan da cep telefonu ile ilgileniyordu.
- D) Buse Hanım, yaptığı çalışmayı müdüre cep telefonundan e-posta ile gönderdi


39)



Yukarıdaki görselde, icat ettiği ürünü test eden mucit kimdir?

- A) Graham Bell
- B) Thomas Edison
- C) Isaac Newton
- D) Albert Einstein

40)



Bu teknolojik ürünler, aşağıdaki kullanım alanlarından hangisine aittir?

- A) Sağlık
- B) Ulaşım
- C) Eğitim
- D) Haberleşme