

4. Sınıf Matematik Tartma, Sayılar ve Eş Küpler Testi Çöz

1. Bir tüccar, 7 t 540 kg bulgurun 4 t 850 kg lık kısmını satıyor.

Buna göre, tüccarın elinde kalan bulgur miktarı ne kadardır?

A) 2 t 690 kg

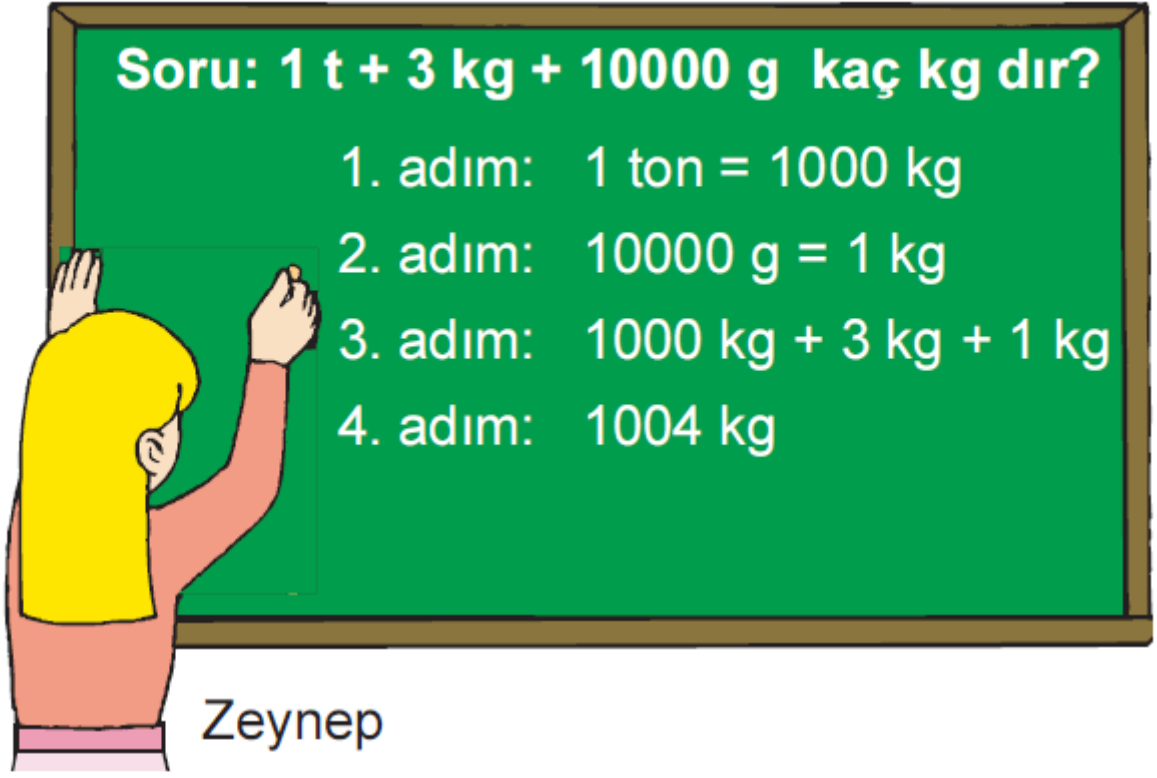
B) 2 t 710 kg

C) 3 t 310 kg

D) 3 t 690 kg

Cevap : A

2.



Sınıf tahtasındaki soruyu çözen Zeynep ilk hatayı kaçınıcı adımda yapmıştır?

- A) 1. adım
C) 3. adım

- B) 2. adım
D) 4. adım

Cevap : B

3. Bir market 2 ton 570 kg kurufasulyenin 987 kg ını satıyor.

Buna göre, geriye kaç kg kurufasulye kalmıştır?

A) 1263

B) 1364

C) 1476

D) 1583

Cevap : B

Meyve	Miktar (kg)
Kiraz	550
Armut	650
Elma	750
Muz	1050
Karpuz	1500
Kavun	500

Yukarıdaki tabloda bir manavın bir ayda sattığı meyve miktarları verilmiştir.

4., 5. ve 6. soruları bu tabloya göre cevaplayınız.

4. Manav toplam kaç ton meyve satmıştır?

A) 2

B) 3

C) 4

D) 5

Cevap : B

5. En çok hangi meyve satılmıştır?

A) Muz

B) Elma

C) Karpuz

D) Armut

Cevap : C

6. Satılan elma miktarı, armut miktarından kaç g fazladır?

A) 100000

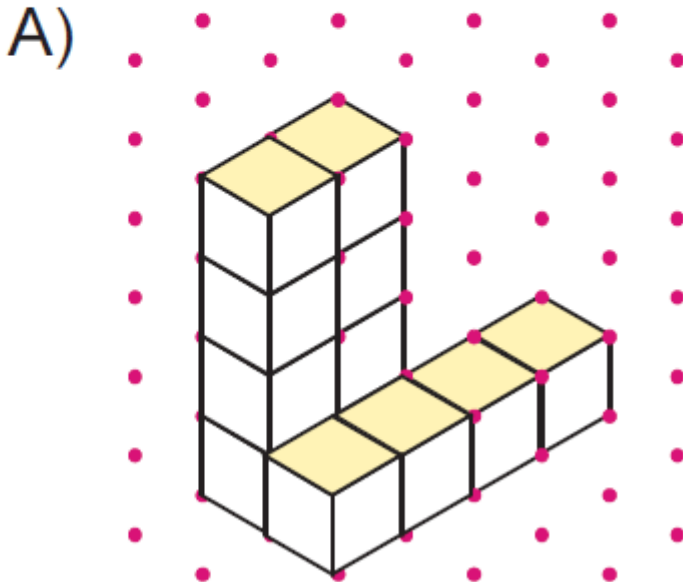
B) 10000

C) 1000

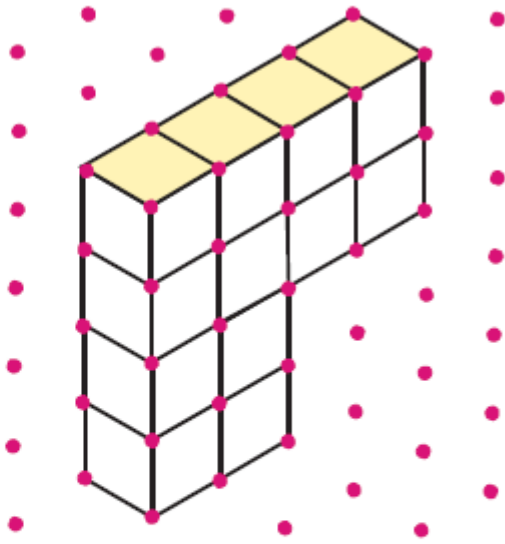
D) 100

Cevap : A

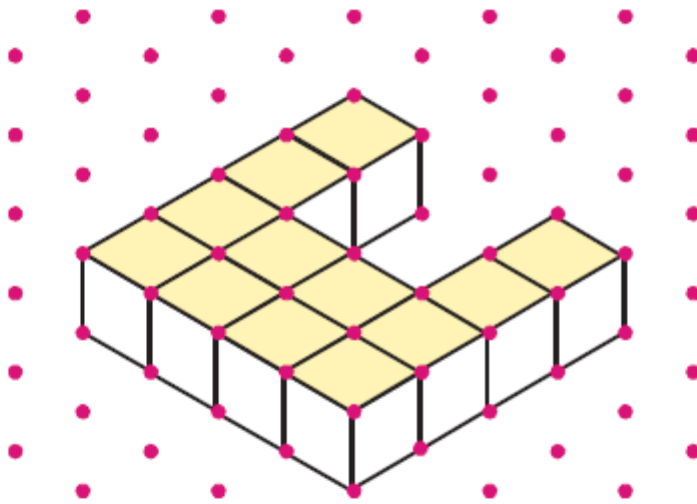
7. Aşağıdaki izometrik kâğıda çizilmiş yapılardan hangisindeki eş küp sayısı diğerlerinden farklıdır?




B)



C)



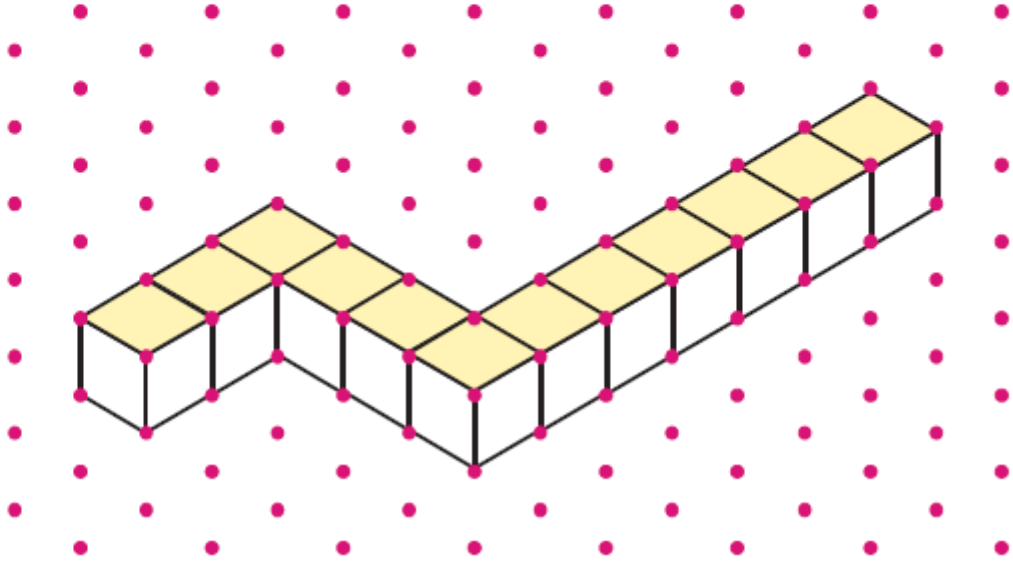
D)



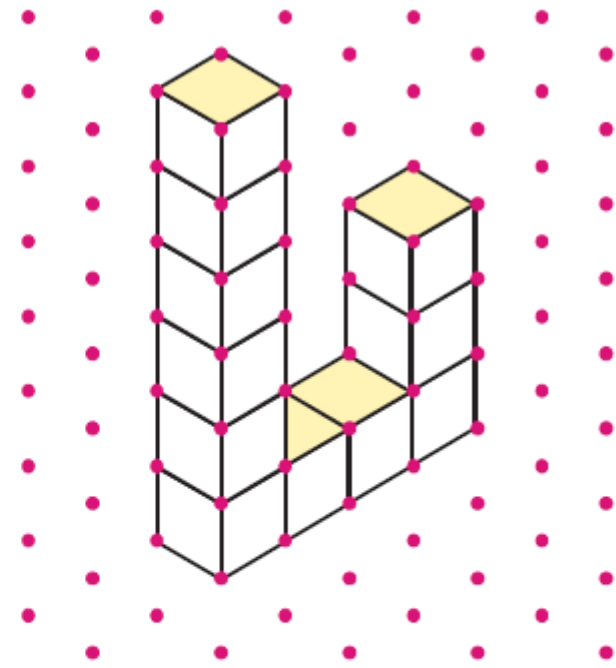
Cevap : A

0. Aşağıda izometrik kağıda çizilen yapıardan hangisinde eş küp sayısı diğerlerinden azdır?

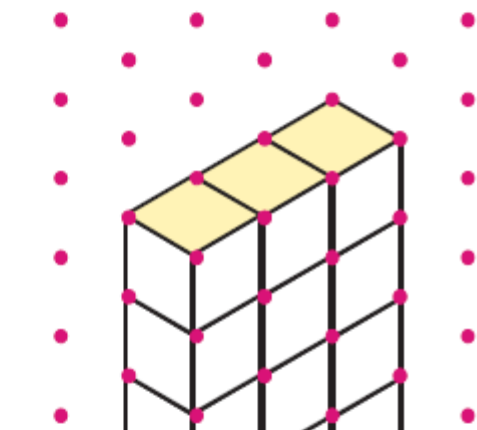
A)

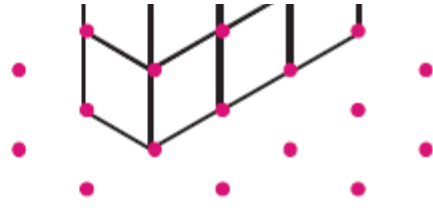


B)

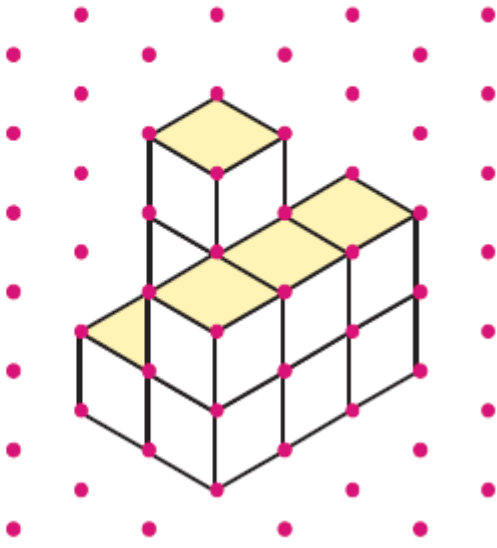


C)






D)



Cevap : A

9.



Yukarıda izometrik kağıda çizilen şekle en az kaç tane eş küp ilave edilirse bir küp elde edilir?

A) 4


B) 6

C) 8

D) 10

Cevap : A

10.



Yukarıdaki çiçeklerin ortalarında yazan sayıları ile yaprakları arasında belli bir ilişki vardır.

Buna göre, ortasında 5 yazan çiçeğin yaprak sayısı kaç olur?

A) 30

B) 25

C) 10

D) 5

Cevap : B

11.



Yukarıda sırt numaraları verilen futbolcular belli bir kurala göre dizilmiştir.

Buna göre, “?” yerine aşağıdaki sayılardan hangisi gelmelidir?

A) 35

B) 32

C) 31

D) 29

Cevap : B

12.



Yukarıda daire içine yazılan sayılar belli bir kurala göre dizilmiştir.

Buna göre, ▲ sembolü yerine aşağıdaki sayılardan hangisi gelmelidir?

A) 21

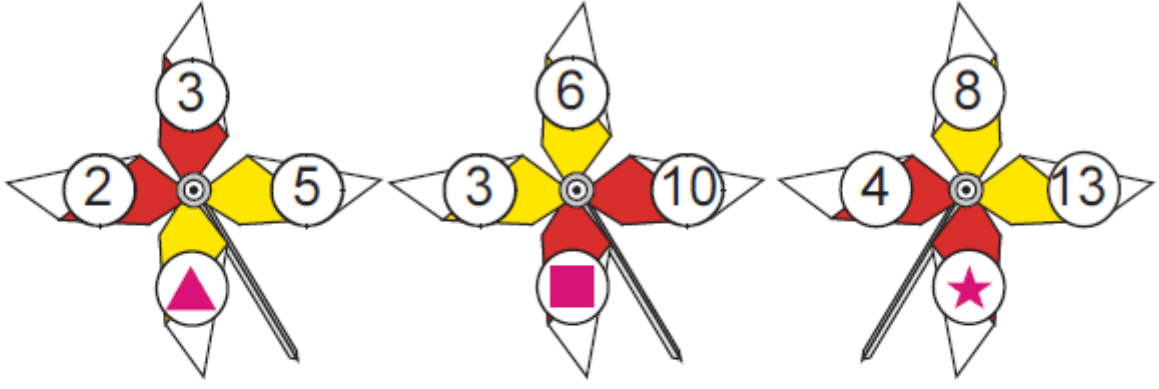
B) 22

C) 23

D) 24

Cevap : C

13.



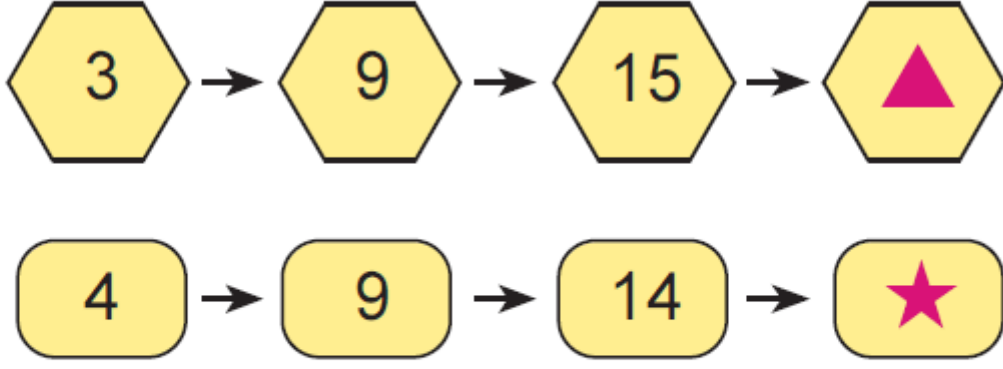
Yukarıdaki rüzgar gülleri üzerinde bulunan sayılar belirli bir kurala göre yerleştirilmiştir.

Buna göre ▲, ■ ve ★ sembolleri ile belirtilen yerlere aşağıdakilerden hangisi getirilmelidir?

	<u>▲</u>	<u>■</u>	<u>★</u>
A)	9	19	19
B)	9	15	16
C)	8	15	19
D)	8	17	16

Cevap : C

14.



Yukarıda belirli bir kurala göre dizilmiş örüntülerde ▲ ve ★ sembolleri yerine aşağıdakilerden hangisi getirilmelidir?

- | | | |
|----|----|----|
| | ▲ | ★ |
| A) | 18 | 16 |
| B) | 21 | 17 |
| C) | 26 | 18 |
| D) | 21 | 19 |

Cevap : C

[Online Test Çöz](#)

[Pdf İndir](#)