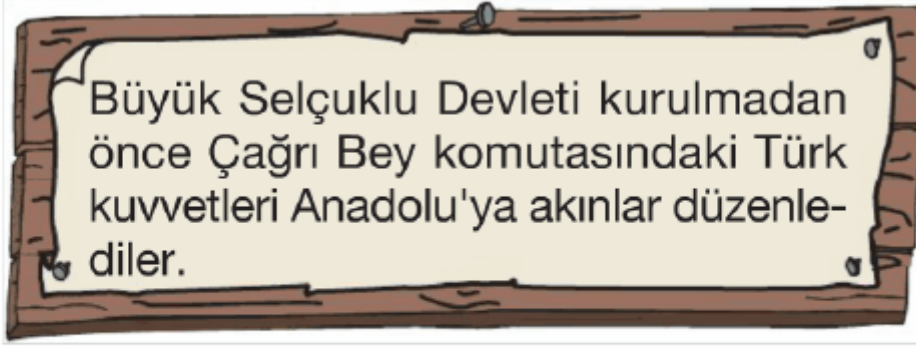


7. Sınıf Sosyal Bilgiler Türk Tarihine Yolculuk-1 Testi Çöz

1.



Büyük Selçuklu Devleti'nin kurulmasına kadar Anadolu'ya düzenlenen bu seferlerin amaçları arasında aşağıdakilerden hangisi gösterilemez?

- A) Bizans'ın direnişini kırmak
- B) Keşif hareketinde bulunmak
- C) İstanbul'u Bizans'tan almak
- D) Bizans Devleti'ni yıpratmak

Cevap : C

- 2. Anadolu'da kurulan ilk Türk beylikleri;**
- Fethettikleri yerlere Türkçe isimler verdiler.
 - Anadolu'da birçok cami, medrese, kervansaray ve darüşşifalar yaptılar.
 - Kuruldukları yerleri, Bizans ve Haçlı saldırılarına karşı korudular.

Bu bilgilere göre, ilk Türk beylikleriyle ilgili aşağıdaki yargılardan hangisine ulaşamaz?

- A) Anadolu'da, Türk kültürünü yerleştirmeye çalıştıklarına
- B) Anadolu'da, Türk siyasi birliğini sağladıklarına
- C) Anadolu'yu, dış saldırılara karşı korumak istediklerine
- D) Anadolu'yu, bayındır hale getirdiklerine

Cevap : B

3.



Malazgirt Savaşı'ndan sonra Sultan Alparslan, Anadolu'nun fethi ile görevlendirdiği komutanlara fethettikleri yerlerin idaresini bırakmıştır. Bu komutanlar, Anadolu'da Saltuklular, Mengücekliler, Artuklular ve Danişmentliler gibi farklı isimlerle ilk Türk devletlerini kurdular.

Bu durum, Selçuklularda aşağıdakilerden hangisini güçleştirmiştir?

- A) Siyasi birliğin sağlanmasını
- B) Askeri teşkilatın güçlendirilmesini
- C) Ekonomik kalkınmanın hızlanmasını
- D) Anadolu'da ticaretin canlanmasını

Cevap : A

4. Büyük Selçuklu Devleti'nin yıkılmasında; Melikşah'ın ölümünden sonra çocukları arasında taht kavgalarının başlaması, devletin kuruluşunda önemli rol oynayan Oğuzların isyan etmeleri, atabeylerin buldukları yerlerde bağımsızlıklarını ilan ederek devlet kurmaları etkili olmuştur.

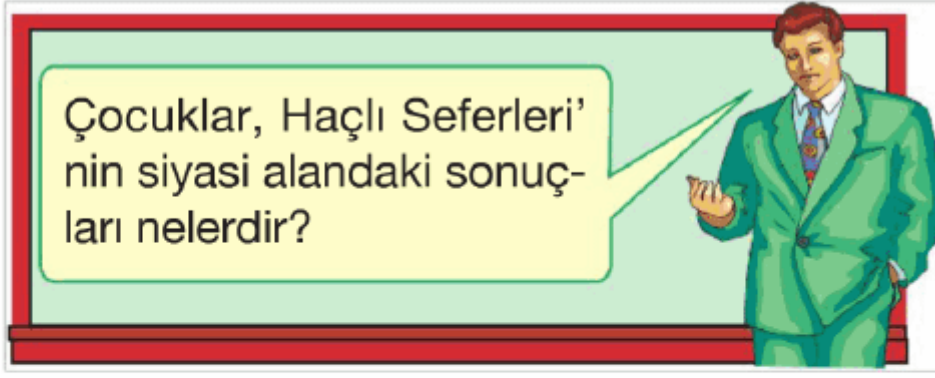


Bu bilgilere dayanarak Büyük Selçuklu Devleti'nin yıkılış nedenleri arasında, aşağıdakilerden hangisi gösterilemez?





- A) Merkezi otoritenin bozulması
- B) Ülkenin hükümdar ailesinin ortak malı olması
- C) Başka ülkelerden gelen dış baskıların etkisi
- D) Ülkede iç karışıklıkların yaşanması

Cevap : C

5.



Öğretmenin bu sorusuna, aşağıdaki öğrencilerden hangisi yanlış cevap vermiştir?

- A)  Doğu - Batı arasındaki ticaret gelişti.
- B)  Türklerin, Batı yönündeki ilerleyişi bir süre durdu.
- C)  Merkezi krallıklar güç kazandı.
- D)  İstanbul'un ve Balkanların fethi gecikti.

Cevap : B

6.



Malazgirt Savaşı'nın sonuçları ile ilgili ve- rilen bilgilerden hangisi yanlıştır?


- A) I B) II C) III D) IV

Cevap : B

7.



Aksaray Sulhan
Kervansarayı



Divriği Ulu
Camisi



Kayseri Gevher Nesibe
Darüşşifası

Anadolu'da kurulan ilk Türk beylikleri, Anadolu'da yerleştikleri yerlerde cami, medrese, darüşşifa, kervansaray, imarethane gibi birçok eser yapmışlardır.

Anadolu'da kurulan ilk Türk beyliklerinin bu faaliyetleriyle ilgili aşağıdakilerden hangisine ulaşamaz?

- A) Anadolu'nun bayındır hale gelmesine
- B) Anadolu'da Türk kültürünün yayılmasına
- C) Anadolu'nun tamamen Türk hakimiyetine girmesine
- D) Sağlık, eğitim ve ticari alanda gelişmelerin yaşanmasına

Cevap : C

8.



Yukarıda Malazgirt Savaşı'ndan sonra Anadolu'nun haritası verilmiştir.

Bu haritaya bakılarak aşağıdakilerden hangisi söylenemez?

- A) Anadolu'nun tamamı Türklerin eline geçmiştir.
- B) Anadolu'da siyasi birlik yoktur.
- C) Türkiye Selçuklularının sınırları, Karadeniz ve Akdeniz'e ulaşmıştır.
- D) Türkler Anadolu'da farklı adlarla beylikler kurmuşlardır.

Cevap : A

9.

Osmanlı Devleti, özellikle Anadolu, Suriye ve Mısır bölgelerine egemen olduğunda, bu ülkeler için stratejik ve üs konumunda olan Kıbrıs, Venedik idaresinde idi. Avrupa ve Asya'yı birbirine bağlayan ticaret yolu Kıbrıs'tan geçmekteydi. Kıbrıs'ta üslenen korsanlar yolcu ve yük gemilerine büyük zarar veriyorlardı.



Bu bilgilere göre, Osmanlı Devleti'nin Kıbrıs'ı fethinin nedenleri arasında, aşağıdakilerden hangisi gösterilemez?

- A) Akdeniz'deki Osmanlı hakimiyetini güçlendirmek
- B) Deniz ticaret yollarının güvenliğini sağlamak
- C) Kıyı sınırlarının güvenliğini sağlamak
- D) Karadeniz'i, bir Türk gölü haline getirmek

Cevap : A

10.



26 Ağustos 1071 yılında Büyük Selçuklular ile Bizanslılar arasında yapılan Malazgirt Savaşı'nı Selçuklular kazanmıştır. Bu zafer ile Anadolu'nun kapıları Türklere açılmış ve Sultan Alparslan komutanlarına Büyük Selçuklulara bağlı olmak şartıyla Anadolu'da beylikler kurmalarını istemiştir.

Bu bilgiye göre, Malazgirt Savaşı'nın aşağıdakilerden hangisine ortam hazırladığı söylenemez?

- A) Bizans'ın Anadolu'daki egemenliğinin zayıflamasına
- B) Anadolu'nun Türkleşme sürecinin hızlanmasına
- C) Anadolu'da beylikler döneminin başlamasına
- D) Anadolu Türk siyasi birliğinin kurulmasına

Cevap : A

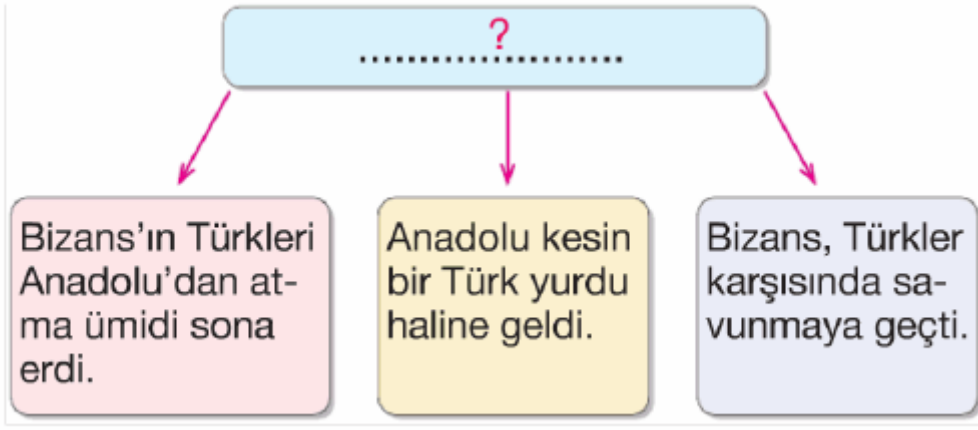
11. Köseadağ Savaşı'ndan sonra Anadolu Moğol egemenliğı altına girmiştir. Moğol egemenliğine girmek istemeyen uç bölgelerde bulunan Türkmenler bağımsızlıklarını ilan etmişler, böylece Anadolu'da Türk Beylikleri yeniden kurulmuştur.

Bu durum, aşağıdakilerden hangisinin bir göstergesidir?

- A) Anadolu'da, Bizans tehdidinin yeniden başladığının
- B) Bütün beyliklerin, Moğollara karşı birleştiğinin
- C) Anadolu'da, Türk siyasi birliğinin bozulduğunun
- D) Anadolu'da, Moğol kültürünün yayıldığıının

Cevap : C

12.



Yukarıdaki diyagrama verilebilecek en uygun başlık aşağıdakilerden hangisidir?

- A) Malazgirt Savaşı'nın Sonuçları
- B) Köseadağ Savaşı'nın Sonuçları
- C) Miryokefalon Savaşı'nın sonuçları
- D) Ankara Savaşı'nın Sonuçları

Cevap : C

13.

Anadolu Selçukluları'nda şehirlerde oturan esnaflar meslek gruplarına göre kendi aralarında Ahi Teşkilatını kurmuşlardır. Bu teşkilatta her esnaf grubu bir loncayı oluşturmuştur. Ürünlerin kaliteli yapılmasını ve fiyatların belirlenmesi loncaların görevleri arasında idi.

Bu bilgilere göre;

- I. Ülke yönetiminde söz sahibi olmuşlardır.
- II. Üretici ve tüketicinin yararına çalışmışlardır.
- III. Esnaflar kendi aralarında örgütlenmiştir.

gibi yargılardan hangisi ya da hangilerine ulaşılabilir?

- | | |
|-------------|--------------|
| A) I ve II | B) II ve III |
| C) I ve III | D) Yalnız II |

Cevap : B

14. 1243 yılında Anadolu Selçuklu Devleti ile Moğollar arasında yapılan Köseadağ Savaşı'nı Moğollar kazandı.

Bu savaş sonunda;

- Anadolu Selçukluları, Moğol egemenliğine girdi.
- Anadolu'da yeni Türk beylikleri kuruldu.
- Anadolu Selçuklu Devleti yıkılış sürecine girdi.

Bu bilgilere bakılarak aşağıdaki yargılardan hangisine ulaşılabilir?

- A) Anadolu Türk siyasi birliği bozuldu.
- B) Selçuklular, Moğolların denetimine girdi.
- C) Anadolu'da Türk varlığı sona erdi.
- D) Anadolu Selçukluları, bağımsızlıklarını kaybetti.

Cevap : C

[Online Test Çöz](#)

[Pdf İndir](#)