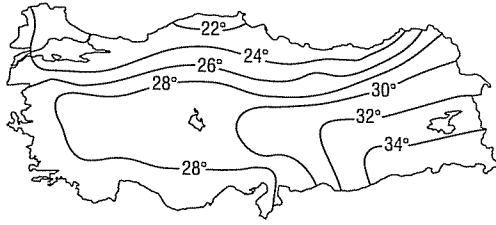


1.

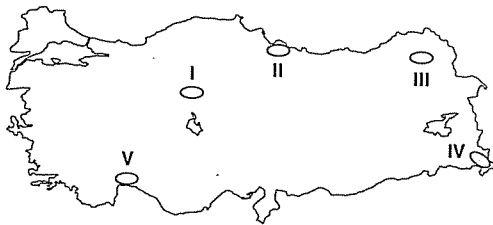


Yukarıda, Türkiye'nin temmuz ayı indirgenmiş izo-term haritası verilmiştir.

Haritayla ilgili aşağıda verilen açıklamalardan hangisi yanlıştır?

- A) En yüksek sıcaklıkla, en düşük sıcaklık arasındaki fark 10 °C'den azdır.
- B) En yüksek sıcaklıklar Güneydoğu Anadolu'dadır.
- C) Doğu Anadolu'da enleme bağlı sıcaklık değişimi diğer bölgelerdekinden daha fazladır.
- D) Sıcaklık genelde güneyden kuzeye doğru azalmaktadır.
- E) Sıcaklıklar Akdeniz kıyılarında Karadeniz kıyılarına göre daha fazladır.

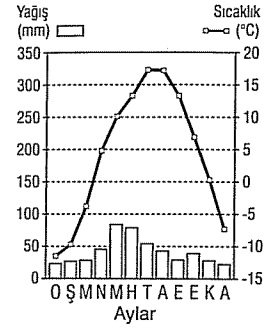
2. Türkiye'de kıydan iç kesimlere doğru gidildikçe ve deniz seviyesinden yükseklerle çıkıldıkça yıllık ortalama sıcaklıklar azalır.



Haritada numaralarla gösterilen yerlerden hangilerinin yıllık sıcaklık ortalamalarının farklı olmasında başlıca etken yükseltidir?

- A) I ve II
- B) I ve III
- C) II ve IV
- D) II ve V
- E) III ve V

3.



Yukarıda aylık ortalama sıcaklık ve yağış grafiği verilen merkez aşağıdaki bölümlerden hangisinde yer alır?

- A) Antalya
- B) Kıyı Ege
- C) Doğu Karadeniz
- D) Konya
- E) Erzurum-Kars

4. Deniz seviyesinden yükseltisi fazla olan yerlerde gerçek sıcaklık ile indirgenmiş sıcaklık arasındaki fark fazladır.

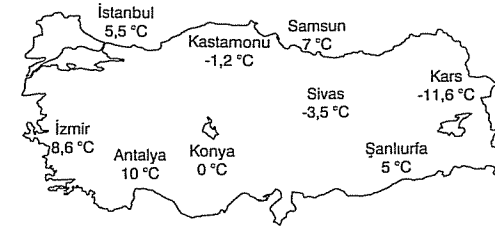
Bu durum aşağıdaki merkezlerin hangisinde daha belirgindir?

- A) Bursa
- B) İzmir
- C) Edirne
- D) Diyarbakır
- E) Konya

5. Aşağıdakilerden hangisi sıcaklığın yükseltiye göre değişmesiyle açıklanamaz?

- A) Kaçkar dağlarında bitki örtüsünün yamaç boyunca kuşaklar oluşturması
- B) Kars'ta karla örtülü gün sayısının Eskişehir'den daha fazla olması
- C) İzmir'de karla örtülü gün sayısının Sivas'tan daha az olması
- D) Antalya'da kar yağışlı gün sayısının Samsun'dan az olması
- E) Bursa'da yağmur yağarken Uludağ'da kar yağması

6.

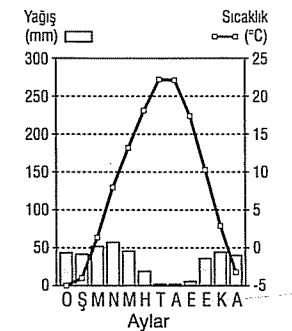


Yukarıdaki haritada bazı illerin ocak ayı sıcaklık ortalamaları verilmiştir.

Aşağıdakilerden hangisinde, verilen illerin sıcaklıklarının farklı olmasına yol açan etken yanlıştır verilmiştir?

- A) Samsun'un Sivas'tan daha sıcak olması denizlikle ilgilidir.
- B) Antalya'nın İstanbul'dan daha sıcak olması enleme ilgilidir.
- C) Kars'ın Sivas'tan daha soğuk olması yükseltiyle ilgilidir.
- D) Konya'nın İzmir'den daha soğuk olması denizden uzak olma ve yükselti ile ilgilidir.
- E) Antalya'nın Şanlıurfa'dan daha sıcak olması enleme ilgilidir.

7.



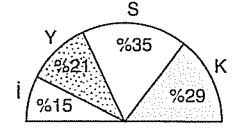
Yukarıda sıcaklık ve yağış grafiği verilen merkezle ilgili aşağıdaki yargılardan hangisine ulaşılabilir?

- A) En fazla yağış ilkbaharda düşer.
- B) Kış aylarında don olayları etkili olur.
- C) Yıllık sıcaklık farkı 20°C'den fazladır.
- D) Bitki örtüsü ormandır.
- E) Yağış rejimi düzensizdir.

8.



Yandaki grafikte yağışın mevsimlere dağılışı oranları gösterilen merkez, yukarıdaki haritada işaretli noktalardan hangisinde yer alır?



- A) I
- B) II
- C) III
- D) IV
- E) V

9. Türkiye'de yağışın dağılışı ile ilgili aşağıdakilerden hangisi söylenemez?

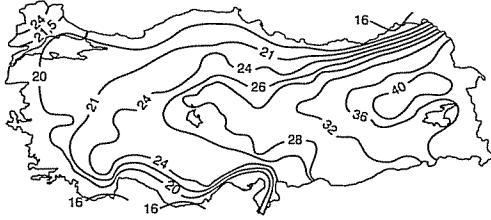
- A) Marmara Bölgesi'nin diğer kıyı bölgelerine göre daha az yağış almasında yükseltinin az olması etkilidir.
- B) Rize'nin yağış miktarının, Samsun'un yağış miktarından fazla olması dağların kıyıya yakın ve yüksek olmasıyla ilgilidir.
- C) Kars'ın yağış miktarının Ankara'dan fazla olmasında yükseltinin fazla olması etkilidir.
- D) Ege kıyılarında yağışın Akdeniz kıyılarına göre daha az olmasında dağların denize dik uzanması etkilidir.
- E) Türkiye'de kış yağışlarının fazla olmasında üç tarafının denizlerle çevrili olması etkilidir.

10. Coğrafi özelliklerinden dolayı dünyada sadece bir yörede görülen bitkilere endemik bitki denir.

Aşağıdakilerden hangisi Türkiye'de görülen endemik bitkilerden biridir?

- A) Kasnak meşesi
- B) Ladin
- C) Kızılcım
- D) Kocayemiş
- E) Keçi boynuzu

11. Aşağıdaki haritada Türkiye'nin en yüksek sıcaklıkları ile en düşük sıcaklıkları arasındaki farklar gösterilmiştir.



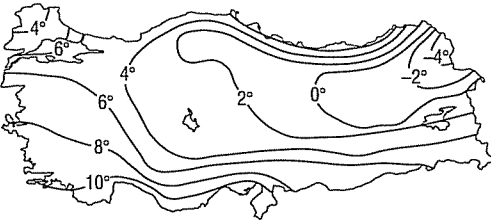
Sıcaklık farkının kıydan iç kesimlere ve batıdan doğuya doğru artmasında,

- I. enlem
- II. yükselti
- III. karasalılık

faktörlerinden hangileri etkili olmuştur?

- A) Yalnız I
- B) Yalnız III
- C) I ve II
- D) I ve III
- E) II ve III

12.



Yukarıda Türkiye'nin ocak ayı indirgenmiş izoterm haritası verilmiştir.

Buna göre, en düşük sıcaklıkların Kuzeydoğu Anadolu'da görülmesinde;

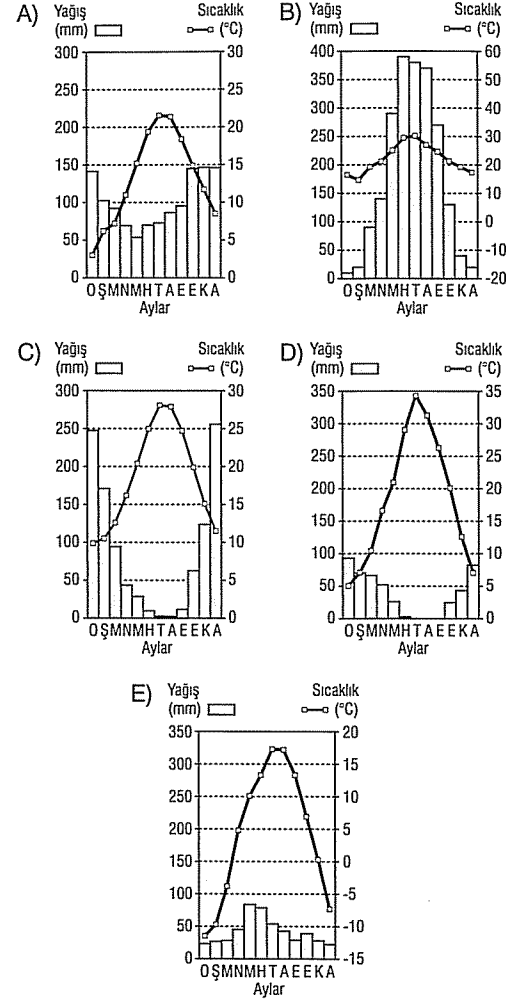
- I. daha kuzeyde yer alma
- II. nemli olma
- III. deniz etkisine kapalı olma
- IV. soğuk hava kütlelerinin etkisinde kalma

etmenlerinden hangileri etkilidir?

- A) Yalnız II
- B) Yalnız IV
- C) I ve III
- D) I, II ve III
- E) I, III ve IV

13. Aşağıda beş merkezin aylık ortalama sıcaklık ve yağış grafikleri verilmiştir.

Grafiklerden hangisi Türkiye'de bir merkeze ait değildir?



14. Aşağıdaki rüzgarlardan hangisi Türkiye'de sıcaklığı artırır?

- A) Poyraz
- B) Karayel
- C) Etezyen
- D) Yıldız
- E) Keşişleme